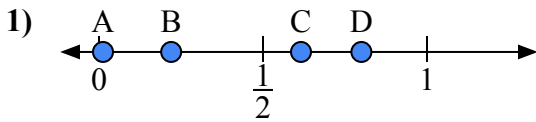
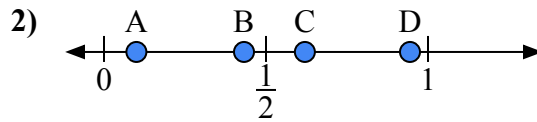




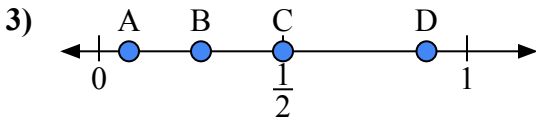
Используйте числовую прямую для ответа на вопрос.

**ОТВЕТЫ**

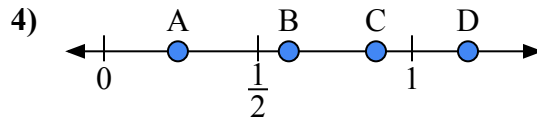
- a) Какая буква наилучшим образом отражает значение 0,80?  
b) Какая буква наилучшим образом отражает значение 0,22?



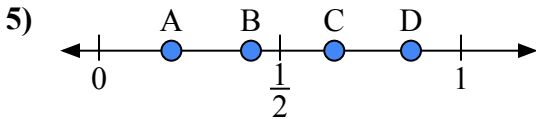
- a) Какая буква наилучшим образом отражает значение 0,1?  
b) Какая буква наилучшим образом отражает значение 0,62?



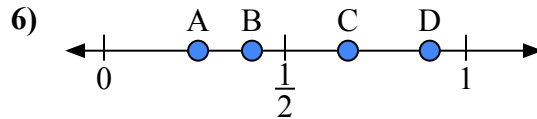
- a) Какая буква наилучшим образом отражает значение 0,5?  
b) Какая буква наилучшим образом отражает значение 0,89?



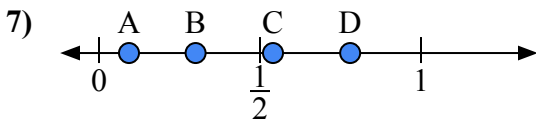
- a) Какая буква наилучшим образом отражает значение 0,6?  
b) Какая буква наилучшим образом отражает значение 0,24?



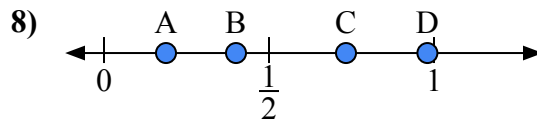
- a) Какая буква наилучшим образом отражает значение 0,20?  
b) Какая буква наилучшим образом отражает значение 0,65?



- a) Какая буква наилучшим образом отражает значение 0,90?  
b) Какая буква наилучшим образом отражает значение 0,26?



- a) Какая буква наилучшим образом отражает значение 0,3?  
b) Какая буква наилучшим образом отражает значение 0,78?

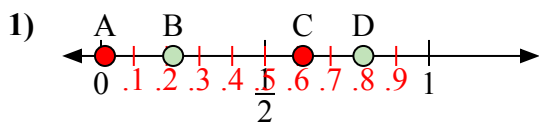


- a) Какая буква наилучшим образом отражает значение 0,40?  
b) Какая буква наилучшим образом отражает значение 0,98?

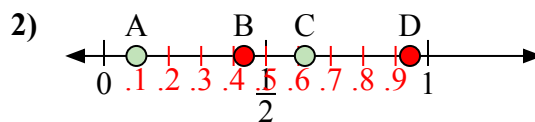
1. \_\_\_\_\_  
2. \_\_\_\_\_  
3. \_\_\_\_\_  
4. \_\_\_\_\_  
5. \_\_\_\_\_  
6. \_\_\_\_\_  
7. \_\_\_\_\_  
8. \_\_\_\_\_



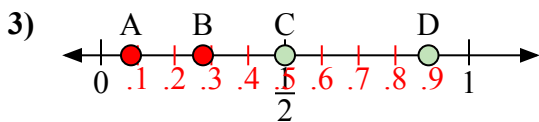
Используйте числовую прямую для ответа на вопрос.

**ОТВЕТЫ**

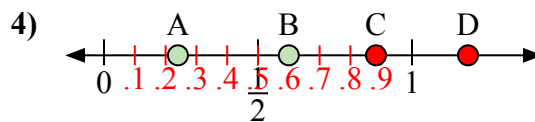
- a) Какая буква наилучшим образом отражает значение 0,80?  
b) Какая буква наилучшим образом отражает значение 0,22?



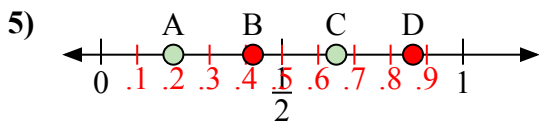
- a) Какая буква наилучшим образом отражает значение 0,1?  
b) Какая буква наилучшим образом отражает значение 0,62?



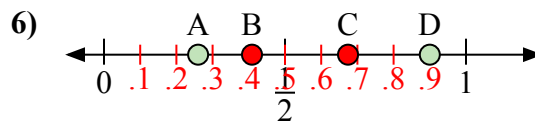
- a) Какая буква наилучшим образом отражает значение 0,5?  
b) Какая буква наилучшим образом отражает значение 0,89?



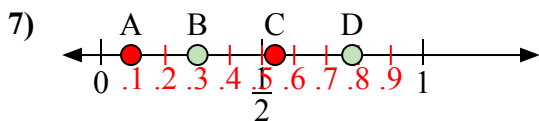
- a) Какая буква наилучшим образом отражает значение 0,6?  
b) Какая буква наилучшим образом отражает значение 0,24?



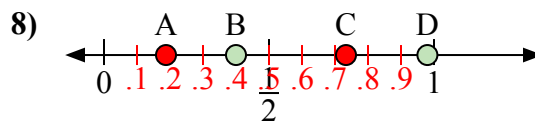
- a) Какая буква наилучшим образом отражает значение 0,20?  
b) Какая буква наилучшим образом отражает значение 0,65?



- a) Какая буква наилучшим образом отражает значение 0,90?  
b) Какая буква наилучшим образом отражает значение 0,26?



- a) Какая буква наилучшим образом отражает значение 0,3?  
b) Какая буква наилучшим образом отражает значение 0,78?



- a) Какая буква наилучшим образом отражает значение 0,40?  
b) Какая буква наилучшим образом отражает значение 0,98?

1. D B2. A C3. C D4. B A5. A C6. D A7. B D8. B D