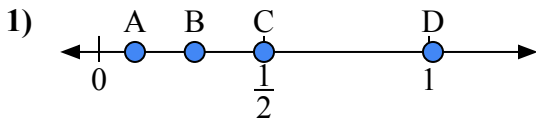
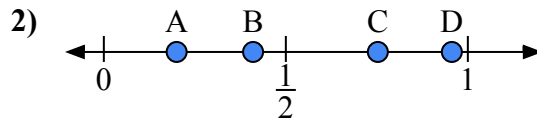




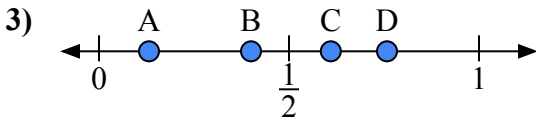
Используйте числовую прямую для ответа на вопрос.

ОТВЕТЫ

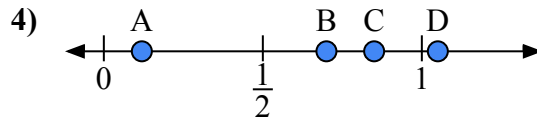
- a) Какая буква наилучшим образом отражает значение 0,5?
b) Какая буква наилучшим образом отражает значение 0,29?



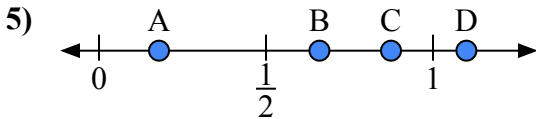
- a) Какая буква наилучшим образом отражает значение 0,20?
b) Какая буква наилучшим образом отражает значение 0,41?



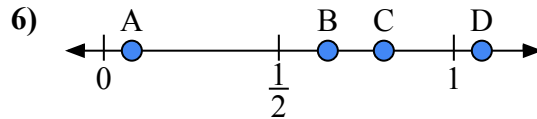
- a) Какая буква наилучшим образом отражает значение 0,40?
b) Какая буква наилучшим образом отражает значение 0,61?



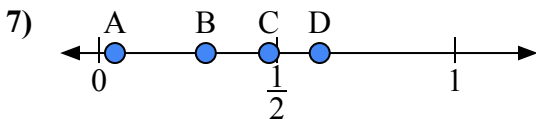
- a) Какая буква наилучшим образом отражает значение 0,70?
b) Какая буква наилучшим образом отражает значение 0,85?



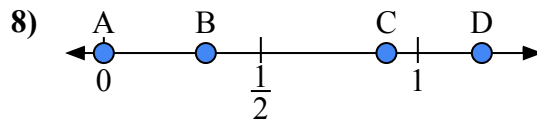
- a) Какая буква наилучшим образом отражает значение 1,1?
b) Какая буква наилучшим образом отражает значение 0,66?



- a) Какая буква наилучшим образом отражает значение 0,8?
b) Какая буква наилучшим образом отражает значение 0,08?



- a) Какая буква наилучшим образом отражает значение 0,30?
b) Какая буква наилучшим образом отражает значение 0,62?

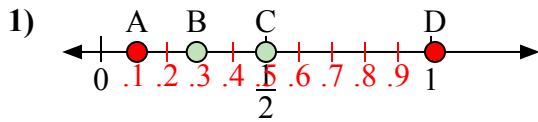


- a) Какая буква наилучшим образом отражает значение 0,00?
b) Какая буква наилучшим образом отражает значение 0,90?

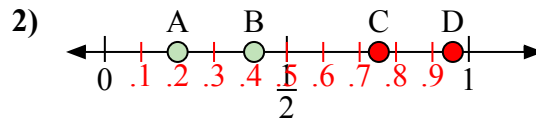
1. _____
2. _____
3. _____
4. _____
5. _____
6. _____
7. _____
8. _____



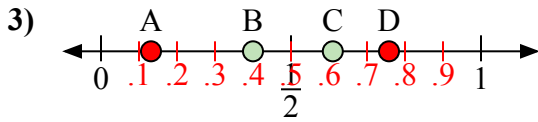
Используйте числовую прямую для ответа на вопрос.



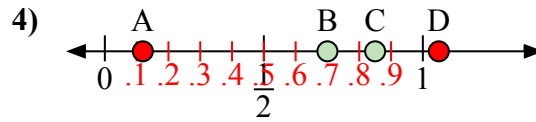
- a) Какая буква наилучшим образом отражает значение 0,5?
b) Какая буква наилучшим образом отражает значение 0,29?



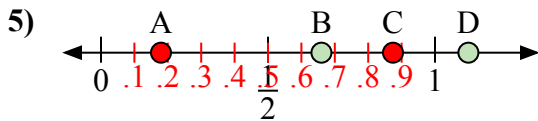
- a) Какая буква наилучшим образом отражает значение 0,20?
b) Какая буква наилучшим образом отражает значение 0,41?



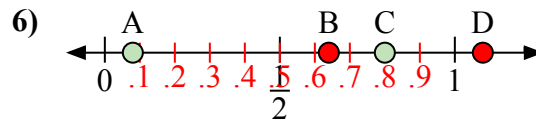
- a) Какая буква наилучшим образом отражает значение 0,40?
b) Какая буква наилучшим образом отражает значение 0,61?



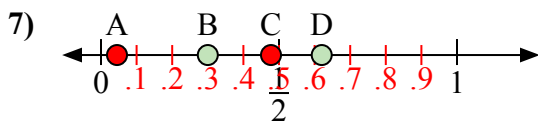
- a) Какая буква наилучшим образом отражает значение 0,70?
b) Какая буква наилучшим образом отражает значение 0,85?



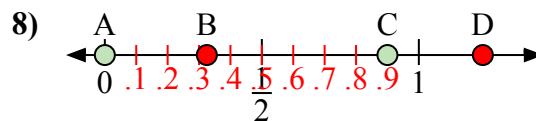
- a) Какая буква наилучшим образом отражает значение 1,1?
b) Какая буква наилучшим образом отражает значение 0,66?



- a) Какая буква наилучшим образом отражает значение 0,8?
b) Какая буква наилучшим образом отражает значение 0,08?



- a) Какая буква наилучшим образом отражает значение 0,30?
b) Какая буква наилучшим образом отражает значение 0,62?



- a) Какая буква наилучшим образом отражает значение 0,00?
b) Какая буква наилучшим образом отражает значение 0,90?

ОТВЕТЫ

1. C B
2. A B
3. B C
4. B C
5. D B
6. C A
7. B D
8. A C