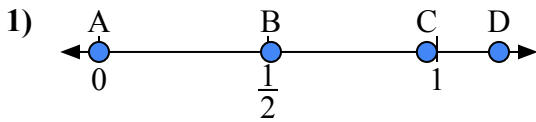
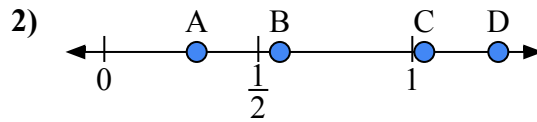




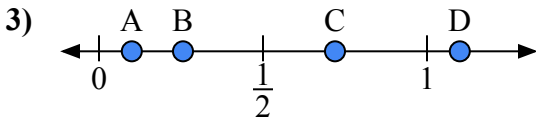
Используйте числовую прямую для ответа на вопрос.

ОТВЕТЫ

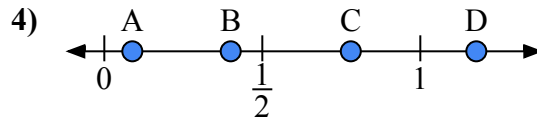
- a) Какая буква наилучшим образом отражает значение 0,00?
b) Какая буква наилучшим образом отражает значение 0,97?



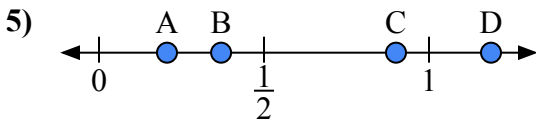
- a) Какая буква наилучшим образом отражает значение 0,30?
b) Какая буква наилучшим образом отражает значение 0,57?



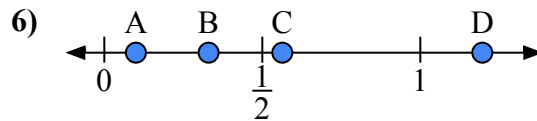
- a) Какая буква наилучшим образом отражает значение 1,10?
b) Какая буква наилучшим образом отражает значение 0,10?



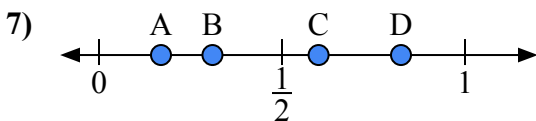
- a) Какая буква наилучшим образом отражает значение 0,4?
b) Какая буква наилучшим образом отражает значение 0,78?



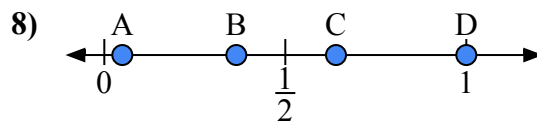
- a) Какая буква наилучшим образом отражает значение 0,90?
b) Какая буква наилучшим образом отражает значение 0,37?



- a) Какая буква наилучшим образом отражает значение 0,1?
b) Какая буква наилучшим образом отражает значение 0,33?



- a) Какая буква наилучшим образом отражает значение 0,6?
b) Какая буква наилучшим образом отражает значение 0,31?

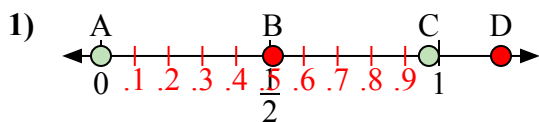


- a) Какая буква наилучшим образом отражает значение 1,0?
b) Какая буква наилучшим образом отражает значение 0,64?

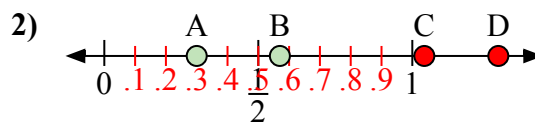
1. _____
2. _____
3. _____
4. _____
5. _____
6. _____
7. _____
8. _____



Используйте числовую прямую для ответа на вопрос.

ОТВЕТЫ

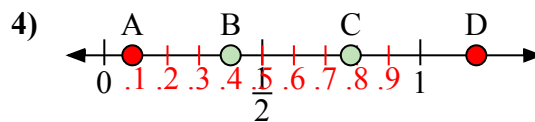
- a) Какая буква наилучшим образом отражает значение 0,00?
b) Какая буква наилучшим образом отражает значение 0,97?



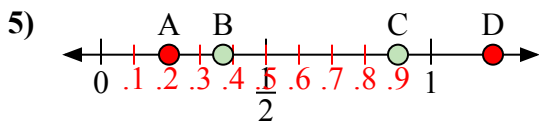
- a) Какая буква наилучшим образом отражает значение 0,30?
b) Какая буква наилучшим образом отражает значение 0,57?



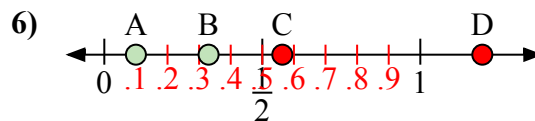
- a) Какая буква наилучшим образом отражает значение 1,10?
b) Какая буква наилучшим образом отражает значение 0,10?



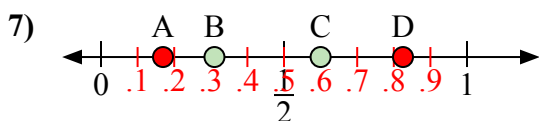
- a) Какая буква наилучшим образом отражает значение 0,4?
b) Какая буква наилучшим образом отражает значение 0,78?



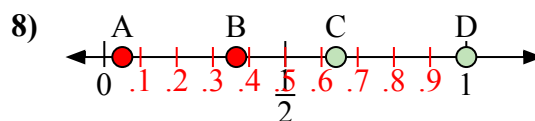
- a) Какая буква наилучшим образом отражает значение 0,90?
b) Какая буква наилучшим образом отражает значение 0,37?



- a) Какая буква наилучшим образом отражает значение 0,1?
b) Какая буква наилучшим образом отражает значение 0,33?



- a) Какая буква наилучшим образом отражает значение 0,6?
b) Какая буква наилучшим образом отражает значение 0,31?



- a) Какая буква наилучшим образом отражает значение 1,0?
b) Какая буква наилучшим образом отражает значение 0,64?

1. A C2. A B3. D A4. B C5. C B6. A B7. C B8. D C