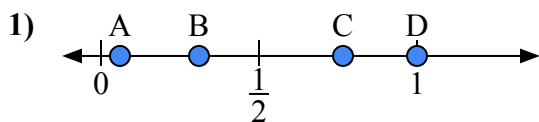
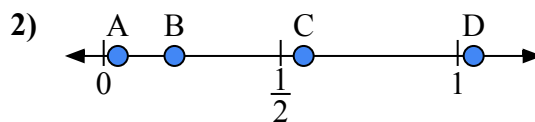




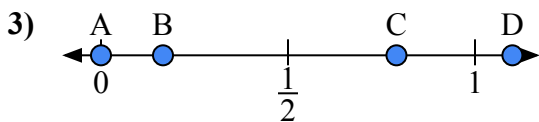
Используйте числовую прямую для ответа на вопрос.

**ОТВЕТЫ**

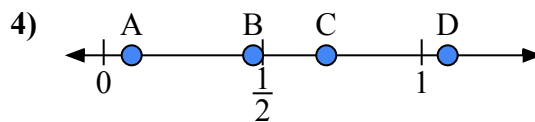
- a) Какая буква наилучшим образом отражает значение 1,0?  
b) Какая буква наилучшим образом отражает значение 0,06?



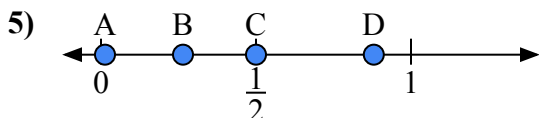
- a) Какая буква наилучшим образом отражает значение 0,20?  
b) Какая буква наилучшим образом отражает значение 0,04?



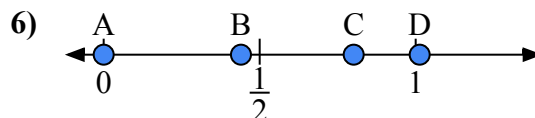
- a) Какая буква наилучшим образом отражает значение 1,1?  
b) Какая буква наилучшим образом отражает значение 0,79?



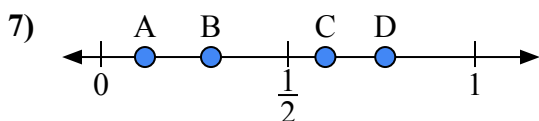
- a) Какая буква наилучшим образом отражает значение 0,70?  
b) Какая буква наилучшим образом отражает значение 0,47?



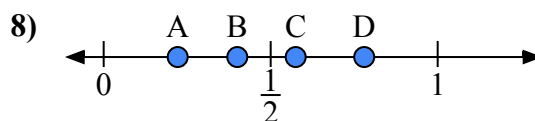
- a) Какая буква наилучшим образом отражает значение 0,5?  
b) Какая буква наилучшим образом отражает значение 0,88?



- a) Какая буква наилучшим образом отражает значение 0,0?  
b) Какая буква наилучшим образом отражает значение 0,44?



- a) Какая буква наилучшим образом отражает значение 0,60?  
b) Какая буква наилучшим образом отражает значение 0,76?

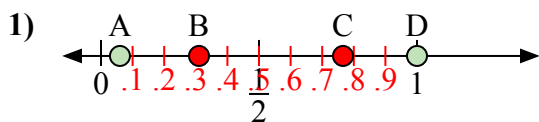


- a) Какая буква наилучшим образом отражает значение 0,40?  
b) Какая буква наилучшим образом отражает значение 0,78?

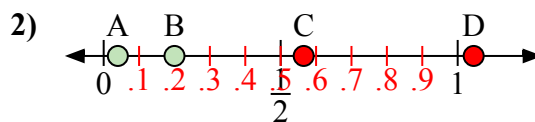
1. \_\_\_\_\_  
2. \_\_\_\_\_  
3. \_\_\_\_\_  
4. \_\_\_\_\_  
5. \_\_\_\_\_  
6. \_\_\_\_\_  
7. \_\_\_\_\_  
8. \_\_\_\_\_



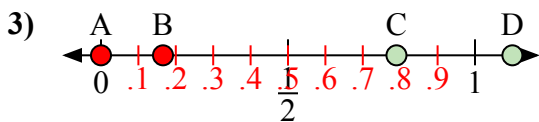
Используйте числовую прямую для ответа на вопрос.

**ОТВЕТЫ**

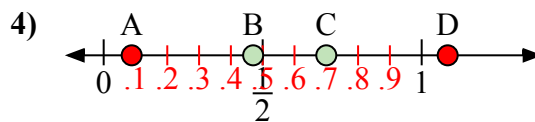
- a) Какая буква наилучшим образом отражает значение 1,0?  
b) Какая буква наилучшим образом отражает значение 0,06?



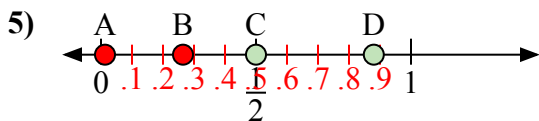
- a) Какая буква наилучшим образом отражает значение 0,20?  
b) Какая буква наилучшим образом отражает значение 0,04?



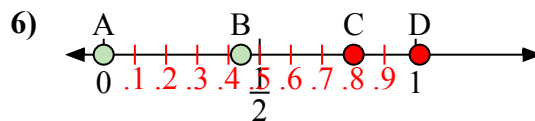
- a) Какая буква наилучшим образом отражает значение 1,1?  
b) Какая буква наилучшим образом отражает значение 0,79?



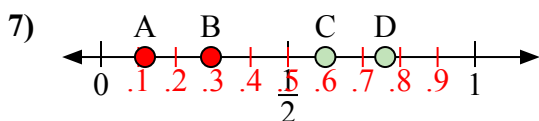
- a) Какая буква наилучшим образом отражает значение 0,70?  
b) Какая буква наилучшим образом отражает значение 0,47?



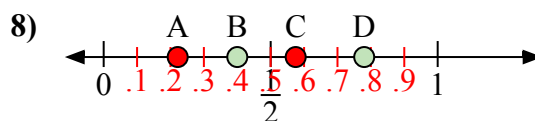
- a) Какая буква наилучшим образом отражает значение 0,5?  
b) Какая буква наилучшим образом отражает значение 0,88?



- a) Какая буква наилучшим образом отражает значение 0,0?  
b) Какая буква наилучшим образом отражает значение 0,44?



- a) Какая буква наилучшим образом отражает значение 0,60?  
b) Какая буква наилучшим образом отражает значение 0,76?



- a) Какая буква наилучшим образом отражает значение 0,40?  
b) Какая буква наилучшим образом отражает значение 0,78?

1. D A2. B A3. D C4. C B5. C D6. A B7. C D8. B D