



Расположите данные сектора по возрастанию, по наличию закрашенных частей.

ОТВЕТЫ

об)	A	B	C	D	маленький <u>0.2 - B</u>	об. B,D,C,A
					<u>0.6 - D</u>	
					<u>0.86 - C</u>	
					большой <u>0.91 - A</u>	
1)	A	B	C	D	маленький _____	1. _____
					большой _____	2. _____
2)	A	B	C	D	маленький _____	3. _____
					большой _____	4. _____
3)	A	B	C	D	маленький _____	5. _____
					большой _____	6. _____
4)	A	B	C	D	маленький _____	7. _____
					большой _____	8. _____
5)	A	B	C	D	маленький _____	
					большой _____	
6)	A	B	C	D	маленький _____	
					большой _____	
7)	A	B	C	D	маленький _____	
					большой _____	
8)	A	B	C	D	маленький _____	
					большой _____	



Расположите данные сектора по возрастанию, по наличию закрашенных частей.

						<u>ОТВЕТЫ</u>
об)	A	B	C	D	маленький $\frac{0.2}{0.6}$ - B $\frac{0.6}{0.86}$ - D $\frac{0.86}{0.91}$ - A большой	об. B,D,C,A
1)	A	B	C	D	маленький $\frac{0.31}{0.8}$ - A $\frac{0.8}{0.8}$ - B $\frac{0.8}{0.86}$ - C большой	1. A,B,B,C 2. D,B,A,C
2)	A	B	C	D	маленький $\frac{0.09}{0.37}$ - D $\frac{0.6}{0.6}$ - A $\frac{0.8}{0.8}$ - C большой	3. D,A,B,C 4. D,C,A,B
3)	A	B	C	D	маленький $\frac{0.16}{0.45}$ - D $\frac{0.58}{0.7}$ - B большой $\frac{0.7}{0.8}$ - C	5. C,D,B,A 6. C,D,A,B
4)	A	B	C	D	маленький $\frac{0.2}{0.32}$ - D $\frac{0.5}{0.5}$ - A большой $\frac{0.8}{0.8}$ - B	7. D,C,B,A 8. C,A,B,D
5)	A	B	C	D	маленький $\frac{0.5}{0.59}$ - C $\frac{0.6}{0.7}$ - B большой $\frac{0.7}{0.7}$ - A	
6)	A	B	C	D	маленький $\frac{0.1}{0.7}$ - C $\frac{0.9}{0.96}$ - A большой	
7)	A	B	C	D	маленький $\frac{0.03}{0.08}$ - D $\frac{0.1}{0.1}$ - B $\frac{0.29}{0.29}$ - A большой	
8)	A	B	C	D	маленький $\frac{0.3}{0.34}$ - C $\frac{0.71}{0.71}$ - B большой $\frac{0.8}{0.8}$ - D	



Расположите данные сектора по возрастанию, по наличию закрашенных частей.

ОТВЕТЫ

об)	A	B	C	D	маленький <u>0.05 - B</u>	об. B,D,C,A 1. _____ 2. _____ 3. _____ 4. _____ 5. _____ 6. _____ 7. _____ 8. _____
					<u>0.57 - D</u>	
					<u>0.62 - C</u>	
					большой <u>0.9 - A</u>	
1)	A	B	C	D	маленький _____	
					большой _____	
2)	A	B	C	D	маленький _____	
					большой _____	
3)	A	B	C	D	маленький _____	
					большой _____	
4)	A	B	C	D	маленький _____	
					большой _____	
5)	A	B	C	D	маленький _____	
					большой _____	
6)	A	B	C	D	маленький _____	
					большой _____	
7)	A	B	C	D	маленький _____	
					большой _____	
8)	A	B	C	D	маленький _____	
					большой _____	



Расположите данные сектора по возрастанию, по наличию закрашенных частей.

об)	A	B	C	D	маленький 0.05 - B 0.57 - D 0.62 - C
					большой 0.9 - A
1)	A	B	C	D	маленький 0.48 - C 0.5 - B 0.6 - D
					большой 0.91 - A
2)	A	B	C	D	маленький 0.1 - B 0.16 - C 0.4 - D
					большой 0.74 - A
3)	A	B	C	D	маленький 0.02 - D 0.1 - B 0.7 - A
					большой 0.85 - C
4)	A	B	C	D	маленький 0.04 - D 0.7 - B 0.75 - A
					большой 0.8 - C
5)	A	B	C	D	маленький 0.03 - B 0.4 - C 0.8 - A
					большой 0.94 - D
6)	A	B	C	D	маленький 0.06 - A 0.6 - C 0.7 - D
					большой 0.71 - B
7)	A	B	C	D	маленький 0.2 - A 0.31 - B 0.36 - D
					большой 0.7 - C
8)	A	B	C	D	маленький 0.08 - D 0.3 - C 0.4 - B
					большой 0.9 - A

ОТВЕТЫ

- об. B,D,C,A
1. C,B,D,A
2. B,C,D,A
3. D,B,A,C
4. D,B,A,C
5. B,C,A,D
6. A,C,D,B
7. A,B,D,C
8. D,C,B,A



Расположите данные сектора по возрастанию, по наличию закрашенных частей.

Ответы

об)	A	B	C	D	маленький <u>0.05 - B</u>	<p>об. B,C,A,D</p> <p>1. _____</p> <p>2. _____</p> <p>3. _____</p> <p>4. _____</p> <p>5. _____</p> <p>6. _____</p> <p>7. _____</p> <p>8. _____</p>
					<u>0.09 - C</u>	
					<u>0.5 - A</u>	
					большой <u>0.6 - D</u>	
1)	A	B	C	D	маленький _____	
					большой _____	
2)	A	B	C	D	маленький _____	
					большой _____	
3)	A	B	C	D	маленький _____	
					большой _____	
4)	A	B	C	D	маленький _____	
					большой _____	
5)	A	B	C	D	маленький _____	
					большой _____	
6)	A	B	C	D	маленький _____	
					большой _____	
7)	A	B	C	D	маленький _____	
					большой _____	
8)	A	B	C	D	маленький _____	
					большой _____	



Расположите данные сектора по возрастанию, по наличию закрашенных частей.

об)	A	B	C	D	маленький $\frac{0.05}{0.09} - B$ $\frac{0.5}{0.6} - A$
					большой
1)	A	B	C	D	маленький $\frac{0.03}{0.1} - D$ $\frac{0.4}{0.45} - A$
					большой
2)	A	B	C	D	маленький $\frac{0.01}{0.19} - C$ $\frac{0.72}{0.8} - D$
					большой
3)	A	B	C	D	маленький $\frac{0.13}{0.7} - D$ $\frac{0.83}{0.9} - C$
					большой
4)	A	B	C	D	маленький $\frac{0.39}{0.61} - A$ $\frac{0.8}{0.92} - B$
					большой
5)	A	B	C	D	маленький $\frac{0.3}{0.44} - C$ $\frac{0.65}{0.91} - D$
					большой
6)	A	B	C	D	маленький $\frac{0.03}{0.14} - D$ $\frac{0.3}{0.7} - A$
					большой
7)	A	B	C	D	маленький $\frac{0.1}{0.31} - D$ $\frac{0.3}{0.81} - A$
					большой
8)	A	B	C	D	маленький $\frac{0.1}{0.6} - D$ $\frac{0.7}{0.9} - A$
					большой

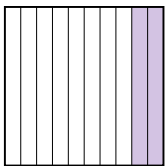
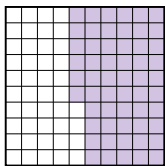
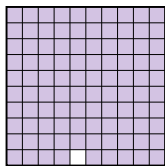
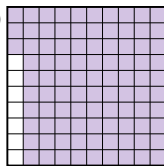




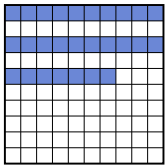


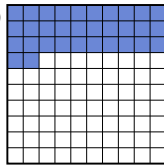
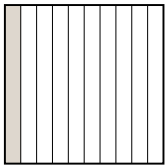

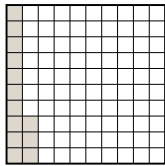
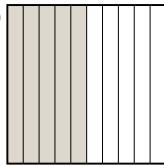

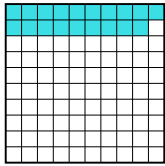
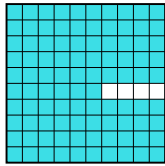
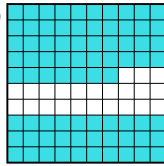
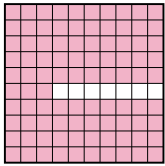
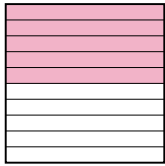
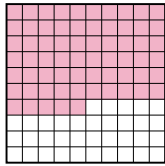
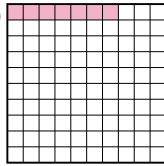

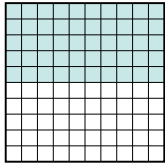


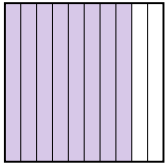
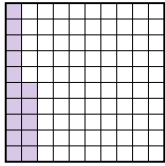
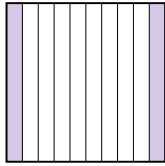
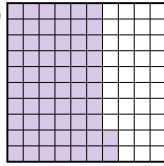
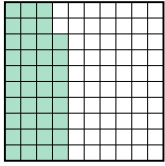
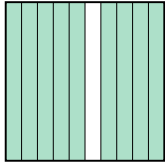
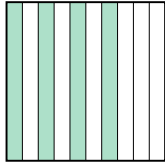
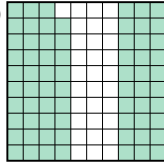
ОТВЕТЫ

- об. B,C,A,D
1. D,C,A,B
2. C,A,D,B
3. D,A,C,B
4. A,D,B,C
5. C,A,D,B
6. D,B,A,C
7. D,A,C,B
8. D,B,A,C



Расположите данные сектора по возрастанию, по наличию закрашенных частей.

Ответы

об)	A 	B 	C 	D 	маленький <u>0.2 - A</u>
					<u>0.56 - B</u>
					<u>0.93 - D</u>
					большой <u>0.99 - C</u>
1)	A 	B 	C 	D 	маленький _____
					большой _____
2)	A 	B 	C 	D 	маленький _____
					большой _____
3)	A 	B 	C 	D 	маленький _____
					большой _____
4)	A 	B 	C 	D 	маленький _____
					большой _____
5)	A 	B 	C 	D 	маленький _____
					большой _____
6)	A 	B 	C 	D 	маленький _____
					большой _____
7)	A 	B 	C 	D 	маленький _____
					большой _____
8)	A 	B 	C 	D 	маленький _____
					большой _____

об. **A,B,D,C**

1. _____

2. _____

3. _____

4. _____

5. _____

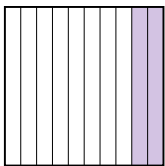
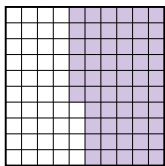
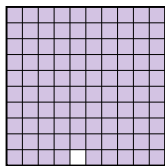
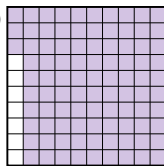




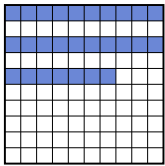


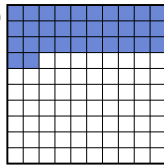
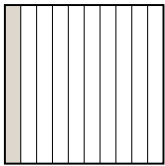

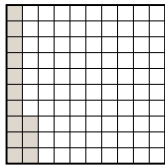
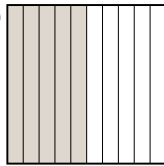

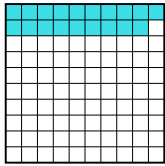
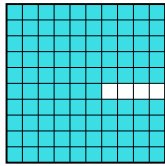
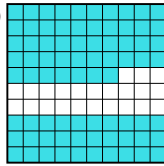
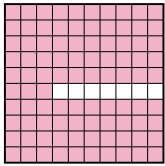
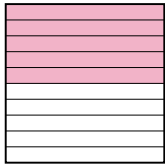
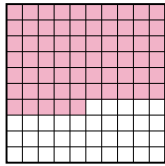
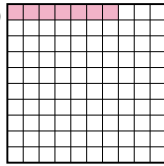

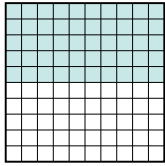


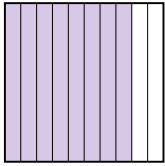
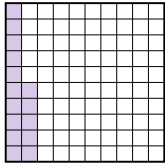
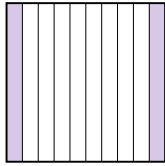
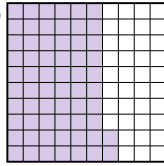
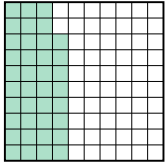
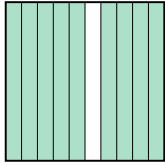
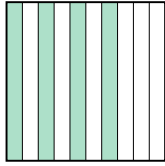
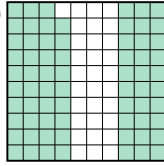
6. _____

7. _____

8. _____



Расположите данные сектора по возрастанию, по наличию закрашенных частей.

об)	A 	B 	C 	D 	маленький <u>0.2 - A</u>
					<u>0.56 - B</u>
					<u>0.93 - D</u>
					большой <u>0.99 - C</u>
1)	A 	B 	C 	D 	маленький <u>0.13 - B</u>
					<u>0.3 - A</u>
					<u>0.4 - C</u>
					большой <u>0.68 - D</u>
2)	A 	B 	C 	D 	маленький <u>0.27 - A</u>
					<u>0.3 - B</u>
					<u>0.32 - D</u>
					большой <u>0.9 - C</u>
3)	A 	B 	C 	D 	маленький <u>0.1 - A</u>
					<u>0.13 - C</u>
					<u>0.5 - D</u>
					большой <u>0.97 - B</u>
4)	A 	B 	C 	D 	маленький <u>0.19 - B</u>
					<u>0.77 - D</u>
					<u>0.8 - A</u>
					большой <u>0.96 - C</u>
5)	A 	B 	C 	D 	маленький <u>0.07 - D</u>
					<u>0.5 - B</u>
					<u>0.65 - C</u>
					большой <u>0.93 - A</u>
6)	A 	B 	C 	D 	маленький <u>0.26 - D</u>
					<u>0.4 - C</u>
					<u>0.5 - A</u>
					большой <u>0.5 - A</u>
7)	A 	B 	C 	D 	маленький <u>0.15 - B</u>
					<u>0.2 - C</u>
					<u>0.62 - D</u>
					большой <u>0.8 - A</u>
8)	A 	B 	C 	D 	маленький <u>0.38 - A</u>
					<u>0.4 - C</u>
					<u>0.69 - D</u>
					большой <u>0.9 - B</u>

ОТВЕТЫ

- об. A,B,D,C
- 1. B,A,C,D
- 2. A,B,D,C
- 3. A,C,D,B
- 4. B,D,A,C
- 5. D,B,C,A
- 6. D,C,A,A
- 7. B,C,D,A
- 8. A,C,D,B



Расположите данные сектора по возрастанию, по наличию закрашенных частей.

ОТВЕТЫ

об)	A	B	C	D	маленький <u>0.09 - A</u>	<p>об. A,B,C,D</p> <p>1. _____</p> <p>2. _____</p> <p>3. _____</p> <p>4. _____</p> <p>5. _____</p> <p>6. _____</p> <p>7. _____</p> <p>8. _____</p>
					<u>0.14 - B</u>	
					<u>0.2 - C</u>	
					большой <u>0.63 - D</u>	
1)	A	B	C	D	маленький _____	
					большой _____	
2)	A	B	C	D	маленький _____	
					большой _____	
3)	A	B	C	D	маленький _____	
					большой _____	
4)	A	B	C	D	маленький _____	
					большой _____	
5)	A	B	C	D	маленький _____	
					большой _____	
6)	A	B	C	D	маленький _____	
					большой _____	
7)	A	B	C	D	маленький _____	
					большой _____	
8)	A	B	C	D	маленький _____	
					большой _____	



Расположите данные сектора по возрастанию, по наличию закрашенных частей.

об)	A	B	C	D	маленький 0.09 - A 0.14 - B 0.2 - C
					большой 0.63 - D
1)	A	B	C	D	маленький 0.07 - B 0.1 - D 0.2 - A
					большой 0.46 - C
2)	A	B	C	D	маленький 0.16 - A 0.2 - D 0.55 - C
					большой 0.9 - B
3)	A	B	C	D	маленький 0.37 - D 0.5 - C 0.64 - A
					большой 0.8 - B
4)	A	B	C	D	маленький 0.15 - B 0.28 - D 0.9 - A
					большой 0.9 - A
5)	A	B	C	D	маленький 0.63 - A 0.7 - C 0.8 - D
					большой 0.81 - B
6)	A	B	C	D	маленький 0.1 - B 0.2 - C 0.42 - A
					большой 0.9 - D
7)	A	B	C	D	маленький 0.14 - A 0.2 - B 0.28 - C
					большой 0.8 - D
8)	A	B	C	D	маленький 0.1 - B 0.35 - D 0.61 - C
					большой 0.64 - A

ОТВЕТЫ

- | | |
|-----|--|
| об. | A,B,C,D |
| 1. | B,D,A,C |
| 2. | A,D,C,B |
| 3. | D,C,A,B |
| 4. | B,D,A,A |
| 5. | A,C,D,B |
| 6. | B,C,A,D |
| 7. | A,B,C,D |
| 8. | B,D,C,A |



Расположите данные сектора по возрастанию, по наличию закрашенных частей.

ОТВЕТЫ

об)	A	B	C	D	маленький <u>0.07 - B</u>	<p>об. B,D,C,A</p> <p>1. _____</p> <p>2. _____</p> <p>3. _____</p> <p>4. _____</p> <p>5. _____</p> <p>6. _____</p> <p>7. _____</p> <p>8. _____</p>
					<u>0.1 - D</u>	
					<u>0.4 - C</u>	
					большой <u>0.98 - A</u>	
1)	A	B	C	D	маленький _____	
					большой _____	
2)	A	B	C	D	маленький _____	
					большой _____	
3)	A	B	C	D	маленький _____	
					большой _____	
4)	A	B	C	D	маленький _____	
					большой _____	
5)	A	B	C	D	маленький _____	
					большой _____	
6)	A	B	C	D	маленький _____	
					большой _____	
7)	A	B	C	D	маленький _____	
					большой _____	
8)	A	B	C	D	маленький _____	
					большой _____	



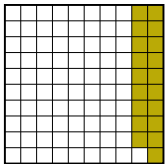
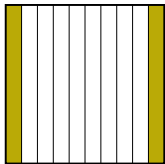

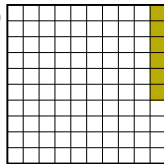


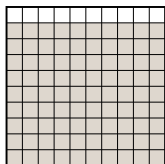


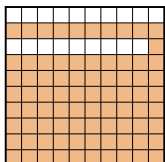

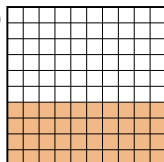
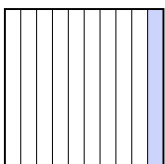
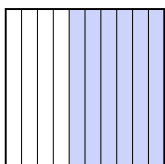
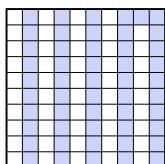
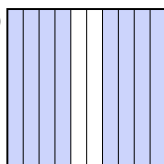
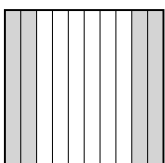
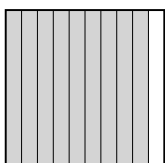


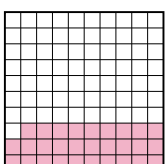
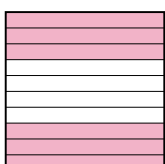

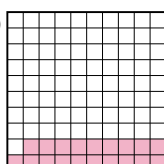

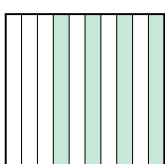
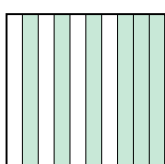

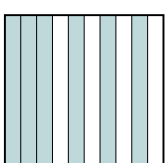
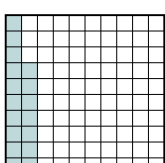
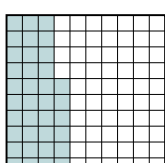
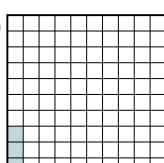




Расположите данные сектора по возрастанию, по наличию закрашенных частей.

						<u>ОТВЕТЫ</u>
об)	A	B	C	D	маленький $\frac{0.07}{0.1} = 0.07 - B$	об. B,D,C,A
					$\frac{0.1}{0.4} = 0.1 - D$	
					$\frac{0.4}{0.98} = 0.4 - C$	1. D,A,C,B
					большой $\frac{0.98}{0.9} = 0.98 - A$	
1)	A	B	C	D	маленький $\frac{0.01}{0.3} = 0.01 - D$	2. D,A,B,C
					$\frac{0.3}{0.86} = 0.3 - A$	
					$\frac{0.86}{0.9} = 0.86 - C$	3. D,B,A,C
					большой $\frac{0.9}{0.9} = 0.9 - B$	
2)	A	B	C	D	маленький $\frac{0.1}{0.5} = 0.1 - D$	4. A,C,B,D
					$\frac{0.5}{0.53} = 0.5 - A$	
					$\frac{0.53}{0.8} = 0.53 - B$	5. A,D,B,C
					большой $\frac{0.8}{0.8} = 0.8 - C$	
3)	A	B	C	D	маленький $\frac{0.2}{0.4} = 0.2 - D$	6. D,C,B,A
					$\frac{0.4}{0.5} = 0.4 - B$	
					$\frac{0.5}{0.52} = 0.5 - A$	7. D,A,B,C
					большой $\frac{0.52}{0.9} = 0.52 - C$	
4)	A	B	C	D	маленький $\frac{0.03}{0.2} = 0.03 - A$	8. B,C,A,D
					$\frac{0.2}{0.43} = 0.2 - C$	
					$\frac{0.43}{0.9} = 0.43 - B$	
					большой $\frac{0.9}{0.9} = 0.9 - D$	
5)	A	B	C	D	маленький $\frac{0.1}{0.48} = 0.1 - A$	
					$\frac{0.48}{0.6} = 0.48 - D$	
					$\frac{0.6}{0.71} = 0.6 - B$	
					большой $\frac{0.71}{0.71} = 0.71 - C$	
6)	A	B	C	D	маленький $\frac{0.5}{0.6} = 0.5 - D$	
					$\frac{0.6}{0.8} = 0.6 - C$	
					$\frac{0.8}{0.83} = 0.8 - B$	
					большой $\frac{0.83}{0.83} = 0.83 - A$	
7)	A	B	C	D	маленький $\frac{0.69}{0.7} = 0.69 - D$	
					$\frac{0.7}{0.8} = 0.7 - A$	
					$\frac{0.8}{0.9} = 0.8 - B$	
					большой $\frac{0.9}{0.9} = 0.9 - C$	
8)	A	B	C	D	маленький $\frac{0.02}{0.47} = 0.02 - B$	
					$\frac{0.47}{0.7} = 0.47 - C$	
					$\frac{0.7}{0.7} = 0.7 - A$	
					большой $\frac{0.95}{0.95} = 0.95 - D$	



Расположите данные сектора по возрастанию, по наличию закрашенных частей.

ОТВЕТЫ

об)	A 	B 	C 	D 	маленький <u>0.06 - D</u> <u>0.19 - A</u> <u>0.2 - B</u> большой <u>0.4 - C</u>
1)	A 	B 	C 	D 	маленький _____ большой _____
2)	A 	B 	C 	D 	маленький _____ большой _____
3)	A 	B 	C 	D 	маленький _____ большой _____
4)	A 	B 	C 	D 	маленький _____ большой _____
5)	A 	B 	C 	D 	маленький _____ большой _____
6)	A 	B 	C 	D 	маленький _____ большой _____
7)	A 	B 	C 	D 	маленький _____ большой _____
8)	A 	B 	C 	D 	маленький _____ большой _____

об. **D,A,B,C**

1. _____

2. _____

3. _____

4. _____

5. _____

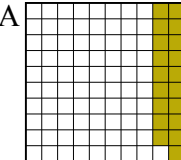


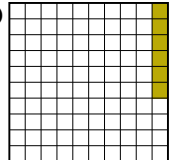
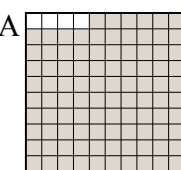

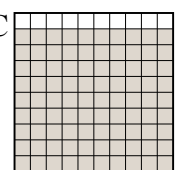


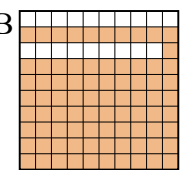

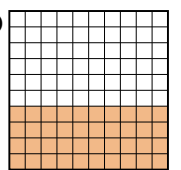
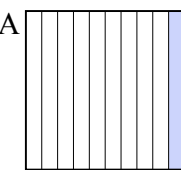
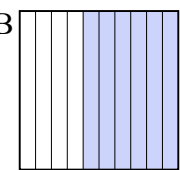
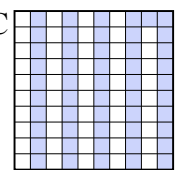
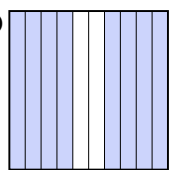
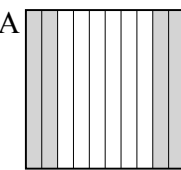
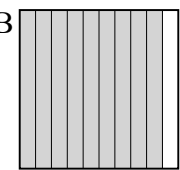


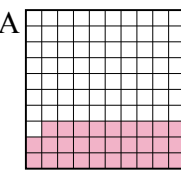
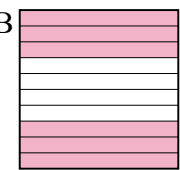
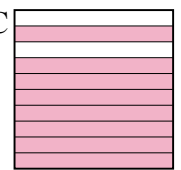
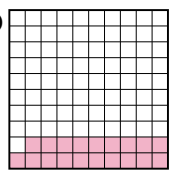
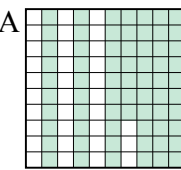
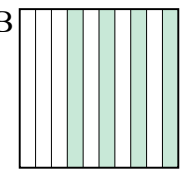
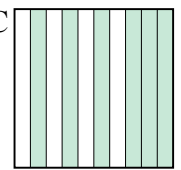
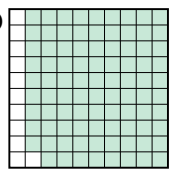
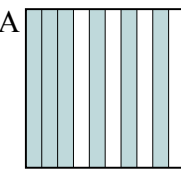
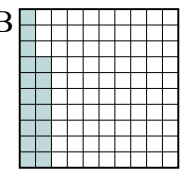
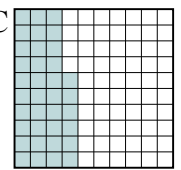
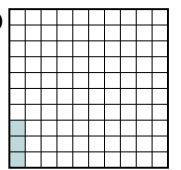

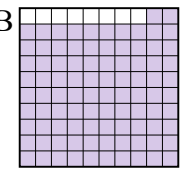
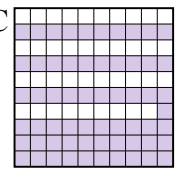

6. _____

7. _____

8. _____



Расположите данные сектора по возрастанию, по наличию закрашенных частей.

						<u>ОТВЕТЫ</u>	
об)	A 	B 	C 	D 	маленький	$0.06 - D$	об. <u>D,A,B,C</u>
						$0.19 - A$	
					большой	$0.2 - B$	1. <u>D,B,C,A</u>
						$0.4 - C$	
1)	A 	B 	C 	D 	маленький	$0.2 - D$	2. <u>C,D,A,B</u>
						$0.5 - B$	
					большой	$0.9 - C$	3. <u>A,C,B,D</u>
						$0.96 - A$	
2)	A 	B 	C 	D 	маленький	$0.1 - C$	4. <u>D,A,B,C</u>
						$0.4 - D$	
					большой	$0.8 - A$	5. <u>D,A,B,C</u>
						$0.81 - B$	
3)	A 	B 	C 	D 	маленький	$0.1 - A$	6. <u>B,C,A,D</u>
						$0.51 - C$	
					большой	$0.6 - B$	7. <u>D,B,C,A</u>
						$0.8 - D$	
4)	A 	B 	C 	D 	маленький	$0.36 - D$	8. <u>A,D,C,B</u>
						$0.4 - A$	
					большой	$0.9 - B$	
						$0.93 - C$	
5)	A 	B 	C 	D 	маленький	$0.19 - D$	
						$0.29 - A$	
					большой	$0.6 - B$	
						$0.8 - C$	
6)	A 	B 	C 	D 	маленький	$0.4 - B$	
						$0.6 - C$	
					большой	$0.67 - A$	
						$0.89 - D$	
7)	A 	B 	C 	D 	маленький	$0.03 - D$	
						$0.17 - B$	
					большой	$0.36 - C$	
						$0.6 - A$	
8)	A 	B 	C 	D 	маленький	$0.2 - A$	
						$0.5 - D$	
					большой	$0.61 - C$	
						$0.92 - B$	



Расположите данные сектора по возрастанию, по наличию закрашенных частей.

ОТВЕТЫ

об)	A	B	C	D	маленький <u>0.2 - B</u>	об. B,D,A,C	
					<u>0.6 - D</u>		
					<u>0.83 - A</u>		
					большой <u>0.96 - C</u>		
1)	A	B	C	D	маленький _____		1. _____
					большой _____		2. _____
2)	A	B	C	D	маленький _____		3. _____
					большой _____		4. _____
3)	A	B	C	D	маленький _____	5. _____	
					большой _____	6. _____	
4)	A	B	C	D	маленький _____	7. _____	
					большой _____	8. _____	
5)	A	B	C	D	маленький _____		
					большой _____		
6)	A	B	C	D	маленький _____		
					большой _____		
7)	A	B	C	D	маленький _____		
					большой _____		
8)	A	B	C	D	маленький _____		
					большой _____		



Расположите данные сектора по возрастанию, по наличию закрашенных частей.

об)	A	B	C	D	маленький <u>0.2 - B</u> <u>0.6 - D</u> <u>0.83 - A</u>
					большой <u>0.96 - C</u>
1)	A	B	C	D	маленький <u>0.3 - D</u> <u>0.62 - A</u> <u>0.7 - B</u>
					большой <u>0.83 - C</u>
2)	A	B	C	D	маленький <u>0.13 - D</u> <u>0.4 - B</u> <u>0.47 - A</u>
					большой <u>0.7 - C</u>
3)	A	B	C	D	маленький <u>0.5 - B</u> <u>0.71 - C</u> <u>0.8 - A</u>
					большой <u>0.9 - D</u>
4)	A	B	C	D	маленький <u>0.1 - C</u> <u>0.2 - A</u> <u>0.6 - B</u>
					большой <u>0.9 - D</u>
5)	A	B	C	D	маленький <u>0.39 - D</u> <u>0.4 - B</u> <u>0.6 - A</u>
					большой <u>0.91 - C</u>
6)	A	B	C	D	маленький <u>0.4 - B</u> <u>0.86 - D</u> <u>0.9 - A</u>
					большой <u>0.94 - C</u>
7)	A	B	C	D	маленький <u>0.4 - A</u> <u>0.53 - B</u> <u>0.55 - C</u>
					большой <u>0.6 - D</u>
8)	A	B	C	D	маленький <u>0.3 - C</u> <u>0.4 - B</u> <u>0.88 - D</u>
					большой <u>0.94 - A</u>

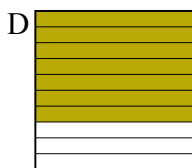
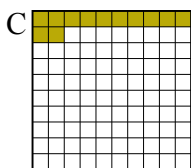
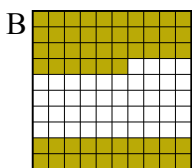
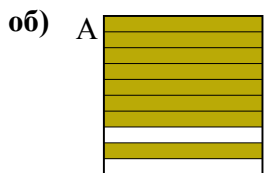
ОТВЕТЫ

- об. B,D,A,C
1. D,A,B,C
2. D,B,A,C
3. B,C,A,D
4. C,A,B,D
5. D,B,A,C
6. B,D,A,C
7. A,B,C,D
8. C,B,D,A



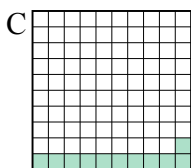

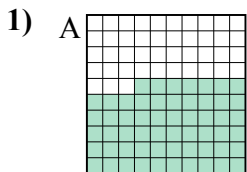
Расположите данные сектора по возрастанию, по наличию закрашенных частей.

Ответы

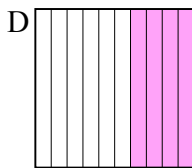
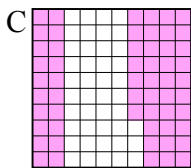
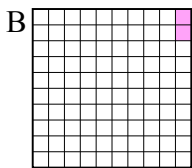
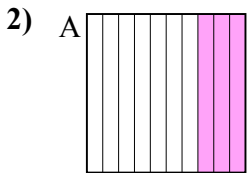


маленький 0.12 - C
0.56 - B
0.7 - D
 большой 0.8 - A

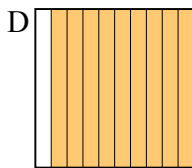
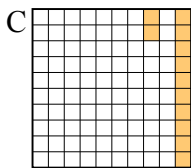
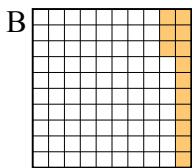
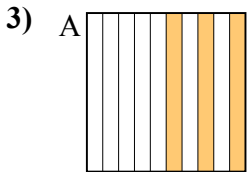
об. **C,B,D,A**



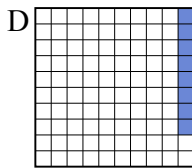
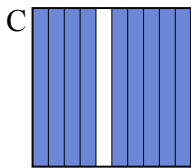
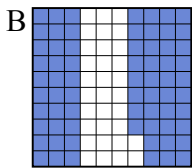
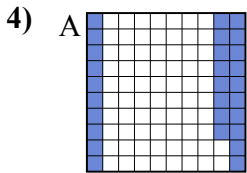
маленький _____
 большой _____




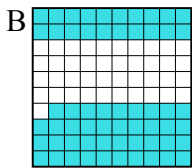
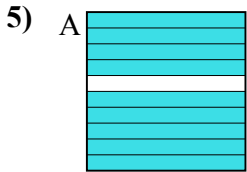
маленький _____
 большой _____



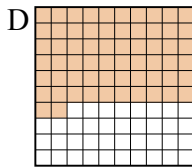
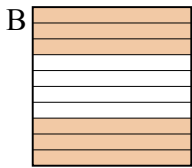
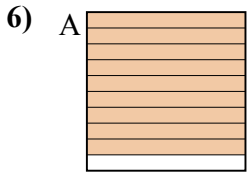
маленький _____
 большой _____



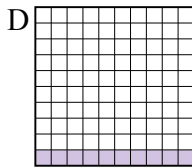
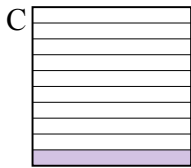
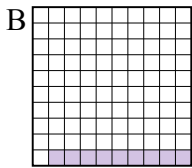
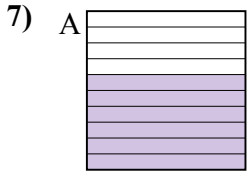
маленький _____
 большой _____



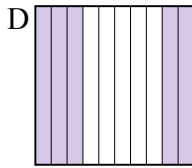
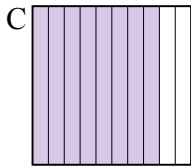
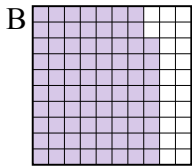
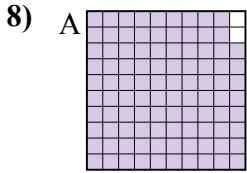
маленький _____
 большой _____



маленький _____
 большой _____



маленький _____
 большой _____



маленький _____
 большой _____

1. _____
2. _____
3. _____
4. _____
5. _____
6. _____
7. _____
8. _____



Расположите данные сектора по возрастанию, по наличию закрашенных частей.

об)	A	B	C	D	маленький $\frac{0.12}{0.56} - C$
					большой $\frac{0.7}{0.8} - A$
1)	A	B	C	D	маленький $\frac{0.11}{0.57} - C$
					большой $\frac{0.7}{0.9} - B$
2)	A	B	C	D	маленький $\frac{0.02}{0.3} - B$
					большой $\frac{0.4}{0.57} - C$
3)	A	B	C	D	маленький $\frac{0.12}{0.13} - C$
					большой $\frac{0.3}{0.9} - A$
4)	A	B	C	D	маленький $\frac{0.08}{0.28} - D$
					большой $\frac{0.68}{0.9} - B$
5)	A	B	C	D	маленький $\frac{0.3}{0.4} - D$
					большой $\frac{0.59}{0.9} - B$
6)	A	B	C	D	маленький $\frac{0.2}{0.6} - C$
					большой $\frac{0.62}{0.9} - D$
7)	A	B	C	D	маленький $\frac{0.09}{0.1} - B$
					большой $\frac{0.1}{0.6} - A$
8)	A	B	C	D	маленький $\frac{0.5}{0.78} - D$
					большой $\frac{0.8}{0.98} - C$

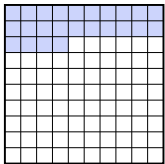

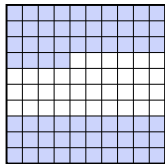
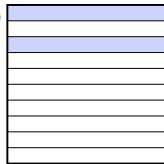
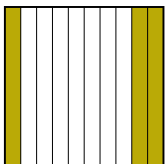
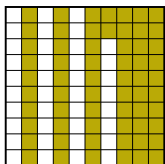
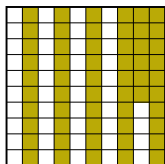
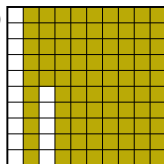
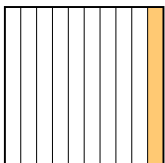
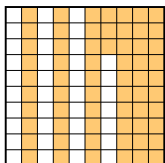
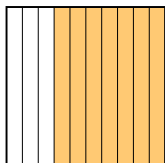
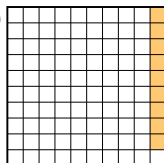
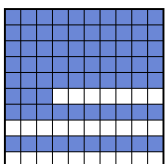
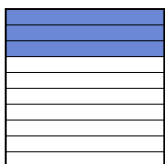
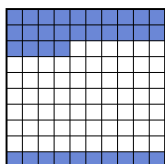

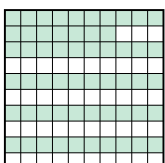





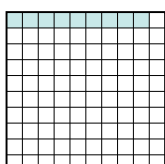
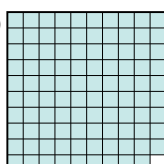


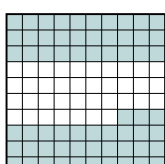
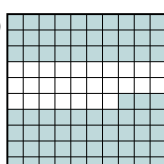
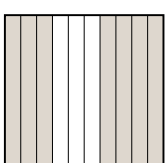

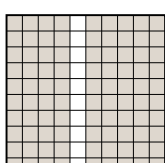
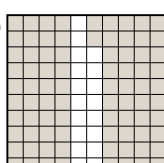

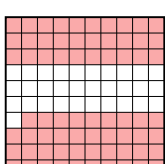


ОТВЕТЫ

- об. C,B,D,A
- 1. C,A,D,B
- 2. B,A,D,C
- 3. C,B,A,D
- 4. D,A,B,C
- 5. D,C,B,A
- 6. C,B,D,A
- 7. B,C,C,A
- 8. D,B,C,A



Расположите данные сектора по возрастанию, по наличию закрашенных частей.

ОТВЕТЫ

об)	A 	B 	C 	D 	маленький <u>0.2 - D</u>	об. D,A,B,C
					<u>0.24 - A</u>	
					<u>0.4 - B</u>	
					большой <u>0.64 - C</u>	
1)	A 	B 	C 	D 	маленький _____	1. _____
					большой _____	2. _____
2)	A 	B 	C 	D 	маленький _____	3. _____
					большой _____	4. _____
3)	A 	B 	C 	D 	маленький _____	5. _____
					большой _____	6. _____
4)	A 	B 	C 	D 	маленький _____	7. _____
					большой _____	8. _____
5)	A 	B 	C 	D 	маленький _____	
					большой _____	
6)	A 	B 	C 	D 	маленький _____	
					большой _____	
7)	A 	B 	C 	D 	маленький _____	
					большой _____	
8)	A 	B 	C 	D 	маленький _____	
					большой _____	



Расположите данные сектора по возрастанию, по наличию закрашенных частей.

об)	A	B	C	D	маленький $\frac{0.2}{0.24} - D$	
					большой $\frac{0.4}{0.64} - C$	
1)	A	B	C	D	маленький $\frac{0.3}{0.56} - C$	
					большой $\frac{0.62}{0.85} - D$	
2)	A	B	C	D	маленький $\frac{0.09}{0.1} - A$	
					большой $\frac{0.63}{0.7} - C$	
3)	A	B	C	D	маленький $\frac{0.3}{0.34} - C$	
					большой $\frac{0.7}{0.73} - A$	
4)	A	B	C	D	маленький $\frac{0.16}{0.4} - B$	
					большой $\frac{0.57}{0.9} - C$	
5)	A	B	C	D	маленький $\frac{0.09}{0.3} - B$	
					большой $\frac{0.9}{0.99} - D$	
6)	A	B	C	D	маленький $\frac{0.3}{0.4} - B$	
					большой $\frac{0.63}{0.73} - D$	
7)	A	B	C	D	маленький $\frac{0.06}{0.7} - A$	
					большой $\frac{0.82}{0.9} - C$	
8)	A	B	C	D	маленький $\frac{0.07}{0.2} - D$	
					большой $\frac{0.3}{0.69} - B$	

ОТВЕТЫ

- об. D,A,B,C
- 1. A,C,B,D
- 2. D,A,B,C
- 3. B,C,D,A
- 4. D,B,A,C
- 5. C,B,A,D
- 6. A,B,C,D
- 7. B,A,D,C
- 8. A,D,C,B