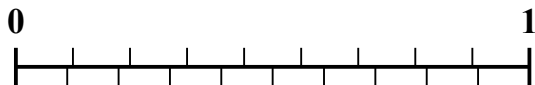




Используйте числовую линию для решения каждой проблемы.

1) Какая сумма больше:  $\frac{2}{9}$  или 0,34?



2) Какая сумма больше:  $\frac{3}{6}$  или 0,68?



3) Какая сумма больше:  $\frac{6}{7}$  или 0,72?




4) Какая сумма больше:  $\frac{4}{6}$  или 0,47?



5) Какая сумма больше:  $\frac{3}{7}$  или 0,54?



6) Какая сумма больше:  $\frac{1}{3}$  или 0,51?




7) Какая сумма больше:  $\frac{5}{7}$  или 0,54?



8) Какая сумма больше:  $\frac{3}{4}$  или 0,89?



9) Какая сумма больше:  $\frac{4}{5}$  или 0,6?



10) Какая сумма больше:  $\frac{1}{2}$  или 0,34?



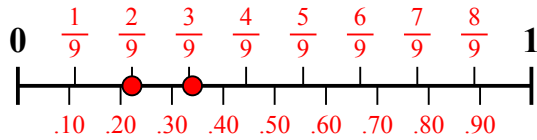
**Ответы**

1. \_\_\_\_\_
2. \_\_\_\_\_
3. \_\_\_\_\_
4. \_\_\_\_\_
5. \_\_\_\_\_
6. \_\_\_\_\_
7. \_\_\_\_\_
8. \_\_\_\_\_
9. \_\_\_\_\_
10. \_\_\_\_\_

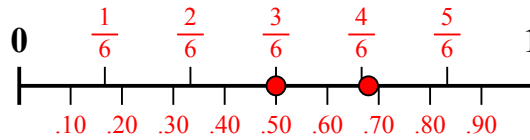


Используйте числовую линию для решения каждой проблемы.

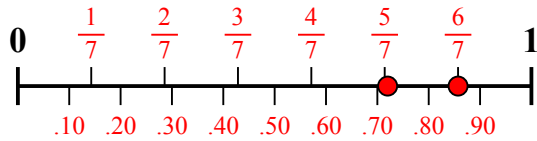
1) Какая сумма больше:  $\frac{2}{9}$  или 0,34?



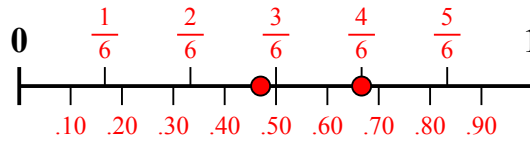
2) Какая сумма больше:  $\frac{3}{6}$  или 0,68?



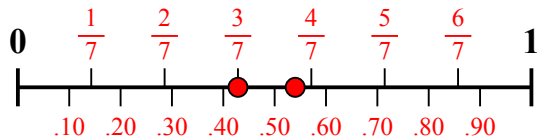
3) Какая сумма больше:  $\frac{6}{7}$  или 0,72?



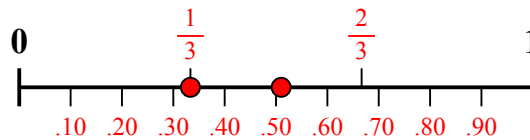
4) Какая сумма больше:  $\frac{4}{6}$  или 0,47?



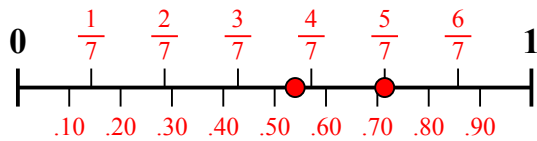
5) Какая сумма больше:  $\frac{3}{7}$  или 0,54?



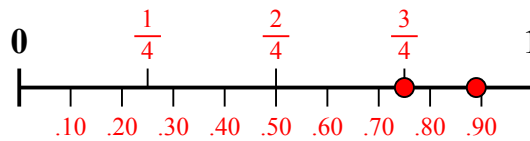
6) Какая сумма больше:  $\frac{1}{3}$  или 0,51?



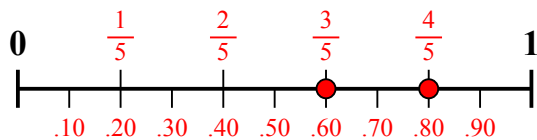
7) Какая сумма больше:  $\frac{5}{7}$  или 0,54?



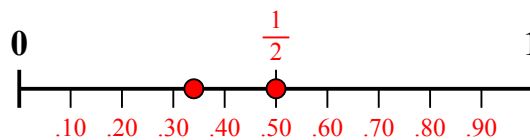
8) Какая сумма больше:  $\frac{3}{4}$  или 0,89?



9) Какая сумма больше:  $\frac{4}{5}$  или 0,6?



10) Какая сумма больше:  $\frac{1}{2}$  или 0,34?



**ОТВЕТЫ**

1. 0,34

2. 0,68

3.  $\frac{6}{7}$

4.  $\frac{4}{6}$

5. 0,54

6. 0,51

7.  $\frac{5}{7}$

8. 0,89

9.  $\frac{4}{5}$

10.  $\frac{1}{2}$