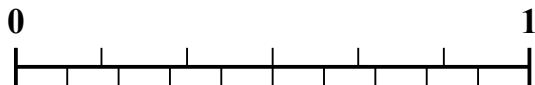


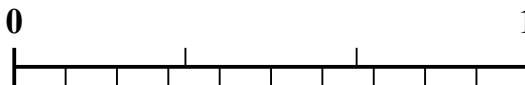


Используйте числовую линию для решения каждой проблемы.


1) Какая сумма больше: $\frac{2}{6}$ или 0,15?




2) Какая сумма больше: $\frac{1}{3}$ или 0,52?



3) Какая сумма больше: $\frac{3}{5}$ или 0,48?



4) Какая сумма больше: $\frac{2}{3}$ или 0,87?



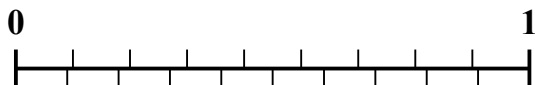
5) Какая сумма больше: $\frac{5}{7}$ или 0,57?



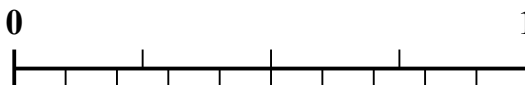
6) Какая сумма больше: $\frac{4}{7}$ или 0,75?



7) Какая сумма больше: $\frac{3}{9}$ или 0,15?



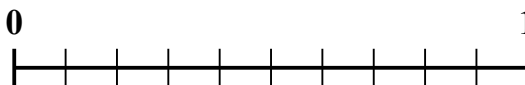
8) Какая сумма больше: $\frac{3}{4}$ или 0,9?



9) Какая сумма больше: $\frac{7}{9}$ или 0,89?



10) Какая сумма больше: $\frac{3}{10}$ или 0,15?



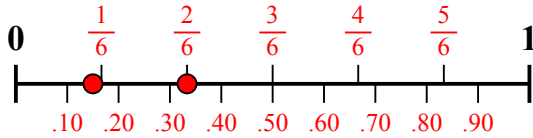
Отвeты

1. _____
2. _____
3. _____
4. _____
5. _____
6. _____
7. _____
8. _____
9. _____
10. _____

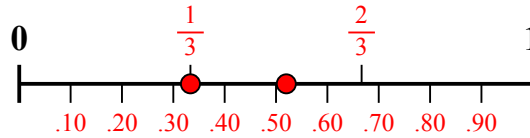


Используйте числовую линию для решения каждой проблемы.

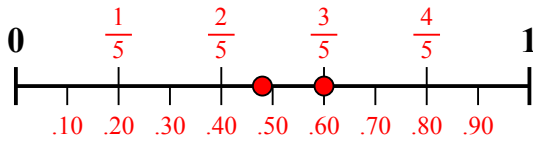
- 1) Какая сумма больше:
- $\frac{2}{6}$
- или 0,15?



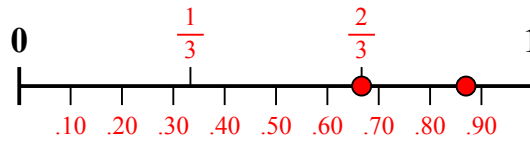
- 2) Какая сумма больше:
- $\frac{1}{3}$
- или 0,52?



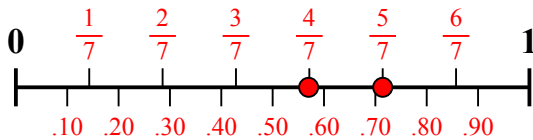
- 3) Какая сумма больше:
- $\frac{3}{5}$
- или 0,48?



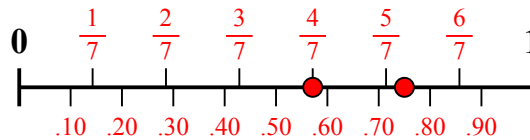
- 4) Какая сумма больше:
- $\frac{2}{3}$
- или 0,87?



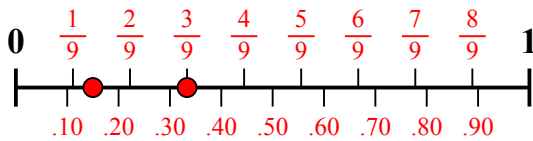
- 5) Какая сумма больше:
- $\frac{5}{7}$
- или 0,57?



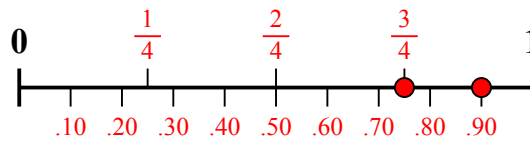
- 6) Какая сумма больше:
- $\frac{4}{7}$
- или 0,75?



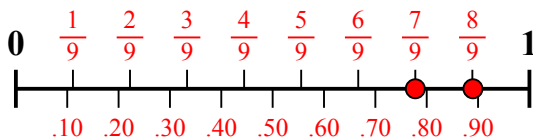
- 7) Какая сумма больше:
- $\frac{3}{9}$
- или 0,15?



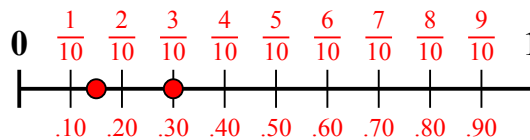
- 8) Какая сумма больше:
- $\frac{3}{4}$
- или 0,9?



- 9) Какая сумма больше:
- $\frac{7}{9}$
- или 0,89?



- 10) Какая сумма больше:
- $\frac{3}{10}$
- или 0,15?

**Отв**1. $\frac{2}{6}$

2. 0,52

3. $\frac{3}{5}$

4. 0,87

5. $\frac{5}{7}$

6. 0,75

7. $\frac{3}{9}$

8. 0,9

9. 0,89

10. $\frac{3}{10}$