

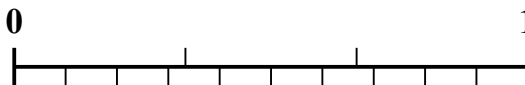


Используйте числовую линию для решения каждой проблемы.

1) Какая сумма больше: $\frac{3}{7}$ или 0,23?



2) Какая сумма больше: $\frac{2}{3}$ или 0,82?



3) Какая сумма больше: $\frac{1}{2}$ или 0,61?



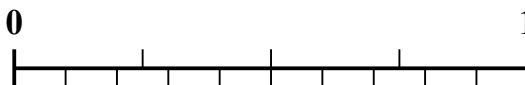
4) Какая сумма больше: $\frac{4}{6}$ или 0,77?



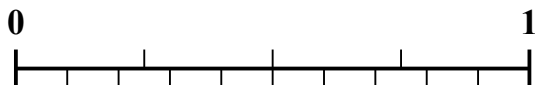
5) Какая сумма больше: $\frac{6}{7}$ или 0,73?



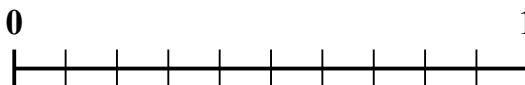
6) Какая сумма больше: $\frac{2}{4}$ или 0,6?



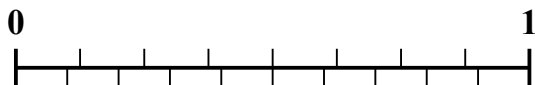
7) Какая сумма больше: $\frac{3}{4}$ или 0,88?



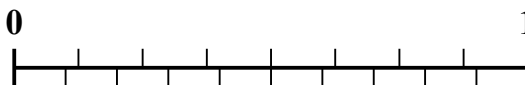
8) Какая сумма больше: $\frac{3}{10}$ или 0,14?



9) Какая сумма больше: $\frac{3}{8}$ или 0,19?



10) Какая сумма больше: $\frac{5}{8}$ или 0,83?



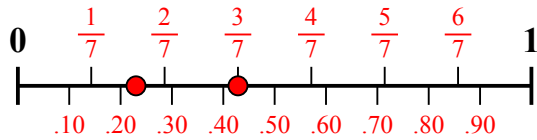
Отвeты

1. _____
2. _____
3. _____
4. _____
5. _____
6. _____
7. _____
8. _____
9. _____
10. _____

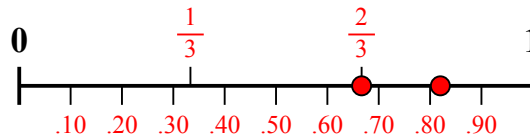


Используйте числовую линию для решения каждой проблемы.

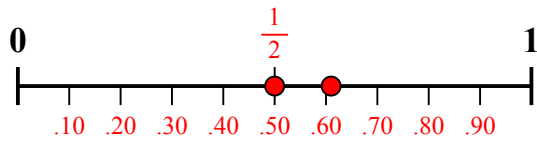
1) Какая сумма больше: $\frac{3}{7}$ или 0,23?



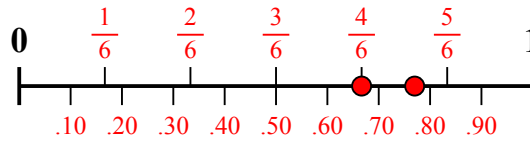
2) Какая сумма больше: $\frac{2}{3}$ или 0,82?



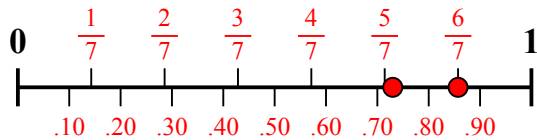
3) Какая сумма больше: $\frac{1}{2}$ или 0,61?



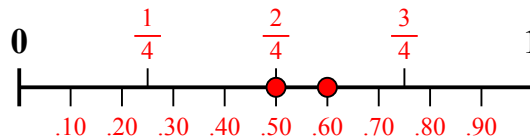
4) Какая сумма больше: $\frac{4}{6}$ или 0,77?



5) Какая сумма больше: $\frac{6}{7}$ или 0,73?



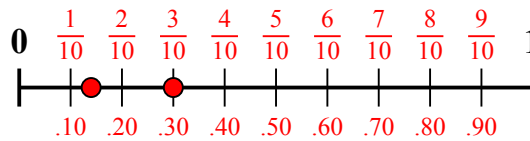
6) Какая сумма больше: $\frac{2}{4}$ или 0,6?



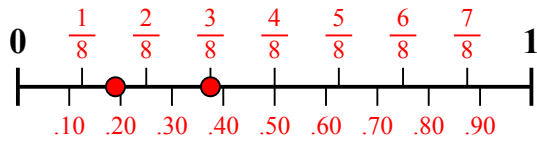
7) Какая сумма больше: $\frac{3}{4}$ или 0,88?



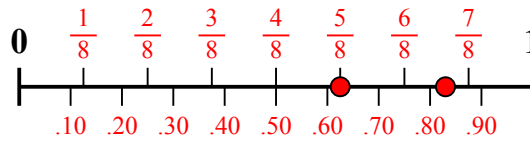
8) Какая сумма больше: $\frac{3}{10}$ или 0,14?



9) Какая сумма больше: $\frac{3}{8}$ или 0,19?



10) Какая сумма больше: $\frac{5}{8}$ или 0,83?



Ответы

1. $\frac{3}{7}$
2. 0,82
3. 0,61
4. 0,77
5. $\frac{6}{7}$
6. 0,6
7. 0,88
8. $\frac{3}{10}$
9. $\frac{3}{8}$
10. 0,83