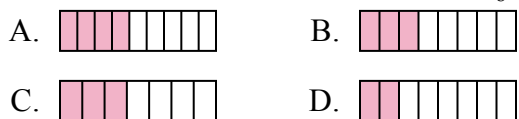




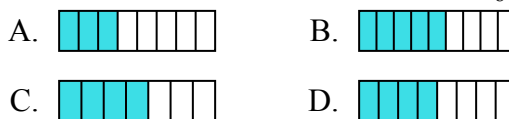
Определите под какой буквой находится правильный ответ.

**ОТВЕТЫ**

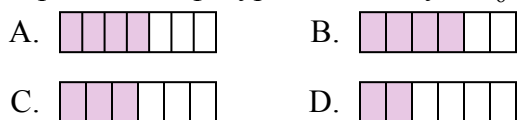
1) Какая из представленных ниже закрашенных фигур соответствует  $\frac{3}{8}$ ?



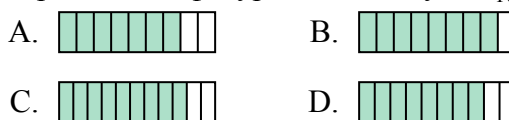
2) Какая из представленных ниже закрашенных фигур соответствует  $\frac{4}{8}$ ?



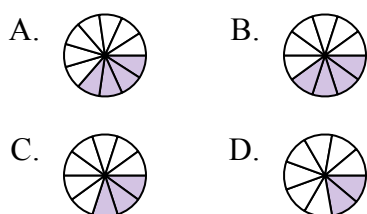
3) Какая из представленных ниже закрашенных фигур соответствует  $\frac{3}{6}$ ?



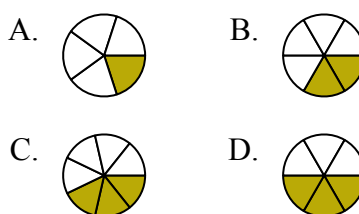
4) Какая из представленных ниже закрашенных фигур соответствует  $\frac{8}{10}$ ?



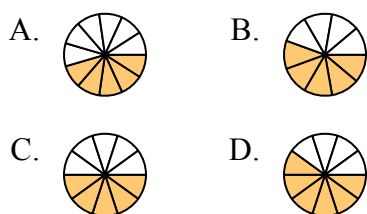
5) Какая из представленных ниже закрашенных фигур соответствует  $\frac{3}{10}$ ?



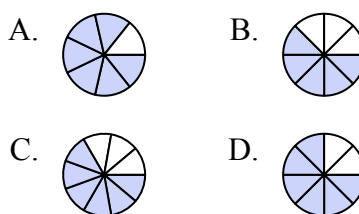
6) Какая из представленных ниже закрашенных фигур соответствует  $\frac{2}{6}$ ?



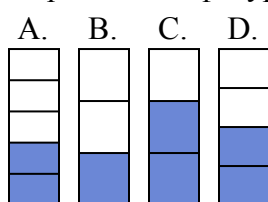
7) Какая из представленных ниже закрашенных фигур соответствует  $\frac{5}{10}$ ?



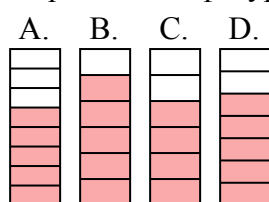
8) Какая из представленных ниже закрашенных фигур соответствует  $\frac{6}{8}$ ?



9) Какая из представленных ниже закрашенных фигур соответствует  $\frac{2}{4}$ ?



10) Какая из представленных ниже закрашенных фигур соответствует  $\frac{5}{7}$ ?



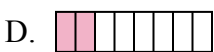
1. \_\_\_\_\_
2. \_\_\_\_\_
3. \_\_\_\_\_
4. \_\_\_\_\_
5. \_\_\_\_\_
6. \_\_\_\_\_
7. \_\_\_\_\_
8. \_\_\_\_\_
9. \_\_\_\_\_
10. \_\_\_\_\_



Определите под какой буквой находится правильный ответ.

**ОТВЕТЫ**


1) Какая из представленных ниже закрашенных фигур соответствует  $\frac{3}{8}$ ?



2) Какая из представленных ниже закрашенных фигур соответствует  $\frac{4}{8}$ ?



3) Какая из представленных ниже закрашенных фигур соответствует  $\frac{3}{6}$ ?



4) Какая из представленных ниже закрашенных фигур соответствует  $\frac{8}{10}$ ?



5) Какая из представленных ниже закрашенных фигур соответствует  $\frac{3}{10}$ ?



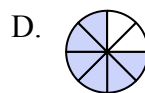
6) Какая из представленных ниже закрашенных фигур соответствует  $\frac{2}{6}$ ?




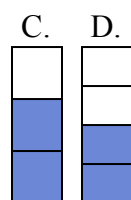
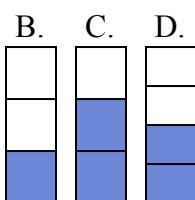
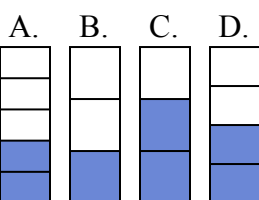
7) Какая из представленных ниже закрашенных фигур соответствует  $\frac{5}{10}$ ?



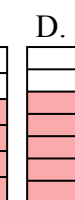
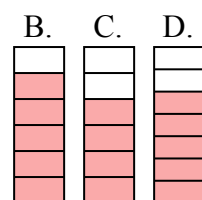
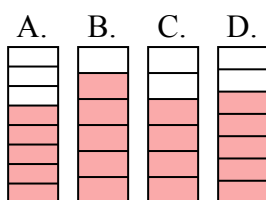
8) Какая из представленных ниже закрашенных фигур соответствует  $\frac{6}{8}$ ?



9) Какая из представленных ниже закрашенных фигур соответствует  $\frac{2}{4}$ ?



10) Какая из представленных ниже закрашенных фигур соответствует  $\frac{5}{7}$ ?



1.     **B**
2.     **D**
3.     **C**
4.     **D**
5.     **C**
6.     **B**
7.     **C**
8.     **D**
9.     **D**
10.     **D**