



Определите под какой буквой находится правильный ответ.

ОТВЕТЫ

1) Какая из представленных ниже закрашенных фигур соответствует $\frac{2}{8}$?



2) Какая из представленных ниже закрашенных фигур соответствует $\frac{6}{10}$?



3) Какая из представленных ниже закрашенных фигур соответствует $\frac{4}{7}$?



4) Какая из представленных ниже закрашенных фигур соответствует $\frac{3}{5}$?



5) Какая из представленных ниже закрашенных фигур соответствует $\frac{3}{7}$?



6) Какая из представленных ниже закрашенных фигур соответствует $\frac{3}{10}$?



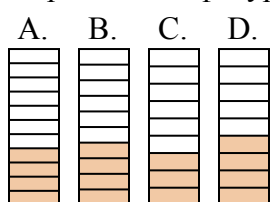
7) Какая из представленных ниже закрашенных фигур соответствует $\frac{2}{10}$?



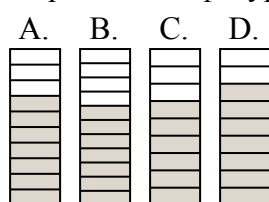
8) Какая из представленных ниже закрашенных фигур соответствует $\frac{4}{6}$?



9) Какая из представленных ниже закрашенных фигур соответствует $\frac{4}{10}$?



10) Какая из представленных ниже закрашенных фигур соответствует $\frac{7}{10}$?



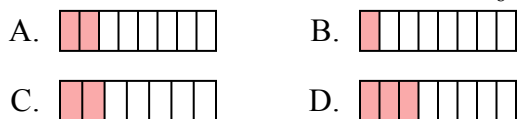
1. _____
2. _____
3. _____
4. _____
5. _____
6. _____
7. _____
8. _____
9. _____
10. _____



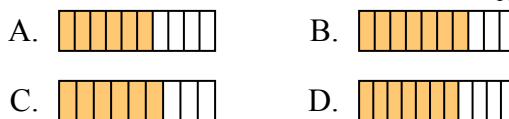
Определите под какой буквой находится правильный ответ.

ОТВЕТЫ

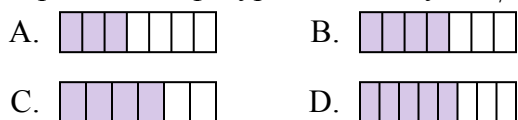
1) Какая из представленных ниже закрашенных фигур соответствует $\frac{2}{8}$?



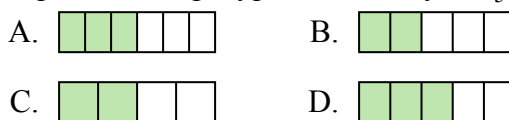
2) Какая из представленных ниже закрашенных фигур соответствует $\frac{6}{10}$?



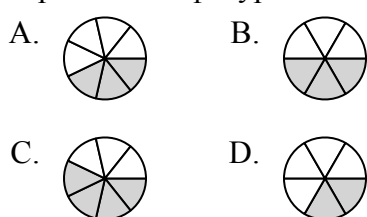
3) Какая из представленных ниже закрашенных фигур соответствует $\frac{4}{7}$?



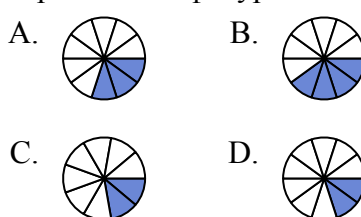
4) Какая из представленных ниже закрашенных фигур соответствует $\frac{3}{5}$?



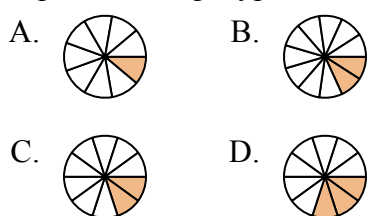
5) Какая из представленных ниже закрашенных фигур соответствует $\frac{3}{7}$?



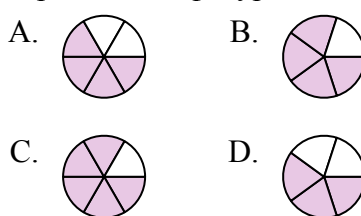
6) Какая из представленных ниже закрашенных фигур соответствует $\frac{3}{10}$?



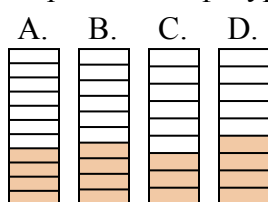
7) Какая из представленных ниже закрашенных фигур соответствует $\frac{2}{10}$?



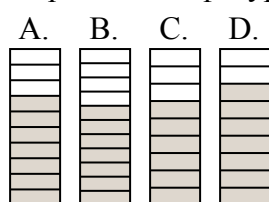
8) Какая из представленных ниже закрашенных фигур соответствует $\frac{4}{6}$?



9) Какая из представленных ниже закрашенных фигур соответствует $\frac{4}{10}$?



10) Какая из представленных ниже закрашенных фигур соответствует $\frac{7}{10}$?



1. **A**
2. **A**
3. **B**
4. **D**
5. **A**
6. **A**
7. **C**
8. **A**
9. **B**
10. **A**