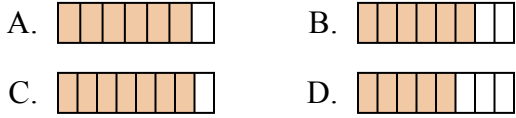




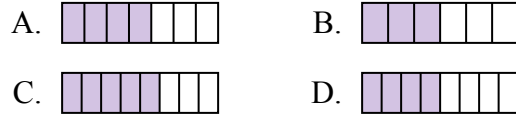
Определите под какой буквой находится правильный ответ.

ОТВЕТЫ

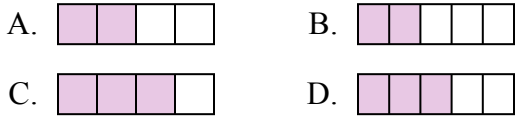
1) Какая из представленных ниже закрашенных фигур соответствует $\frac{6}{8}$?



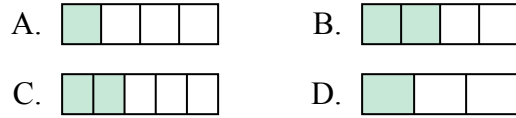
2) Какая из представленных ниже закрашенных фигур соответствует $\frac{4}{7}$?



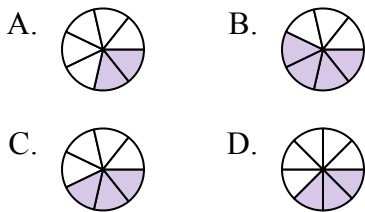
3) Какая из представленных ниже закрашенных фигур соответствует $\frac{3}{5}$?



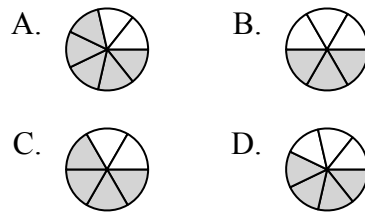
4) Какая из представленных ниже закрашенных фигур соответствует $\frac{2}{4}$?



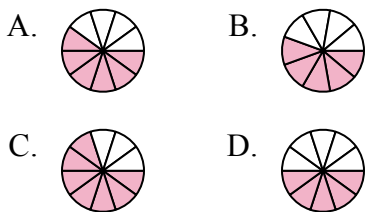
5) Какая из представленных ниже закрашенных фигур соответствует $\frac{3}{7}$?



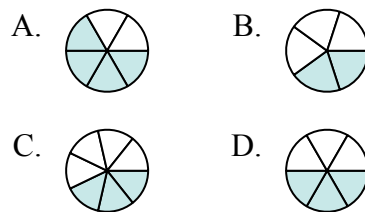
6) Какая из представленных ниже закрашенных фигур соответствует $\frac{4}{6}$?



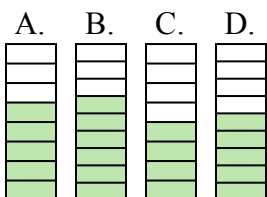
7) Какая из представленных ниже закрашенных фигур соответствует $\frac{6}{10}$?



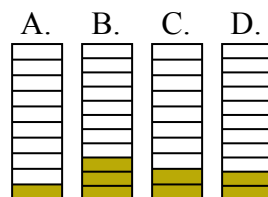
8) Какая из представленных ниже закрашенных фигур соответствует $\frac{3}{6}$?



9) Какая из представленных ниже закрашенных фигур соответствует $\frac{5}{8}$?



10) Какая из представленных ниже закрашенных фигур соответствует $\frac{2}{10}$?



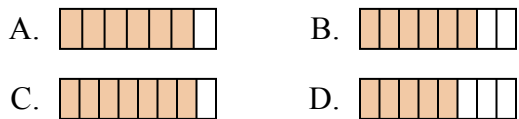
1. _____
2. _____
3. _____
4. _____
5. _____
6. _____
7. _____
8. _____
9. _____
10. _____



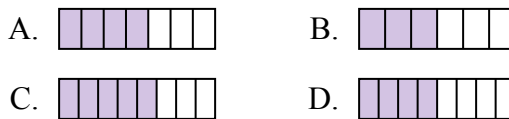
Определите под какой буквой находится правильный ответ.

ОТВЕТЫ

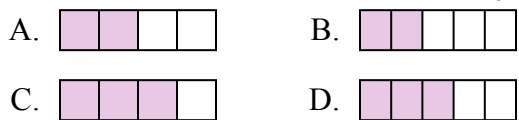
1) Какая из представленных ниже закрашенных фигур соответствует $\frac{6}{8}$?



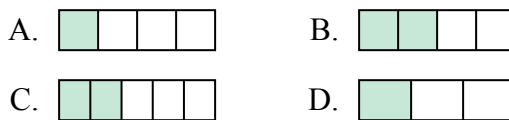
2) Какая из представленных ниже закрашенных фигур соответствует $\frac{4}{7}$?



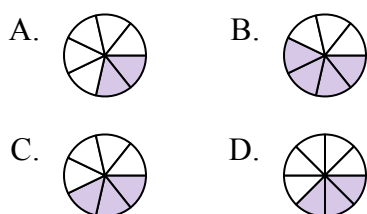
3) Какая из представленных ниже закрашенных фигур соответствует $\frac{3}{5}$?



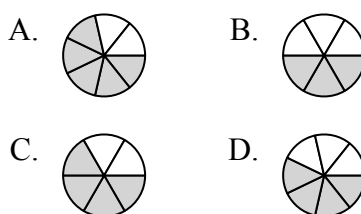
4) Какая из представленных ниже закрашенных фигур соответствует $\frac{2}{4}$?



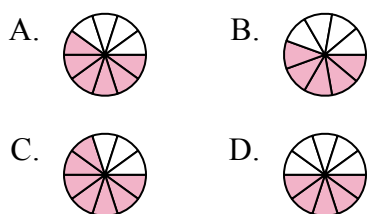
5) Какая из представленных ниже закрашенных фигур соответствует $\frac{3}{7}$?



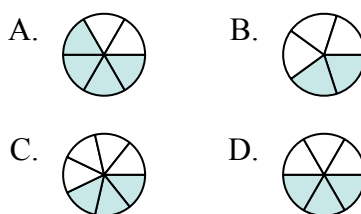
6) Какая из представленных ниже закрашенных фигур соответствует $\frac{4}{6}$?



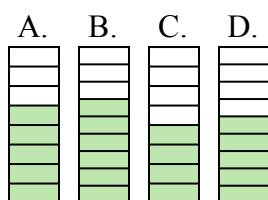
7) Какая из представленных ниже закрашенных фигур соответствует $\frac{6}{10}$?



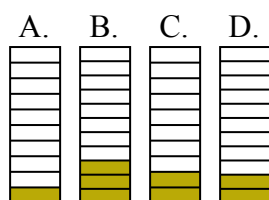
8) Какая из представленных ниже закрашенных фигур соответствует $\frac{3}{6}$?



9) Какая из представленных ниже закрашенных фигур соответствует $\frac{5}{8}$?



10) Какая из представленных ниже закрашенных фигур соответствует $\frac{2}{10}$?



1. В

2. А

3. Д

4. В

5. С

6. С

7. А

8. Д

9. А

10. С