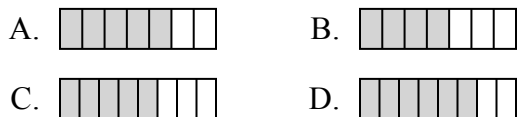




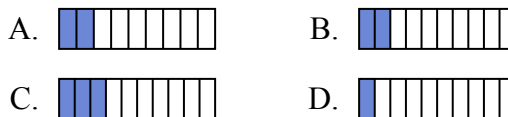
Определите под какой буквой находится правильный ответ.

ОТВЕТЫ

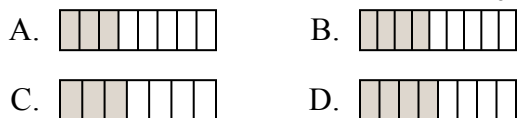
1) Какая из представленных ниже закрашенных фигур соответствует $\frac{5}{8}$?



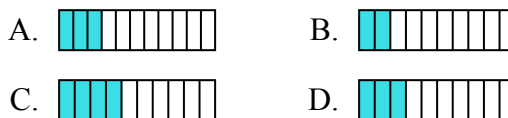
2) Какая из представленных ниже закрашенных фигур соответствует $\frac{2}{10}$?



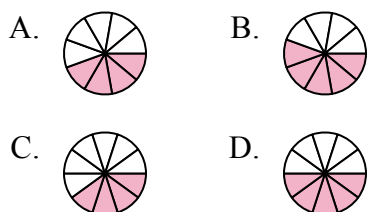
3) Какая из представленных ниже закрашенных фигур соответствует $\frac{4}{8}$?



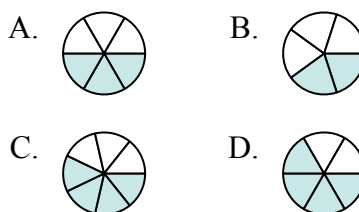
4) Какая из представленных ниже закрашенных фигур соответствует $\frac{3}{10}$?



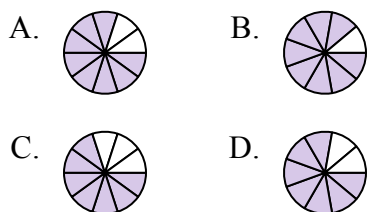
5) Какая из представленных ниже закрашенных фигур соответствует $\frac{5}{10}$?



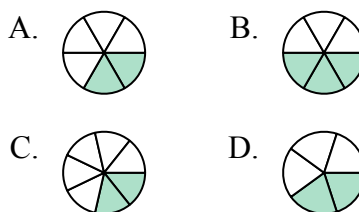
6) Какая из представленных ниже закрашенных фигур соответствует $\frac{3}{6}$?



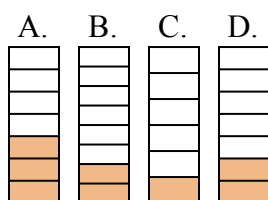
7) Какая из представленных ниже закрашенных фигур соответствует $\frac{8}{10}$?



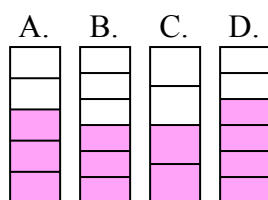
8) Какая из представленных ниже закрашенных фигур соответствует $\frac{2}{6}$?



9) Какая из представленных ниже закрашенных фигур соответствует $\frac{2}{7}$?



10) Какая из представленных ниже закрашенных фигур соответствует $\frac{3}{5}$?



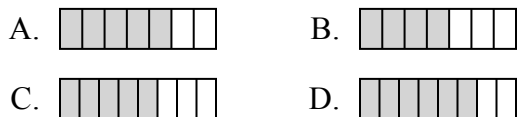
1. _____
2. _____
3. _____
4. _____
5. _____
6. _____
7. _____
8. _____
9. _____
10. _____



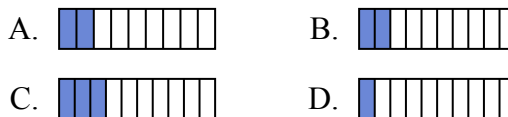
Определите под какой буквой находится правильный ответ.

ОТВЕТЫ

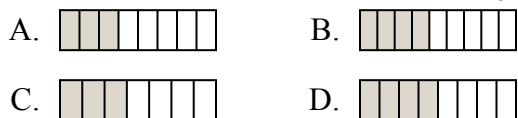
1) Какая из представленных ниже закрашенных фигур соответствует $\frac{5}{8}$?



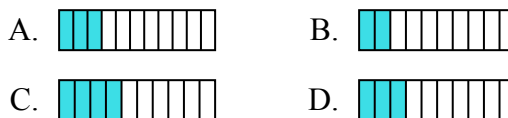
2) Какая из представленных ниже закрашенных фигур соответствует $\frac{2}{10}$?



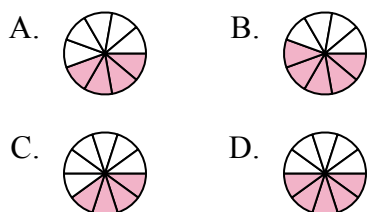
3) Какая из представленных ниже закрашенных фигур соответствует $\frac{4}{8}$?



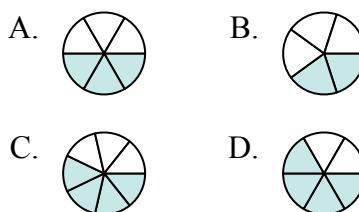
4) Какая из представленных ниже закрашенных фигур соответствует $\frac{3}{10}$?



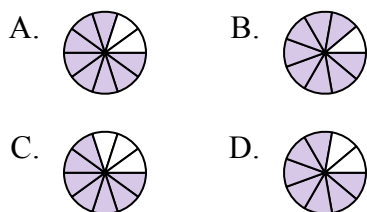
5) Какая из представленных ниже закрашенных фигур соответствует $\frac{5}{10}$?



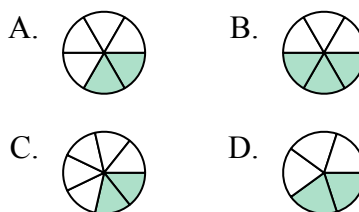
6) Какая из представленных ниже закрашенных фигур соответствует $\frac{3}{6}$?



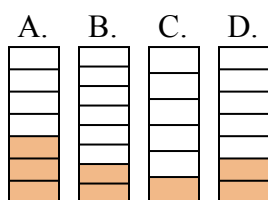
7) Какая из представленных ниже закрашенных фигур соответствует $\frac{8}{10}$?



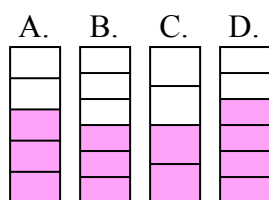
8) Какая из представленных ниже закрашенных фигур соответствует $\frac{2}{6}$?



9) Какая из представленных ниже закрашенных фигур соответствует $\frac{2}{7}$?



10) Какая из представленных ниже закрашенных фигур соответствует $\frac{3}{5}$?



1. **C**

2. **B**

3. **D**

4. **D**

5. **D**

6. **A**

7. **A**

8. **A**

9. **D**

10. **A**