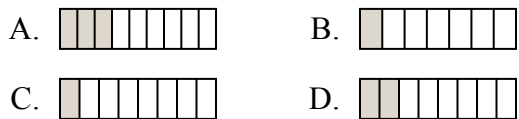




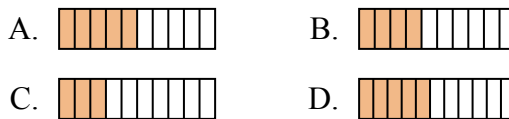
Определите под какой буквой находится правильный ответ.

ОТВЕТЫ

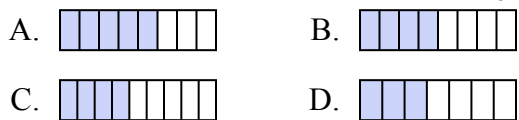
1) Какая из представленных ниже закрашенных фигур соответствует $\frac{2}{8}$?



2) Какая из представленных ниже закрашенных фигур соответствует $\frac{4}{10}$?



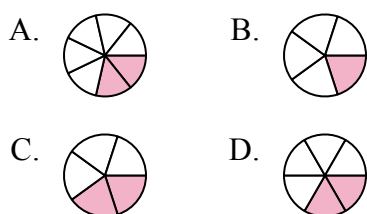
3) Какая из представленных ниже закрашенных фигур соответствует $\frac{4}{8}$?



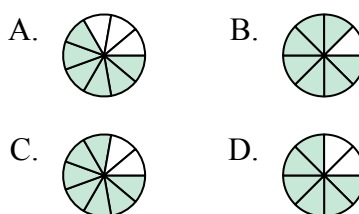
4) Какая из представленных ниже закрашенных фигур соответствует $\frac{2}{10}$?



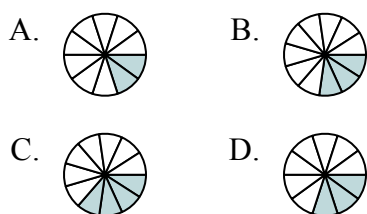
5) Какая из представленных ниже закрашенных фигур соответствует $\frac{2}{6}$?



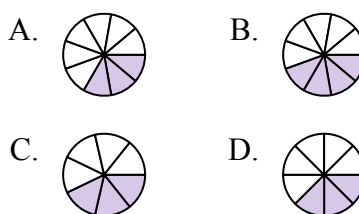
6) Какая из представленных ниже закрашенных фигур соответствует $\frac{6}{8}$?



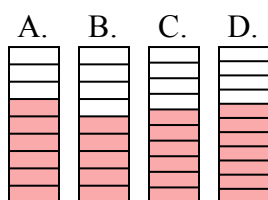
7) Какая из представленных ниже закрашенных фигур соответствует $\frac{3}{10}$?



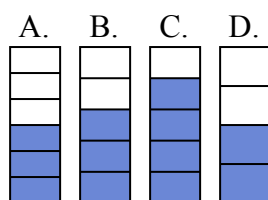
8) Какая из представленных ниже закрашенных фигур соответствует $\frac{3}{8}$?



9) Какая из представленных ниже закрашенных фигур соответствует $\frac{6}{10}$?



10) Какая из представленных ниже закрашенных фигур соответствует $\frac{3}{5}$?



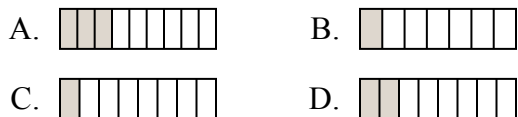
1. _____
2. _____
3. _____
4. _____
5. _____
6. _____
7. _____
8. _____
9. _____
10. _____



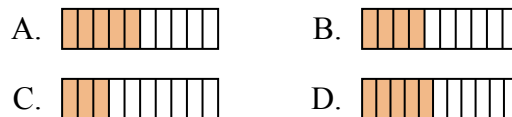
Определите под какой буквой находится правильный ответ.

ОТВЕТЫ

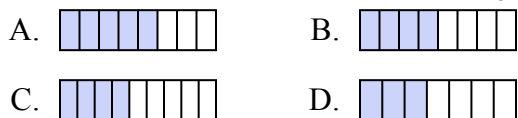
1) Какая из представленных ниже закрашенных фигур соответствует $\frac{2}{8}$?



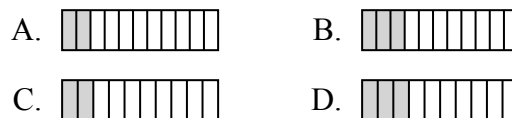
2) Какая из представленных ниже закрашенных фигур соответствует $\frac{4}{10}$?



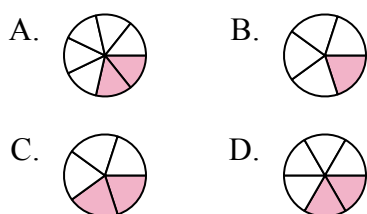
3) Какая из представленных ниже закрашенных фигур соответствует $\frac{4}{8}$?



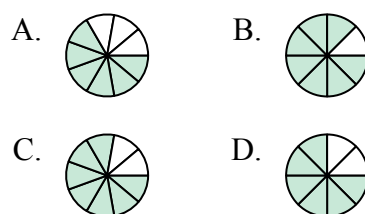
4) Какая из представленных ниже закрашенных фигур соответствует $\frac{2}{10}$?



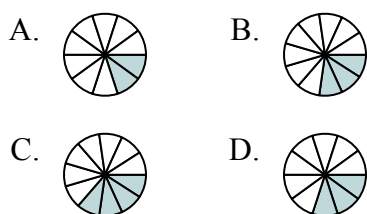
5) Какая из представленных ниже закрашенных фигур соответствует $\frac{2}{6}$?



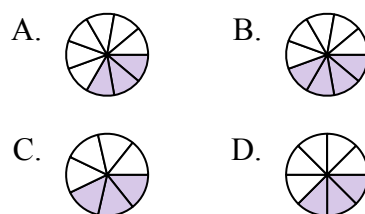
6) Какая из представленных ниже закрашенных фигур соответствует $\frac{6}{8}$?



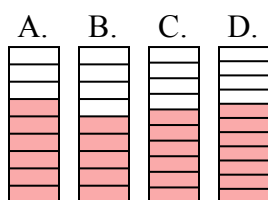
7) Какая из представленных ниже закрашенных фигур соответствует $\frac{3}{10}$?



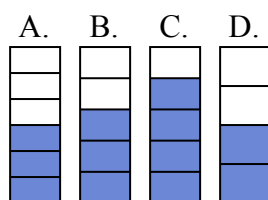
8) Какая из представленных ниже закрашенных фигур соответствует $\frac{3}{8}$?



9) Какая из представленных ниже закрашенных фигур соответствует $\frac{6}{10}$?



10) Какая из представленных ниже закрашенных фигур соответствует $\frac{3}{5}$?



1. **D**

2. **B**

3. **B**

4. **C**

5. **D**

6. **D**

7. **D**

8. **D**

9. **C**

10. **B**