





Определите под какой буквой находится правильный ответ.

ОТВЕТЫ

1) Какая из представленных ниже закрашенных фигур соответствует $\frac{2}{4}$?



2) Какая из представленных ниже закрашенных фигур соответствует $\frac{3}{6}$?



3) Какая из представленных ниже закрашенных фигур соответствует $\frac{8}{10}$?



4) Какая из представленных ниже закрашенных фигур соответствует $\frac{3}{10}$?



5) Какая из представленных ниже закрашенных фигур соответствует $\frac{4}{7}$?



6) Какая из представленных ниже закрашенных фигур соответствует $\frac{5}{7}$?



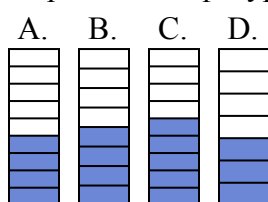
7) Какая из представленных ниже закрашенных фигур соответствует $\frac{2}{6}$?



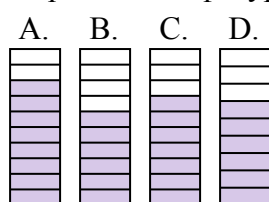
8) Какая из представленных ниже закрашенных фигур соответствует $\frac{2}{10}$?



9) Какая из представленных ниже закрашенных фигур соответствует $\frac{4}{8}$?



10) Какая из представленных ниже закрашенных фигур соответствует $\frac{7}{10}$?



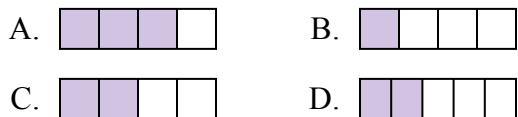
1. _____
2. _____
3. _____
4. _____
5. _____
6. _____
7. _____
8. _____
9. _____
10. _____



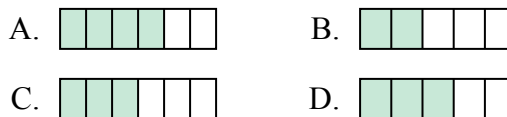
Определите под какой буквой находится правильный ответ.

ОТВЕТЫ

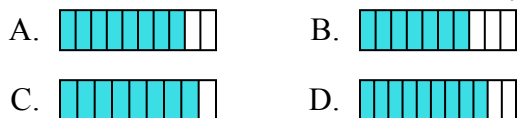
1) Какая из представленных ниже закрашенных фигур соответствует $\frac{2}{4}$?



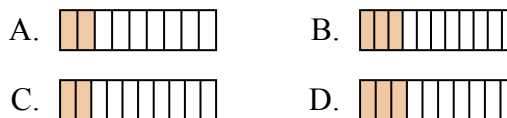
2) Какая из представленных ниже закрашенных фигур соответствует $\frac{3}{6}$?



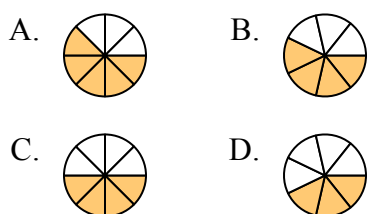
3) Какая из представленных ниже закрашенных фигур соответствует $\frac{8}{10}$?



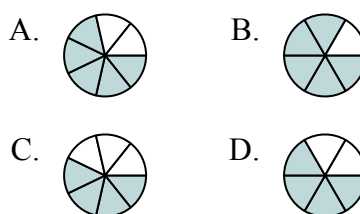
4) Какая из представленных ниже закрашенных фигур соответствует $\frac{3}{10}$?



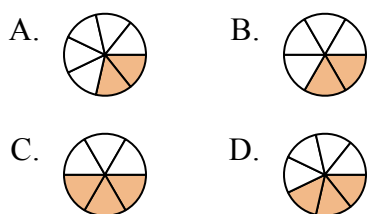
5) Какая из представленных ниже закрашенных фигур соответствует $\frac{4}{7}$?



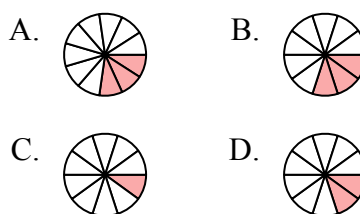
6) Какая из представленных ниже закрашенных фигур соответствует $\frac{5}{7}$?



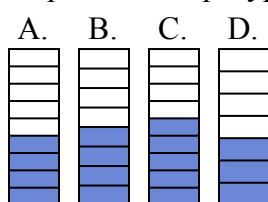
7) Какая из представленных ниже закрашенных фигур соответствует $\frac{2}{6}$?



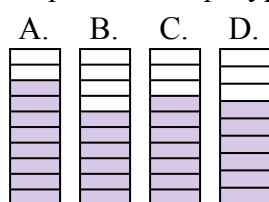
8) Какая из представленных ниже закрашенных фигур соответствует $\frac{2}{10}$?



9) Какая из представленных ниже закрашенных фигур соответствует $\frac{4}{8}$?



10) Какая из представленных ниже закрашенных фигур соответствует $\frac{7}{10}$?



1. **C**

2. **C**

3. **A**

4. **D**

5. **B**

6. **A**

7. **B**

8. **D**

9. **B**

10. **C**