




Решите каждую задачу.

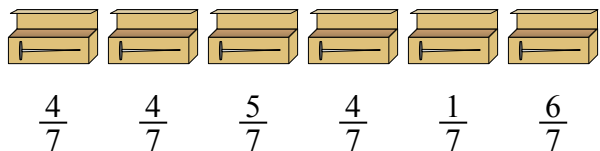
Ответы

- 1) Кувшины ниже имеют различное количество воды.



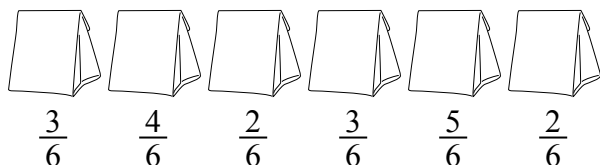
Если бы Вы распределили воду по кувшинам поровну, то сколько бы воды получилось в каждом?

- 2) У строителя было несколько коробок с гвоздями, которые были частично заполнены.




Если бы он разложил гвозди поровну в каждую коробку, то сколько гвоздей получилось бы в каждой коробке?

- 3) Мешочки с конфетами ниже являются дробями фунта.



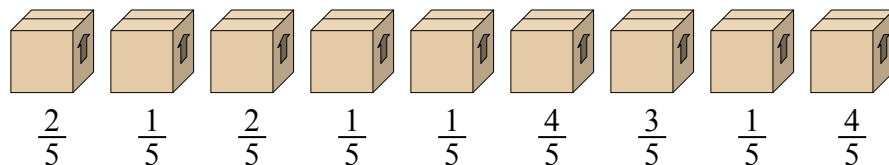
Если бы Вы распределили конфеты поровну по мешочкам, то сколько получилось бы в каждом мешочке?

- 4) На вечеринке стаканчики были заполнены различным количеством газировки.



Если бы газировка была налита в стаканы равномерно, то сколько бы получилось в каждом стакане?

- 5) Посмотрите на вес коробок, представленных ниже.




Если бы Вы распределяли содержимое коробок так, чтобы у них получился равный вес, то каков бы был вес каждой коробки?

1. _____
 2. _____
 3. _____
 4. _____
 5. _____



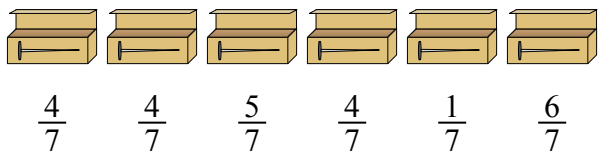
Решите каждую задачу.

- 1) Кувшины ниже имеют различное количество воды.



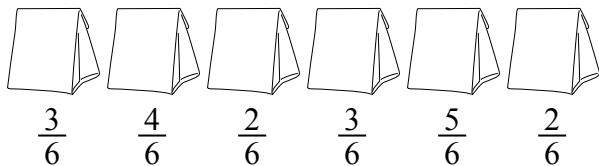
Если бы Вы распределили воду по кувшинам поровну, то сколько бы воды получилось в каждом?

- 2) У строителя было несколько коробок с гвоздями, которые были частично заполнены.




Если бы он разложил гвозди поровну в каждую коробку, то сколько гвоздей получилось бы в каждой коробке?

- 3) Мешочки с конфетами ниже являются дробями фунта.



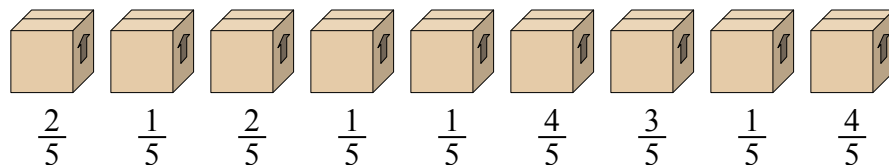
Если бы Вы распределили конфеты поровну по мешочкам, то сколько получилось бы в каждом мешочке?

- 4) На вечеринке стаканчики были заполнены различным количеством газировки.



Если бы газировка была налита в стаканы равномерно, то сколько бы получилось в каждом стакане?

- 5) Посмотрите на вес коробок, представленных ниже.



Если бы Вы распределяли содержимое коробок так, чтобы у них получился равный вес, то каков бы был вес каждой коробки?

ОТВЕТЫ

1. $\frac{26}{56} = \frac{13}{28}$

2. $\frac{24}{42} = \frac{4}{7}$

3. $\frac{19}{36}$

4. $\frac{20}{40} = \frac{1}{2}$

5. $\frac{19}{45}$