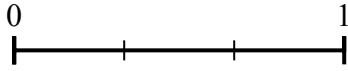
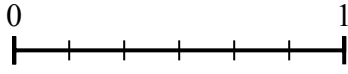




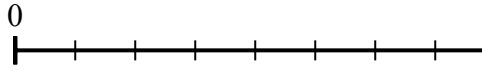
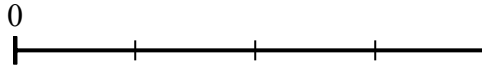
Используйте числовую прямую для решения задачи.

Отвeты

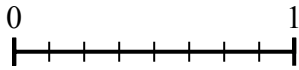
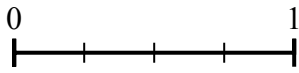
1) Используя данные числовые прямые, найдите эквивалент дроби {VAR}



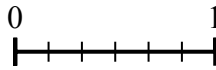
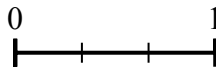
2) Используя данные числовые прямые, найдите эквивалент дроби {VAR}



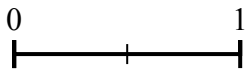
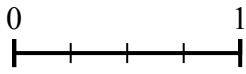
3) Используя данные числовые прямые, найдите эквивалент дроби {VAR}



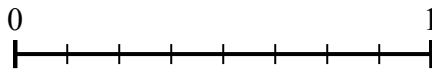
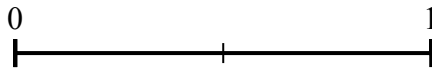
4) Используя данные числовые прямые, найдите эквивалент дроби {VAR}



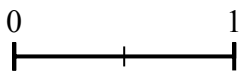
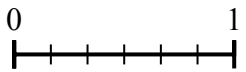
5) Используя данные числовые прямые, найдите эквивалент дроби {VAR}



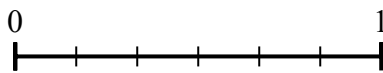
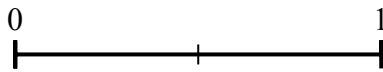
6) Используя данные числовые прямые, найдите эквивалент дроби {VAR}



7) Используя данные числовые прямые, найдите эквивалент дроби {VAR}



8) Используя данные числовые прямые, найдите эквивалент дроби {VAR}


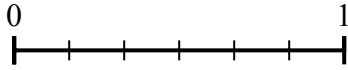


- 1. _____
- 2. _____
- 3. _____
- 4. _____
- 5. _____
- 6. _____
- 7. _____
- 8. _____

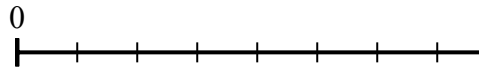
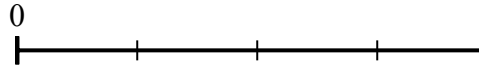


Используйте числовую прямую для решения задачи.

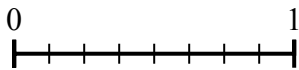
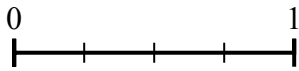
- 1) Используя данные числовые прямые, найдите эквивалент дроби {VAR}



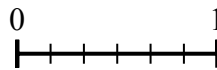
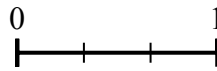
- 2) Используя данные числовые прямые, найдите эквивалент дроби {VAR}



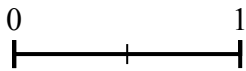
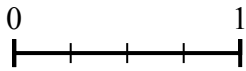
- 3) Используя данные числовые прямые, найдите эквивалент дроби {VAR}



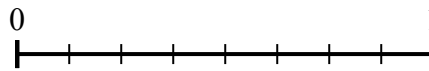
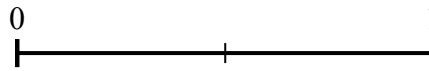
- 4) Используя данные числовые прямые, найдите эквивалент дроби {VAR}



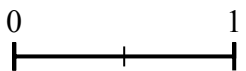
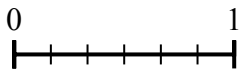
- 5) Используя данные числовые прямые, найдите эквивалент дроби {VAR}



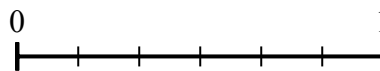
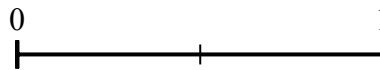
- 6) Используя данные числовые прямые, найдите эквивалент дроби {VAR}



- 7) Используя данные числовые прямые, найдите эквивалент дроби {VAR}



- 8) Используя данные числовые прямые, найдите эквивалент дроби {VAR}



Ответы

1. $\frac{2}{3}$

2. $\frac{2}{8}$

3. $\frac{4}{8}$

4. $\frac{2}{6}$

5. $\frac{2}{2}$

6. $\frac{4}{8}$

7. $\frac{2}{2}$

8. $\frac{3}{6}$