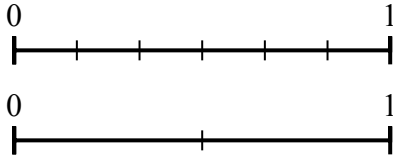




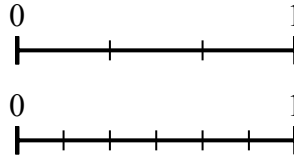
Используйте числовую прямую для решения задачи.

Отвeты

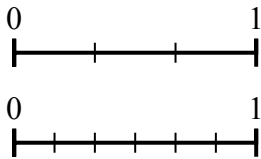
1) Используя данные числовые прямые, найдите эквивалент дроби {VAR}



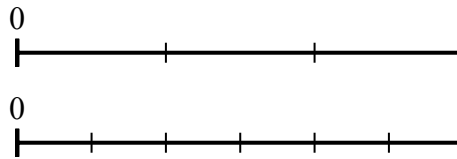
2) Используя данные числовые прямые, найдите эквивалент дроби {VAR}



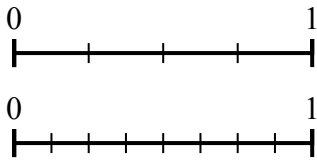
3) Используя данные числовые прямые, найдите эквивалент дроби {VAR}



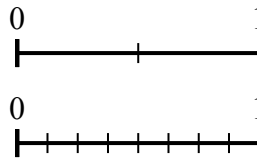
4) Используя данные числовые прямые, найдите эквивалент дроби {VAR}



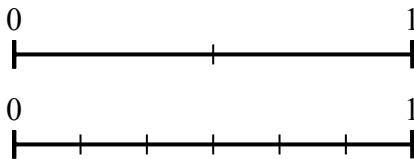
5) Используя данные числовые прямые, найдите эквивалент дроби {VAR}



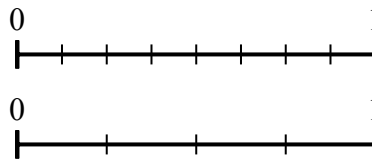
6) Используя данные числовые прямые, найдите эквивалент дроби {VAR}



7) Используя данные числовые прямые, найдите эквивалент дроби {VAR}



8) Используя данные числовые прямые, найдите эквивалент дроби {VAR}

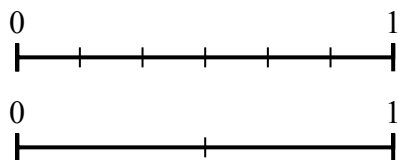


- 1. _____
- 2. _____
- 3. _____
- 4. _____
- 5. _____
- 6. _____
- 7. _____
- 8. _____

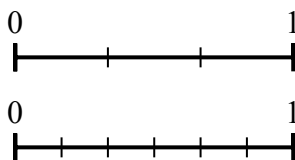


Используйте числовую прямую для решения задачи.

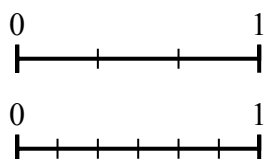
1) Используя данные числовые прямые, найдите эквивалент дроби {VAR}



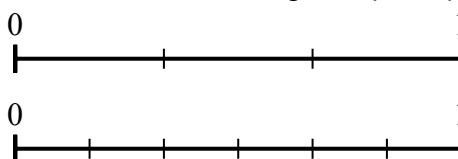
2) Используя данные числовые прямые, найдите эквивалент дроби {VAR}



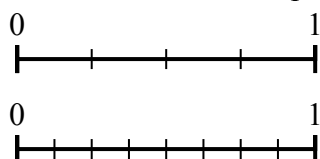
3) Используя данные числовые прямые, найдите эквивалент дроби {VAR}



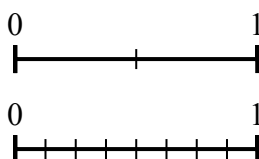
4) Используя данные числовые прямые, найдите эквивалент дроби {VAR}



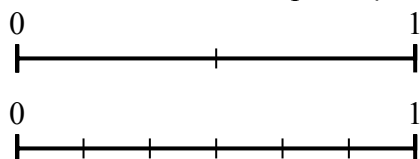
5) Используя данные числовые прямые, найдите эквивалент дроби {VAR}



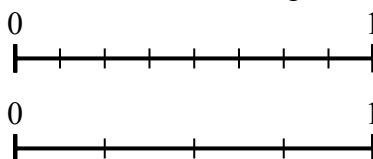
6) Используя данные числовые прямые, найдите эквивалент дроби {VAR}



7) Используя данные числовые прямые, найдите эквивалент дроби {VAR}



8) Используя данные числовые прямые, найдите эквивалент дроби {VAR}



Ответы

1. $\frac{2}{2}$
2. $\frac{4}{6}$
3. $\frac{6}{6}$
4. $\frac{2}{6}$
5. $\frac{4}{8}$
6. $\frac{4}{8}$
7. $\frac{3}{6}$
8. $\frac{4}{4}$