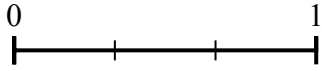
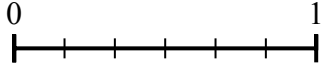




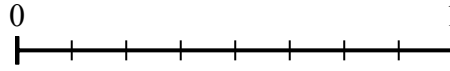
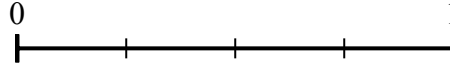
Используйте числовую прямую для решения задачи.

Отвeты

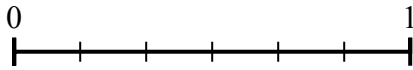
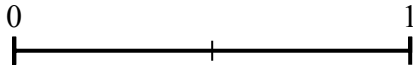
- 1) Используя данные числовые прямые, найдите эквивалент дроби {VAR}




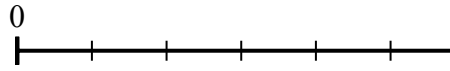
- 2) Используя данные числовые прямые, найдите эквивалент дроби {VAR}



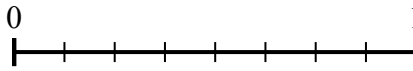
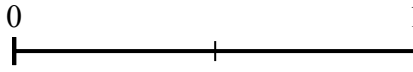
- 3) Используя данные числовые прямые, найдите эквивалент дроби {VAR}




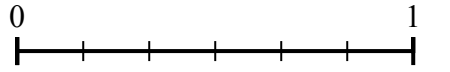
- 4) Используя данные числовые прямые, найдите эквивалент дроби {VAR}



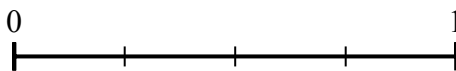
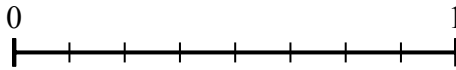
- 5) Используя данные числовые прямые, найдите эквивалент дроби {VAR}



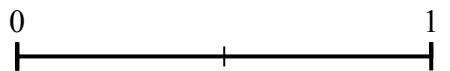
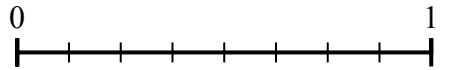
- 6) Используя данные числовые прямые, найдите эквивалент дроби {VAR}



- 7) Используя данные числовые прямые, найдите эквивалент дроби {VAR}



- 8) Используя данные числовые прямые, найдите эквивалент дроби {VAR}


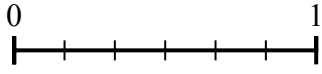


1. _____
2. _____
3. _____
4. _____
5. _____
6. _____
7. _____
8. _____

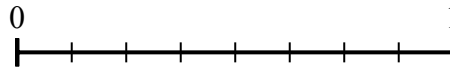
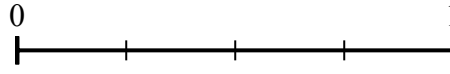


Используйте числовую прямую для решения задачи.

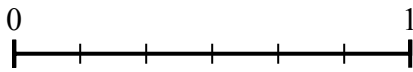
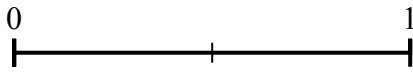
- 1) Используя данные числовые прямые, найдите эквивалент дроби {VAR}




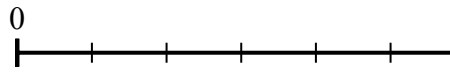
- 2) Используя данные числовые прямые, найдите эквивалент дроби {VAR}



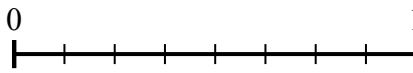
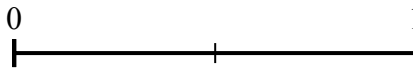
- 3) Используя данные числовые прямые, найдите эквивалент дроби {VAR}



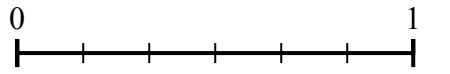
- 4) Используя данные числовые прямые, найдите эквивалент дроби {VAR}



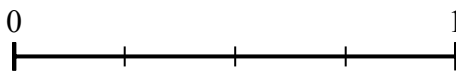
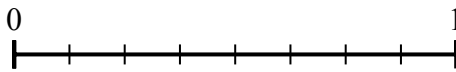
- 5) Используя данные числовые прямые, найдите эквивалент дроби {VAR}



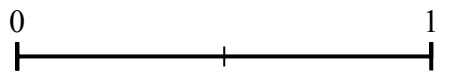
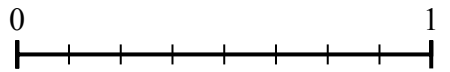
- 6) Используя данные числовые прямые, найдите эквивалент дроби {VAR}



- 7) Используя данные числовые прямые, найдите эквивалент дроби {VAR}



- 8) Используя данные числовые прямые, найдите эквивалент дроби {VAR}



Ответы

1. $\frac{3}{3}$

2. $\frac{2}{8}$

3. $\frac{0}{6}$

4. $\frac{1}{3}$

5. $\frac{8}{8}$

6. $\frac{2}{3}$

7. $\frac{4}{4}$

8. $\frac{1}{2}$