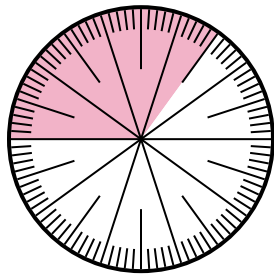


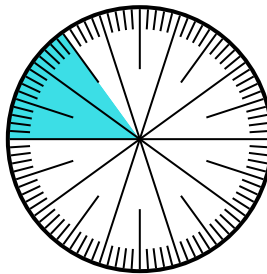


Решите каждую задачу.

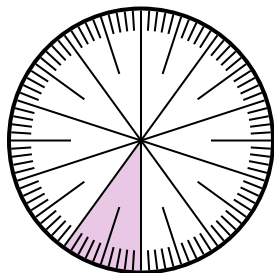
- 1) Выразите часть затененный как долю от целого с 100 в качестве знаменателя.



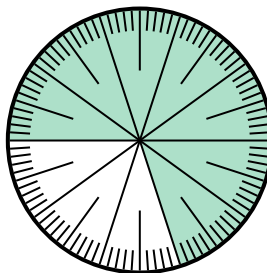
- 2) Выразите часть затененный как десятичную дробь от целого.



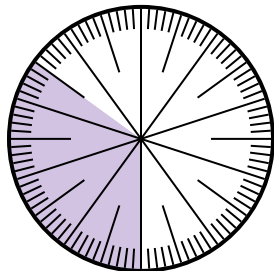
- 3) Выразите часть затененный как десятичную дробь от целого.



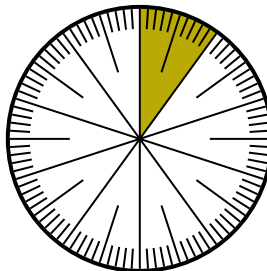
- 4) Выразите часть незатененный как долю от целого с 100 в качестве знаменателя.



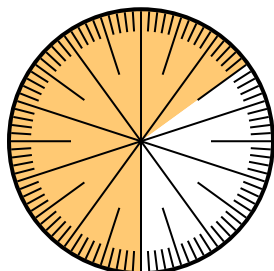
- 5) Выразите часть затененный как десятичную дробь от целого.



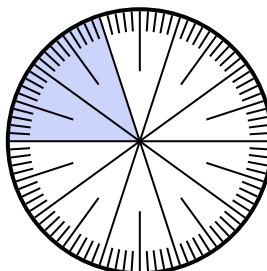
- 6) Выразите часть незатененный как десятичную дробь от целого.



- 7) Выразите часть незатененный как десятичную дробь от целого.



- 8) Выразите часть незатененный как долю от целого с 100 в качестве знаменателя.



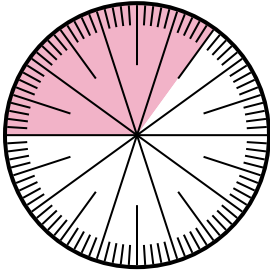
**Ответы**

1. \_\_\_\_\_
2. \_\_\_\_\_
3. \_\_\_\_\_
4. \_\_\_\_\_
5. \_\_\_\_\_
6. \_\_\_\_\_
7. \_\_\_\_\_
8. \_\_\_\_\_

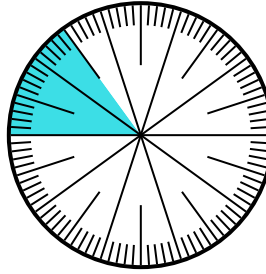


Решите каждую задачу.

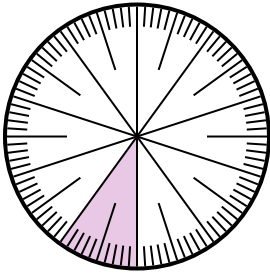
- 1) Выразите часть затененный как долю от целого с 100 в качестве знаменателя.



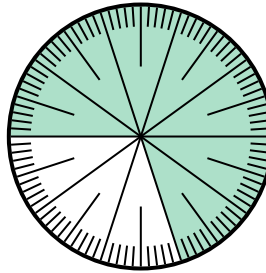
- 2) Выразите часть затененный как десятичную дробь от целого.



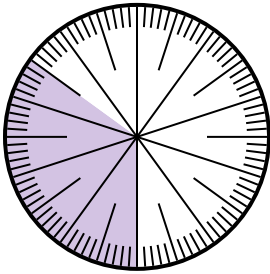
- 3) Выразите часть затененный как десятичную дробь от целого.



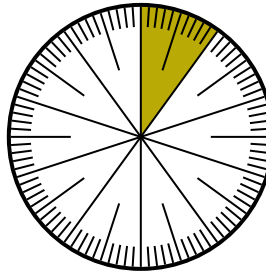
- 4) Выразите часть незатененный как долю от целого с 100 в качестве знаменателя.



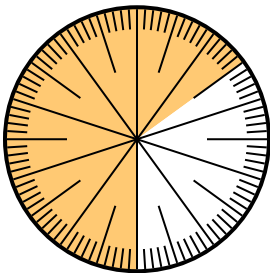
- 5) Выразите часть затененный как десятичную дробь от целого.



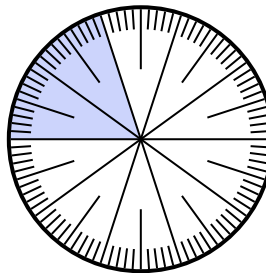
- 6) Выразите часть незатененный как десятичную дробь от целого.



- 7) Выразите часть незатененный как десятичную дробь от целого.



- 8) Выразите часть незатененный как долю от целого с 100 в качестве знаменателя.

**Ответы**

1.  $\frac{35}{100}$

2.  $0,15$

3.  $0,1$

4.  $\frac{30}{100}$

5.  $0,35$

6.  $0,9$

7.  $0,35$

8.  $\frac{80}{100}$