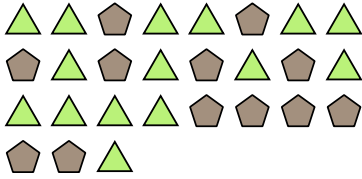





Решите каждую задачу.

об) Выразите пятиугольничков(ка) в виде дроби от всего множества.



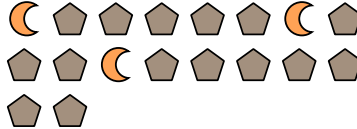
1) Выразите кругов(га) в виде дроби от всего множества.



2) Выразите звезд(ы) в виде дроби от всего множества.



3) Выразите луны в виде дроби от всего множества.



4) Выразите сердца в виде дроби от всего множества.




5) Выразите звезд(ы) в виде дроби от всего множества.



6) Выразите луны в виде дроби от всего множества.




7) Выразите пятиугольничков(ка) в виде дроби от всего множества.



8) Выразите пятиугольничков(ка) в виде дроби от всего множества.



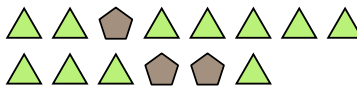
9) Выразите кругов(га) в виде дроби от всего множества.



10) Выразите звезд(ы) в виде дроби от всего множества.



11) Выразите треугольничков(ка) в виде дроби от всего множества.

**Ответы**

- об. $\frac{12}{27}$
1. _____
2. _____
3. _____
4. _____
5. _____
6. _____
7. _____
8. _____
9. _____
10. _____
11. _____

