

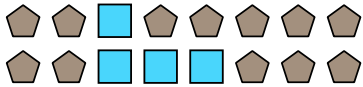


Решите каждую задачу.


- об) Выразите луны в виде дроби от всего множества.



- 2) Выразите квадратов(та) в виде дроби от всего множества.



- 4) Выразите звезд(ы) в виде дроби от всего множества.



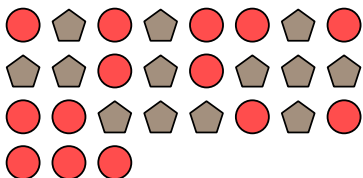
- 6) Выразите луны в виде дроби от всего множества.



- 8) Выразите звезд(ы) в виде дроби от всего множества.




- 10) Выразите кругов(га) в виде дроби от всего множества.




- 1) Выразите звезд(ы) в виде дроби от всего множества.



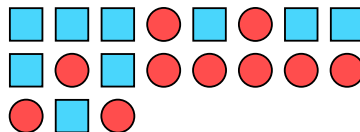
- 3) Выразите сердца в виде дроби от всего множества.




- 5) Выразите сердца в виде дроби от всего множества.




- 7) Выразите квадратов(та) в виде дроби от всего множества.



- 9) Выразите треугольников(ка) в виде дроби от всего множества.



- 11) Выразите звезд(ы) в виде дроби от всего множества.

**Отвeты**

об. $\frac{15}{22}$

1. _____

2. _____

3. _____

4. _____

5. _____

6. _____

7. _____

8. _____

9. _____

10. _____

11. _____

