



Решите каждую задачу.

- об) Выразите треугольников(ка) в виде дроби от всего множества.



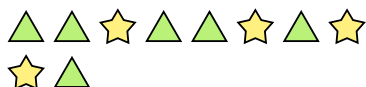
- 2) Выразите пятиугольников(ка) в виде дроби от всего множества.




- 4) Выразите луны в виде дроби от всего множества.




- 6) Выразите треугольников(ка) в виде дроби от всего множества.



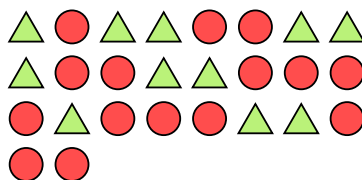
- 8) Выразите сердца в виде дроби от всего множества.



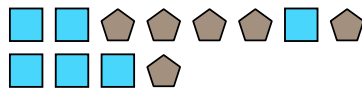
- 10) Выразите квадратов(та) в виде дроби от всего множества.



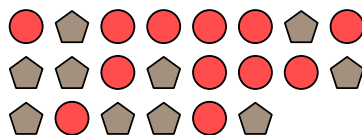
- 1) Выразите кругов(га) в виде дроби от всего множества.




- 3) Выразите квадратов(та) в виде дроби от всего множества.




- 5) Выразите кругов(га) в виде дроби от всего множества.



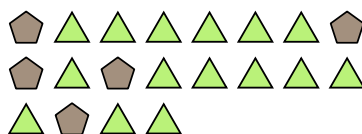
- 7) Выразите сердца в виде дроби от всего множества.



- 9) Выразите сердца в виде дроби от всего множества.



- 11) Выразите треугольников(ка) в виде дроби от всего множества.

**Ответы**

об. $\frac{3}{12}$

1. $\frac{15}{26}$

2. $\frac{4}{15}$

3. $\frac{6}{12}$

4. $\frac{8}{22}$

5. $\frac{12}{22}$

6. $\frac{6}{10}$

7. $\frac{8}{19}$

8. $\frac{15}{23}$

9. $\frac{5}{14}$

10. $\frac{6}{19}$

11. $\frac{15}{20}$