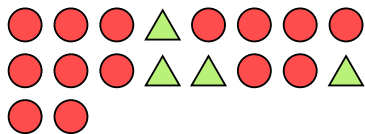





Решите каждую задачу.

- об) Выразите треугольников(ка) в виде дроби от всего множества.



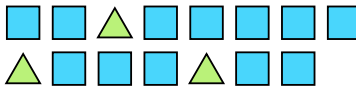
- 1) Выразите луны в виде дроби от всего множества.



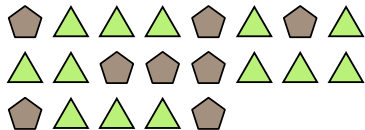
- 2) Выразите кругов(га) в виде дроби от всего множества.



- 3) Выразите квадратов(га) в виде дроби от всего множества.



- 4) Выразите треугольников(ка) в виде дроби от всего множества.




- 5) Выразите треугольников(ка) в виде дроби от всего множества.



- 6) Выразите луны в виде дроби от всего множества.



- 7) Выразите кругов(га) в виде дроби от всего множества.




- 8) Выразите луны в виде дроби от всего множества.



- 9) Выразите звезд(ы) в виде дроби от всего множества.



- 10) Выразите кругов(га) в виде дроби от всего множества.



- 11) Выразите пятиугольников(ка) в виде дроби от всего множества.

**Ответы**об.  $\frac{4}{18}$ 

1. \_\_\_\_\_

2. \_\_\_\_\_

3. \_\_\_\_\_

4. \_\_\_\_\_

5. \_\_\_\_\_

6. \_\_\_\_\_

7. \_\_\_\_\_

8. \_\_\_\_\_

9. \_\_\_\_\_

10. \_\_\_\_\_

11. \_\_\_\_\_

