




Решите каждую задачу.


- об) Выразите звезд(ы) в виде дроби от всего множества.




- 2) Выразите сердца в виде дроби от всего множества.



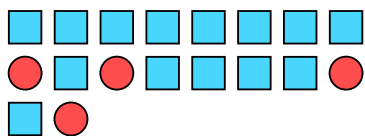
- 4) Выразите звезд(ы) в виде дроби от всего множества.



- 6) Выразите пятиугольников(ка) в виде дроби от всего множества.



- 8) Выразите квадратов(та) в виде дроби от всего множества.



- 10) Выразите луны в виде дроби от всего множества.



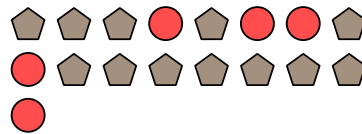
- 1) Выразите пятиугольников(ка) в виде дроби от всего множества.



- 3) Выразите пятиугольников(ка) в виде дроби от всего множества.



- 5) Выразите кругов(га) в виде дроби от всего множества.



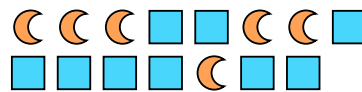
- 7) Выразите треугольников(ка) в виде дроби от всего множества.



- 9) Выразите звезд(ы) в виде дроби от всего множества.



- 11) Выразите луны в виде дроби от всего множества.

**Ответы**

об. $\frac{15}{25}$

1. $\frac{8}{20}$

2. $\frac{10}{12}$

3. $\frac{11}{16}$

4. $\frac{3}{13}$

5. $\frac{5}{17}$

6. $\frac{14}{29}$

7. $\frac{8}{14}$

8. $\frac{14}{18}$

9. $\frac{7}{12}$

10. $\frac{8}{13}$

11. $\frac{6}{15}$