




Решите каждую задачу.

- об) Выразите треугольников(ка) в виде дроби от всего множества.



- 2) Выразите луны в виде дроби от всего множества.




- 4) Выразите звезд(ы) в виде дроби от всего множества.



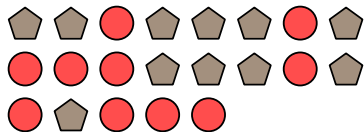
- 6) Выразите звезд(ы) в виде дроби от всего множества.



- 8) Выразите кругов(га) в виде дроби от всего множества.




- 10) Выразите пятиугольников(ка) в виде дроби от всего множества.



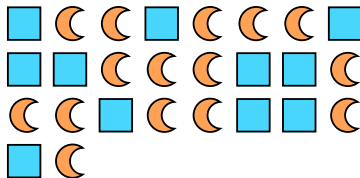
- 1) Выразите звезд(ы) в виде дроби от всего множества.




- 3) Выразите пятиугольников(ка) в виде дроби от всего множества.



- 5) Выразите луны в виде дроби от всего множества.




- 7) Выразите кругов(га) в виде дроби от всего множества.



- 9) Выразите пятиугольников(ка) в виде дроби от всего множества.



- 11) Выразите квадратов(га) в виде дроби от всего множества.

**Ответы**

об. $\frac{4}{16}$

1. $\frac{9}{21}$

2. $\frac{2}{15}$

3. $\frac{10}{23}$

4. $\frac{12}{17}$

5. $\frac{15}{26}$

6. $\frac{7}{16}$

7. $\frac{12}{19}$

8. $\frac{8}{23}$

9. $\frac{7}{11}$

10. $\frac{11}{21}$

11. $\frac{4}{10}$