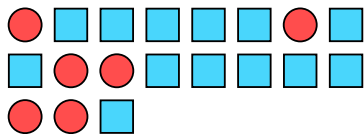




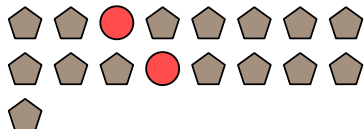


Решите каждую задачу.

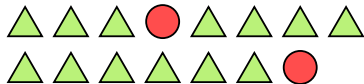
- об) Выразите кругов(га) в виде дроби от всего множества.



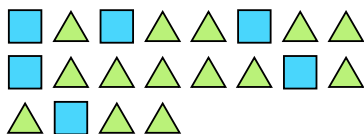
- 2) Выразите пятиугольников(ка) в виде дроби от всего множества.



- 4) Выразите кругов(га) в виде дроби от всего множества.



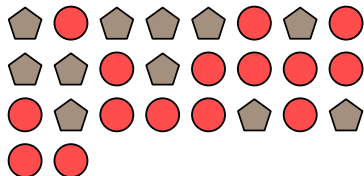
- 6) Выразите треугольников(ка) в виде дроби от всего множества.



- 8) Выразите треугольников(ка) в виде дроби от всего множества.




- 10) Выразите пятиугольников(ка) в виде дроби от всего множества.



- 1) Выразите звезд(ы) в виде дроби от всего множества.




- 3) Выразите луны в виде дроби от всего множества.




- 5) Выразите звезд(ы) в виде дроби от всего множества.



- 7) Выразите треугольников(ка) в виде дроби от всего множества.



- 9) Выразите луны в виде дроби от всего множества.



- 11) Выразите звезд(ы) в виде дроби от всего множества.

**Ответы**

об.  $\frac{6}{19}$

1.  $\frac{9}{11}$

2.  $\frac{15}{17}$

3.  $\frac{3}{11}$

4.  $\frac{2}{15}$

5.  $\frac{15}{25}$

6.  $\frac{14}{20}$

7.  $\frac{7}{20}$

8.  $\frac{5}{13}$

9.  $\frac{11}{19}$

10.  $\frac{11}{26}$

11.  $\frac{5}{15}$