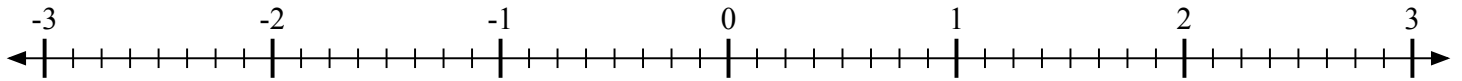

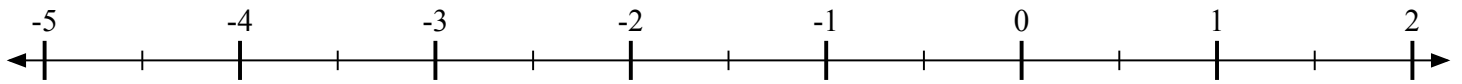
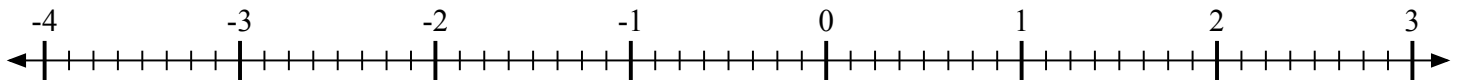
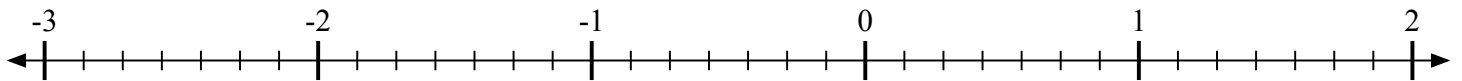
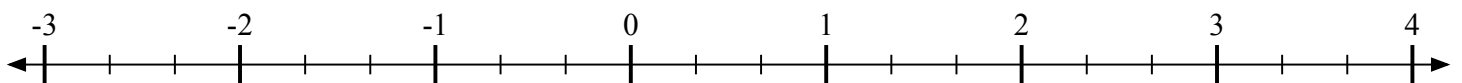
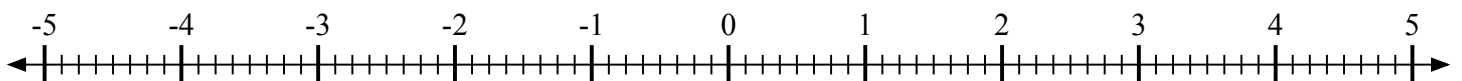
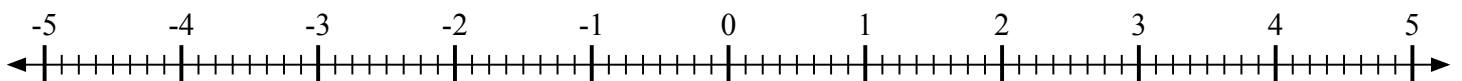
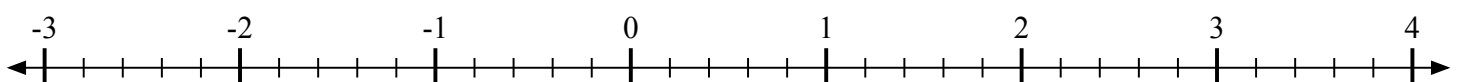




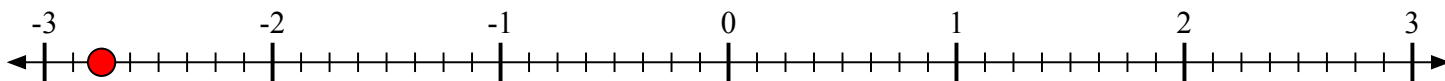
Отметьте каждое местоположение.

1) Отметьте положение $-2\frac{6}{8}$ 2) Отметьте положение $-1\frac{2}{3}$ 3) Отметьте положение $1\frac{1}{2}$ 4) Отметьте положение $-3\frac{6}{8}$ 5) Отметьте положение $1\frac{5}{7}$ 6) Отметьте положение $2\frac{2}{3}$ 7) Отметьте положение $2\frac{3}{8}$ 8) Отметьте положение $-2\frac{5}{8}$ 9) Отметьте положение $-2\frac{1}{5}$ 

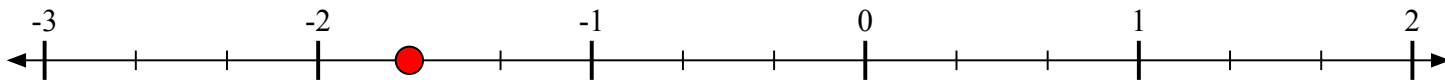


Отметьте каждое местоположение.

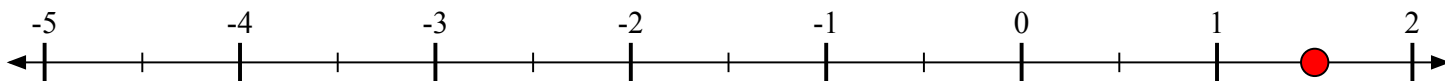
- 1) Отметьте положение
- $-2\frac{6}{8}$



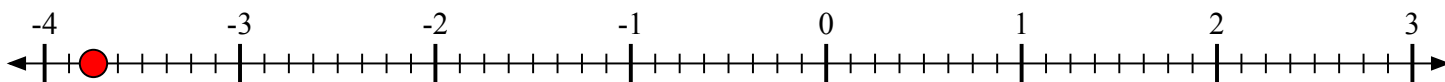
- 2) Отметьте положение
- $-1\frac{2}{3}$



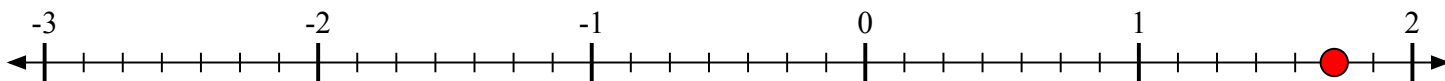
- 3) Отметьте положение
- $1\frac{1}{2}$



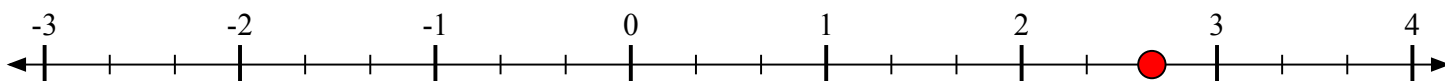
- 4) Отметьте положение
- $-3\frac{6}{8}$



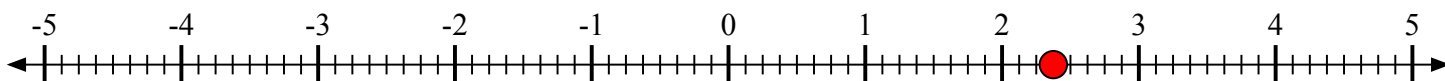
- 5) Отметьте положение
- $1\frac{5}{7}$



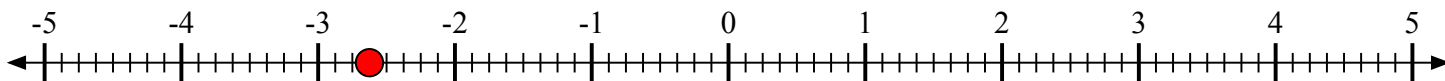
- 6) Отметьте положение
- $2\frac{2}{3}$



- 7) Отметьте положение
- $2\frac{3}{8}$



- 8) Отметьте положение
- $-2\frac{5}{8}$



- 9) Отметьте положение
- $-2\frac{1}{5}$

