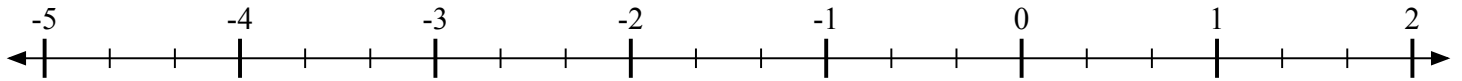
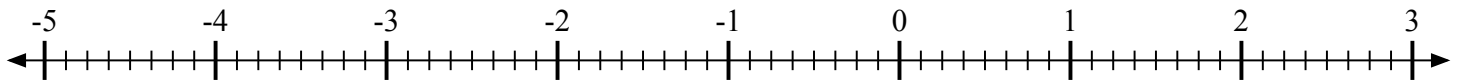
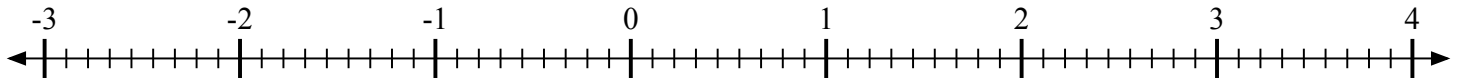
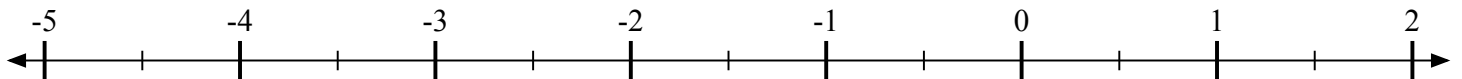
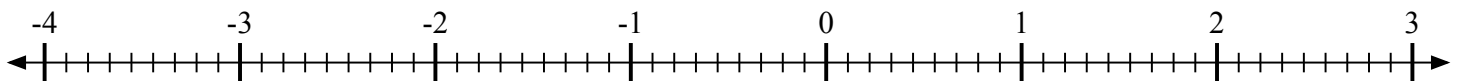
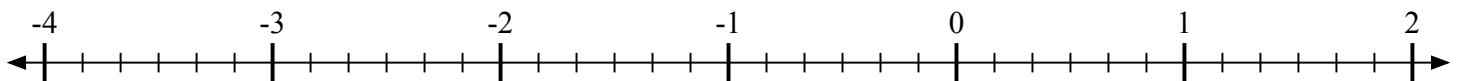
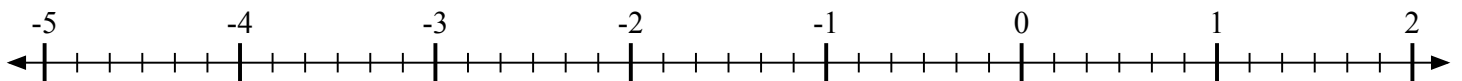
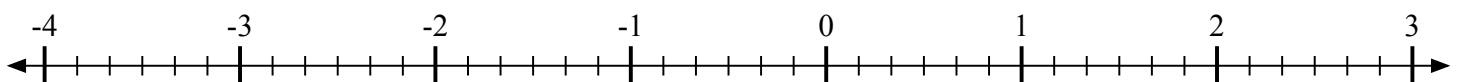


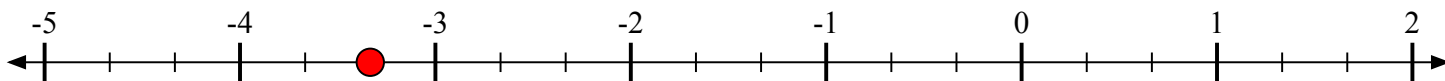
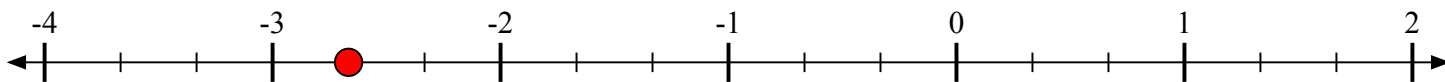
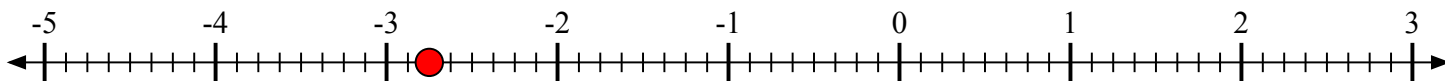
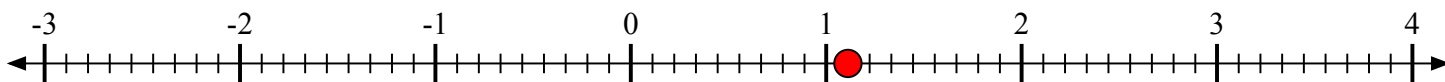
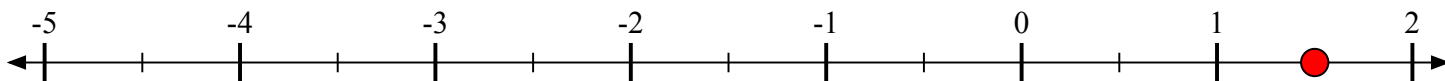
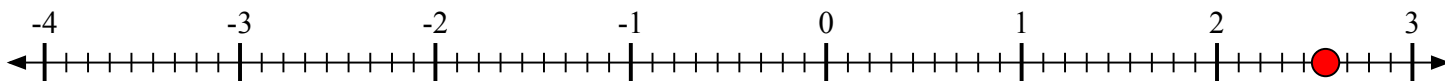
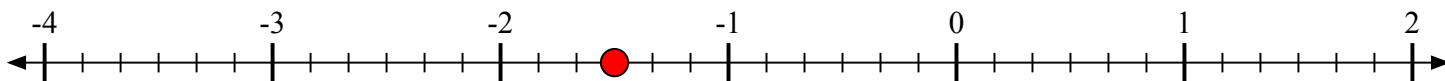
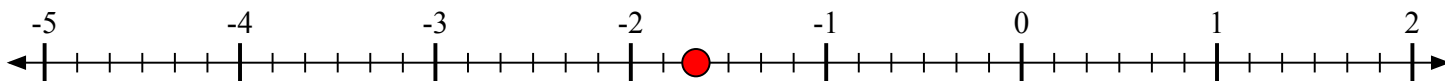


Отметьте каждое местоположение.

1) Отметьте положение $-3\frac{1}{3}$ 2) Отметьте положение $-2\frac{2}{3}$ 3) Отметьте положение $-2\frac{6}{8}$ 4) Отметьте положение $1\frac{1}{9}$ 5) Отметьте положение $1\frac{1}{2}$ 6) Отметьте положение $2\frac{5}{9}$ 7) Отметьте положение $-1\frac{3}{6}$ 8) Отметьте положение $-1\frac{4}{6}$ 9) Отметьте положение $-1\frac{2}{6}$ 



Отметьте каждое местоположение.

1) Отметьте положение $-3\frac{1}{3}$ 2) Отметьте положение $-2\frac{2}{3}$ 3) Отметьте положение $-2\frac{6}{8}$ 4) Отметьте положение $1\frac{1}{9}$ 5) Отметьте положение $1\frac{1}{2}$ 6) Отметьте положение $2\frac{5}{9}$ 7) Отметьте положение $-1\frac{3}{6}$ 8) Отметьте положение $-1\frac{4}{6}$ 9) Отметьте положение $-1\frac{2}{6}$ 