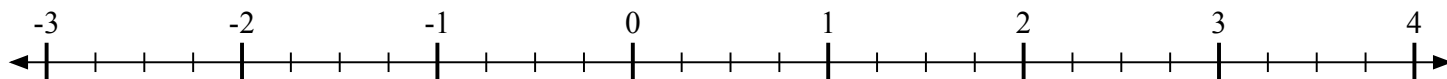
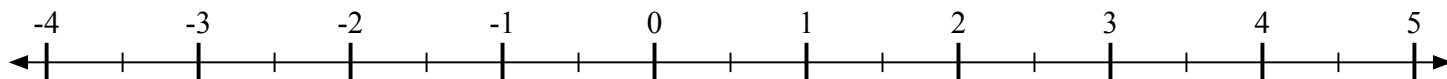
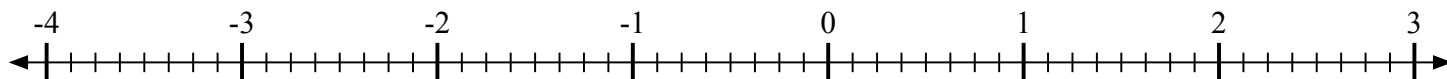
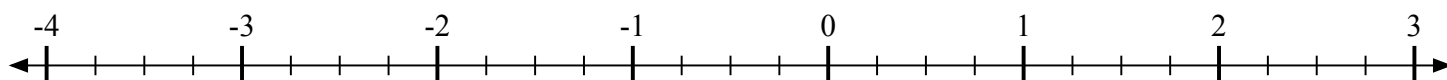
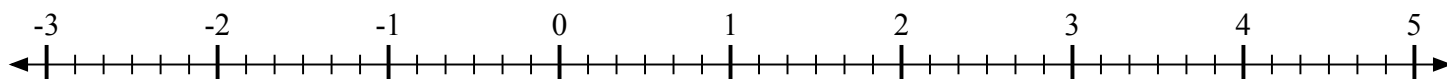
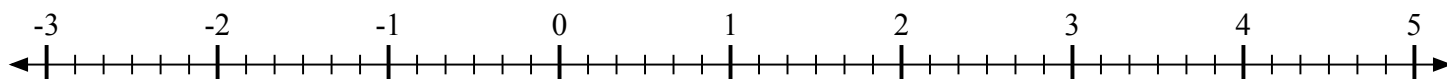
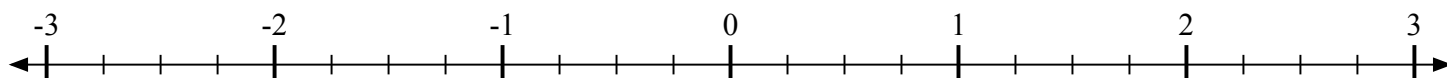
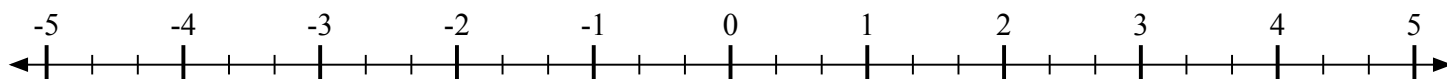
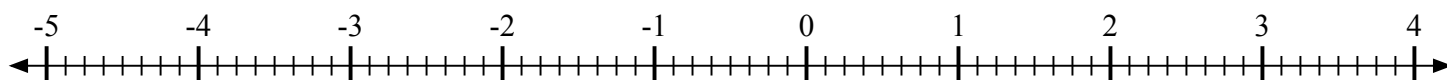


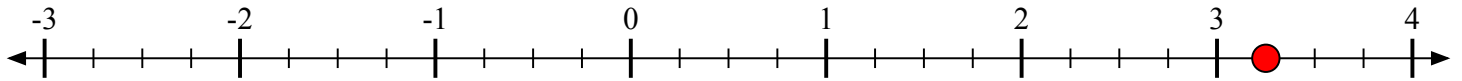
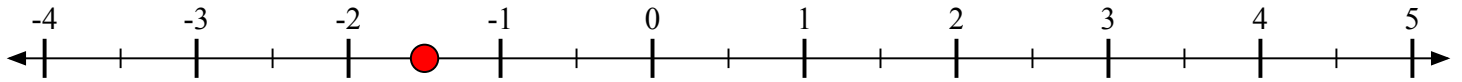
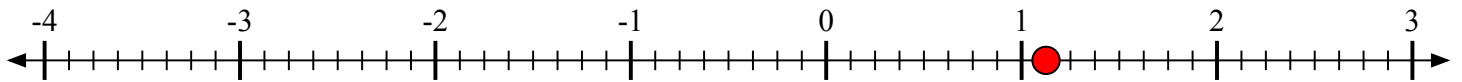
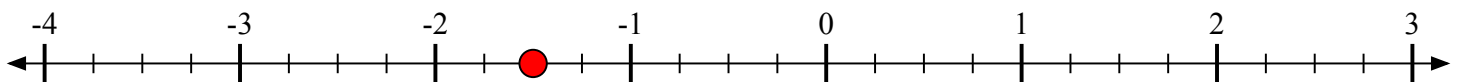
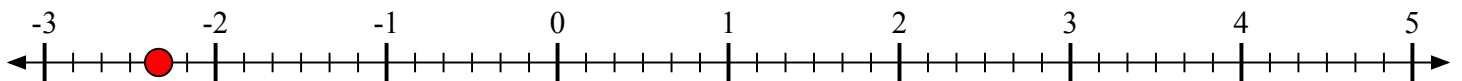
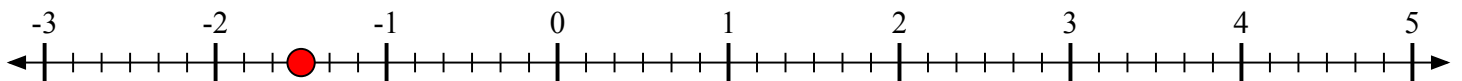
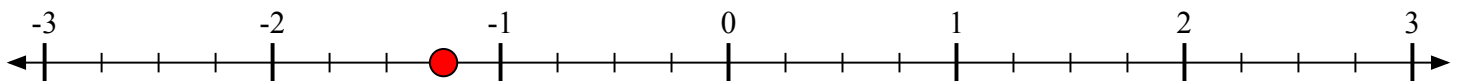
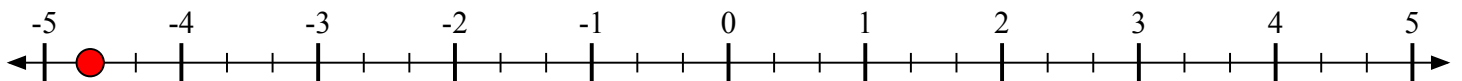


Отметьте каждое местоположение.

1) Отметьте положение $3\frac{1}{4}$ 2) Отметьте положение $-1\frac{1}{2}$ 3) Отметьте положение $1\frac{1}{8}$ 4) Отметьте положение $-1\frac{2}{4}$ 5) Отметьте положение $-2\frac{2}{6}$ 6) Отметьте положение $-1\frac{3}{6}$ 7) Отметьте положение $-1\frac{1}{4}$ 8) Отметьте положение $-4\frac{2}{3}$ 9) Отметьте положение $-2\frac{5}{8}$ 



Отметьте каждое местоположение.

1) Отметьте положение $3\frac{1}{4}$ 2) Отметьте положение $-1\frac{1}{2}$ 3) Отметьте положение $1\frac{1}{8}$ 4) Отметьте положение $-1\frac{2}{4}$ 5) Отметьте положение $-2\frac{2}{6}$ 6) Отметьте положение $-1\frac{3}{6}$ 7) Отметьте положение $-1\frac{1}{4}$ 8) Отметьте положение $-4\frac{2}{3}$ 9) Отметьте положение $-2\frac{5}{8}$ 