
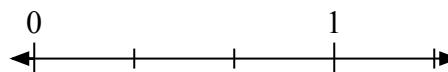
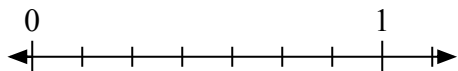
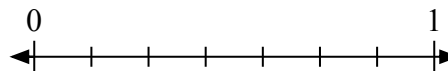
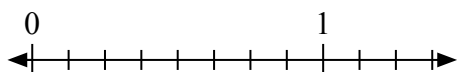
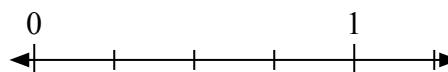
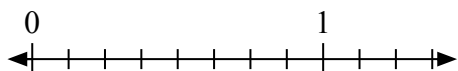
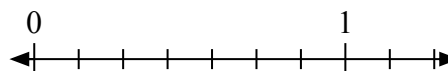
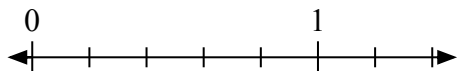
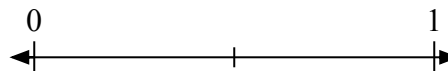
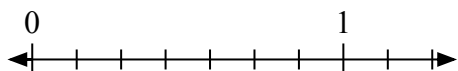
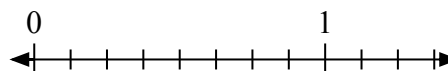
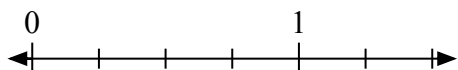
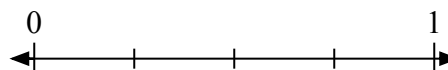
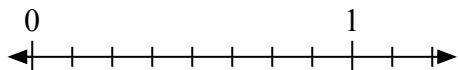
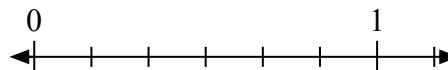



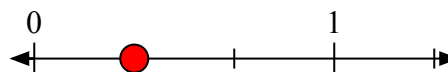
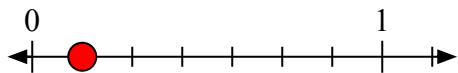
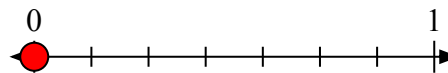
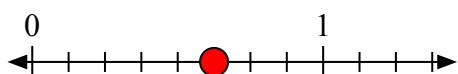
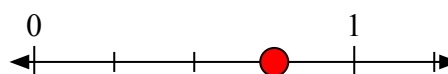
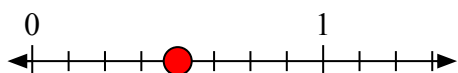
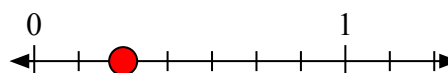
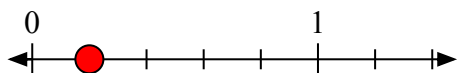
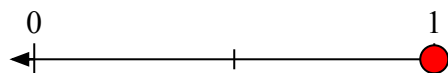
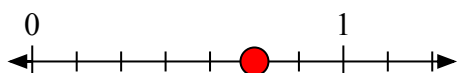
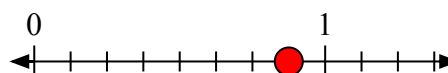
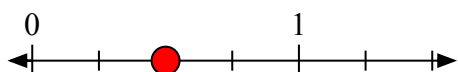
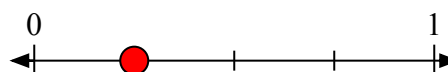
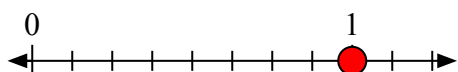


Решите каждую задачу.

1) Запишите  $\frac{3}{3}$  целым числом.2) Запишите  $\frac{1}{3}$  целым числом.3) Запишите  $\frac{1}{7}$  целым числом.4) Запишите  $\frac{0}{7}$  целым числом.5) Запишите  $\frac{5}{8}$  целым числом.6) Запишите  $\frac{3}{4}$  целым числом.7) Запишите  $\frac{4}{8}$  целым числом.8) Запишите  $\frac{2}{7}$  целым числом.9) Запишите  $\frac{1}{5}$  целым числом.10) Запишите  $\frac{2}{2}$  целым числом.11) Запишите  $\frac{5}{7}$  целым числом.12) Запишите  $\frac{7}{8}$  целым числом.13) Запишите  $\frac{2}{4}$  целым числом.14) Запишите  $\frac{1}{4}$  целым числом.15) Запишите  $\frac{8}{8}$  целым числом.16) Запишите  $\frac{2}{6}$  целым числом.



Решите каждую задачу.

1) Запишите  $\frac{3}{3}$  целым числом.2) Запишите  $\frac{1}{3}$  целым числом.3) Запишите  $\frac{1}{7}$  целым числом.4) Запишите  $\frac{0}{7}$  целым числом.5) Запишите  $\frac{5}{8}$  целым числом.6) Запишите  $\frac{3}{4}$  целым числом.7) Запишите  $\frac{4}{8}$  целым числом.8) Запишите  $\frac{2}{7}$  целым числом.9) Запишите  $\frac{1}{5}$  целым числом.10) Запишите  $\frac{2}{2}$  целым числом.11) Запишите  $\frac{5}{7}$  целым числом.12) Запишите  $\frac{7}{8}$  целым числом.13) Запишите  $\frac{2}{4}$  целым числом.14) Запишите  $\frac{1}{4}$  целым числом.15) Запишите  $\frac{8}{8}$  целым числом.16) Запишите  $\frac{2}{6}$  целым числом.