
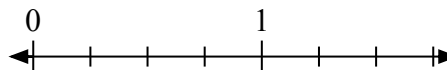
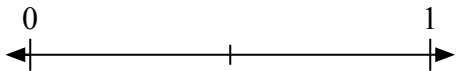
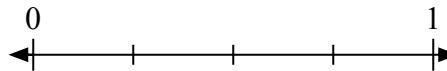
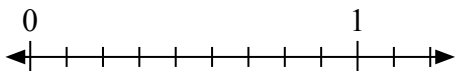
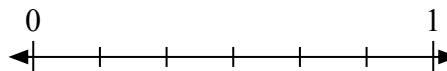

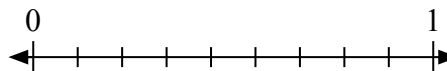
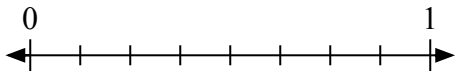
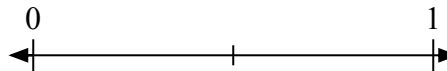
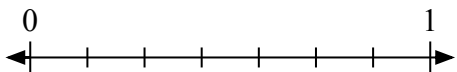
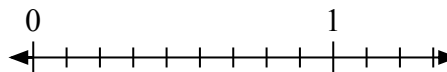
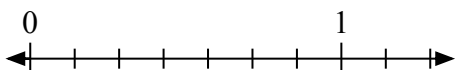
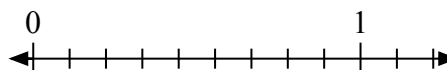
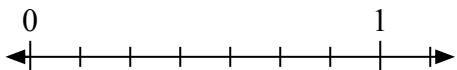
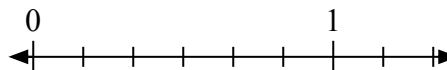



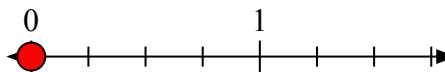
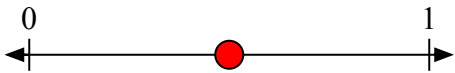
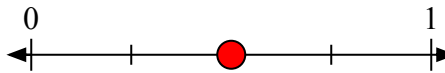
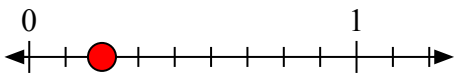
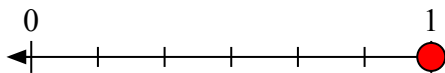
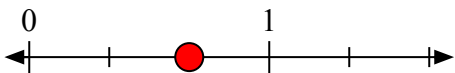
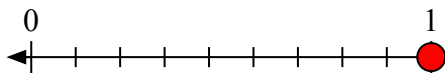
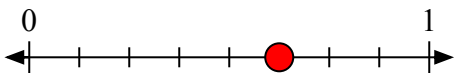
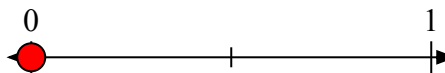
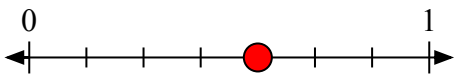
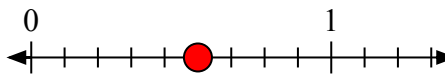
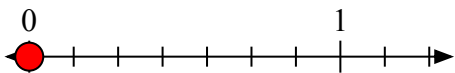
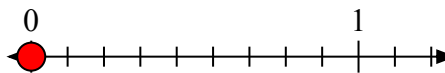
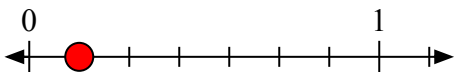


Решите каждую задачу.

1) Запишите $\frac{0}{3}$ целым числом.2) Запишите $\frac{0}{4}$ целым числом.3) Запишите $\frac{1}{2}$ целым числом.4) Запишите $\frac{2}{4}$ целым числом.5) Запишите $\frac{2}{9}$ целым числом.6) Запишите $\frac{6}{6}$ целым числом.7) Запишите $\frac{2}{3}$ целым числом.8) Запишите $\frac{9}{9}$ целым числом.9) Запишите $\frac{5}{8}$ целым числом.10) Запишите $\frac{0}{2}$ целым числом.11) Запишите $\frac{4}{7}$ целым числом.12) Запишите $\frac{5}{9}$ целым числом.13) Запишите $\frac{0}{7}$ целым числом.14) Запишите $\frac{0}{9}$ целым числом.15) Запишите $\frac{1}{7}$ целым числом.16) Запишите $\frac{1}{6}$ целым числом.



Решите каждую задачу.

1) Запишите $\frac{0}{3}$ целым числом.2) Запишите $\frac{0}{4}$ целым числом.3) Запишите $\frac{1}{2}$ целым числом.4) Запишите $\frac{2}{4}$ целым числом.5) Запишите $\frac{2}{9}$ целым числом.6) Запишите $\frac{6}{6}$ целым числом.7) Запишите $\frac{2}{3}$ целым числом.8) Запишите $\frac{9}{9}$ целым числом.9) Запишите $\frac{5}{8}$ целым числом.10) Запишите $\frac{0}{2}$ целым числом.11) Запишите $\frac{4}{7}$ целым числом.12) Запишите $\frac{5}{9}$ целым числом.13) Запишите $\frac{0}{7}$ целым числом.14) Запишите $\frac{0}{9}$ целым числом.15) Запишите $\frac{1}{7}$ целым числом.16) Запишите $\frac{1}{6}$ целым числом.