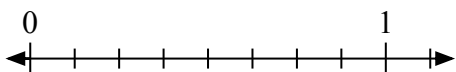


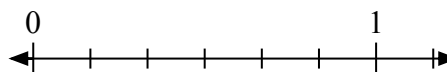


Решите каждую задачу.

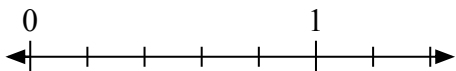
- 1) Запишите
- $\frac{4}{8}$
- целым числом.



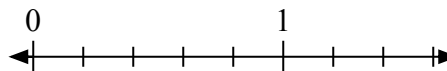
- 2) Запишите
- $\frac{0}{6}$
- целым числом.




- 3) Запишите
- $\frac{3}{5}$
- целым числом.



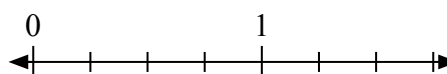
- 4) Запишите
- $\frac{0}{5}$
- целым числом.



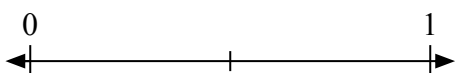
- 5) Запишите
- $\frac{0}{3}$
- целым числом.



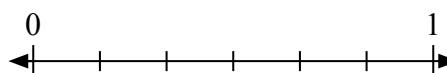
- 6) Запишите
- $\frac{4}{4}$
- целым числом.



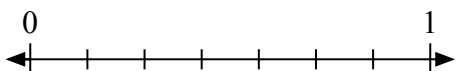
- 7) Запишите
- $\frac{0}{2}$
- целым числом.



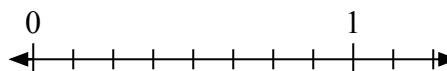
- 8) Запишите
- $\frac{2}{6}$
- целым числом.



- 9) Запишите
- $\frac{5}{7}$
- целым числом.



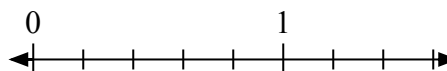
- 10) Запишите
- $\frac{7}{8}$
- целым числом.



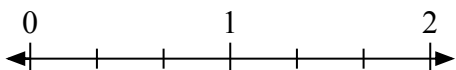
- 11) Запишите
- $\frac{2}{2}$
- целым числом.



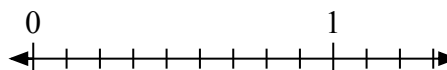
- 12) Запишите
- $\frac{5}{5}$
- целым числом.



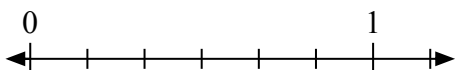
- 13) Запишите
- $\frac{2}{3}$
- целым числом.



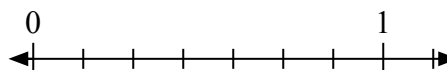
- 14) Запишите
- $\frac{5}{9}$
- целым числом.



- 15) Запишите
- $\frac{5}{6}$
- целым числом.



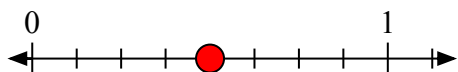
- 16) Запишите
- $\frac{2}{7}$
- целым числом.



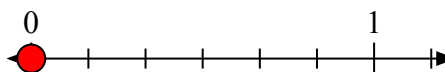


Решите каждую задачу.

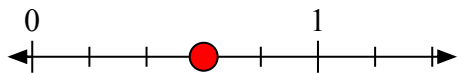
- 1) Запишите
- $\frac{4}{8}$
- целым числом.



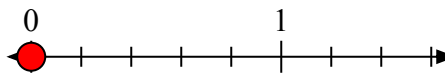
- 2) Запишите
- $\frac{0}{6}$
- целым числом.




- 3) Запишите
- $\frac{3}{5}$
- целым числом.



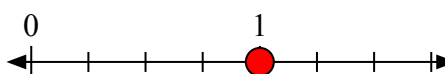
- 4) Запишите
- $\frac{0}{5}$
- целым числом.



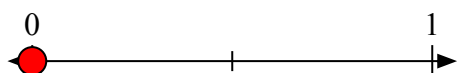
- 5) Запишите
- $\frac{0}{3}$
- целым числом.



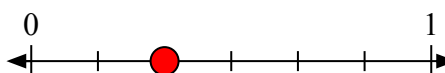
- 6) Запишите
- $\frac{4}{4}$
- целым числом.



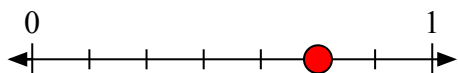
- 7) Запишите
- $\frac{0}{2}$
- целым числом.



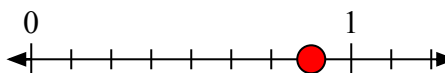
- 8) Запишите
- $\frac{2}{6}$
- целым числом.




- 9) Запишите
- $\frac{5}{7}$
- целым числом.



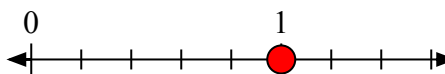
- 10) Запишите
- $\frac{7}{8}$
- целым числом.



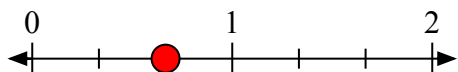
- 11) Запишите
- $\frac{2}{2}$
- целым числом.



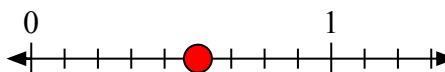
- 12) Запишите
- $\frac{5}{5}$
- целым числом.



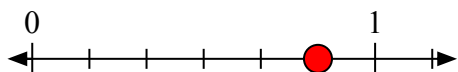
- 13) Запишите
- $\frac{2}{3}$
- целым числом.



- 14) Запишите
- $\frac{5}{9}$
- целым числом.



- 15) Запишите
- $\frac{5}{6}$
- целым числом.



- 16) Запишите
- $\frac{2}{7}$
- целым числом.

