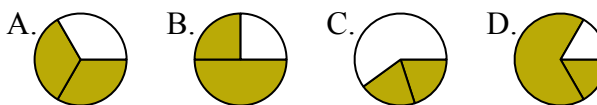




Определите под какой буквой находятся соответствующие дроби.

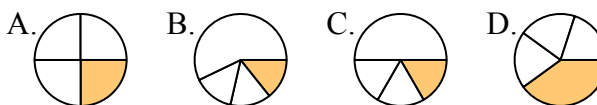
ОТВЕТЫ

1) Под каким вариантом правильно определен $\frac{2}{3}$?



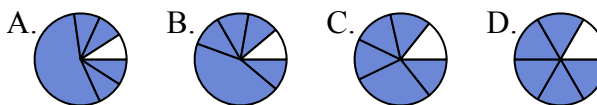
1. _____

2) Под каким вариантом правильно определен $\frac{1}{4}$?



2. _____

3) Под каким вариантом правильно определен $\frac{5}{6}$?



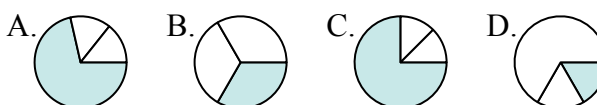
4. _____

4) Под каким вариантом правильно определен $\frac{3}{8}$?



6. _____

5) Под каким вариантом правильно определен $\frac{1}{3}$?



8. _____

6) Под каким вариантом правильно определен $\frac{2}{4}$?



9. _____

7) Под каким вариантом правильно определен $\frac{3}{6}$?



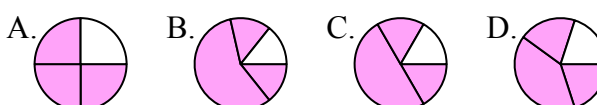
10. _____

8) Под каким вариантом правильно определен $\frac{7}{8}$?



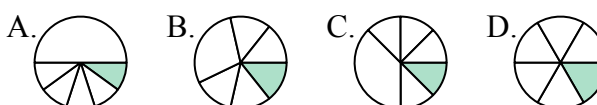
11. _____

9) Под каким вариантом правильно определен $\frac{3}{4}$?

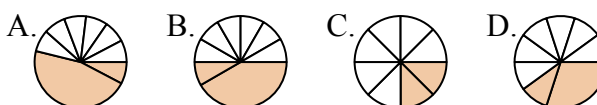


12. _____

10) Под каким вариантом правильно определен $\frac{1}{6}$?



11) Под каким вариантом правильно определен $\frac{2}{8}$?



12) Под каким вариантом правильно определен $\frac{2}{6}$?

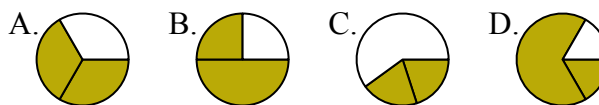




Определите под какой буквой находятся соответствующие дроби.

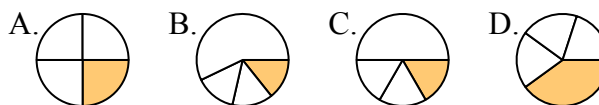
ОТВЕТЫ

1) Под каким вариантом правильно определен $\frac{2}{3}$?



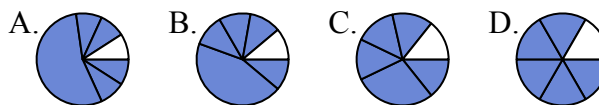
1. **A**

2) Под каким вариантом правильно определен $\frac{1}{4}$?



2. **A**

3) Под каким вариантом правильно определен $\frac{5}{6}$?



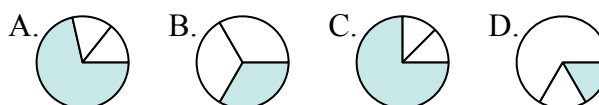
3. **D**

4) Под каким вариантом правильно определен $\frac{3}{8}$?



4. **D**

5) Под каким вариантом правильно определен $\frac{1}{3}$?



5. **B**

6) Под каким вариантом правильно определен $\frac{2}{4}$?



6. **D**

7) Под каким вариантом правильно определен $\frac{3}{6}$?



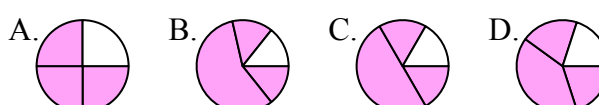
7. **B**

8) Под каким вариантом правильно определен $\frac{7}{8}$?



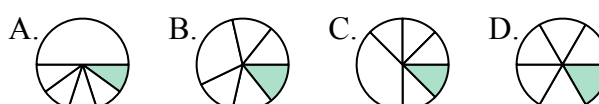
8. **D**

9) Под каким вариантом правильно определен $\frac{3}{4}$?



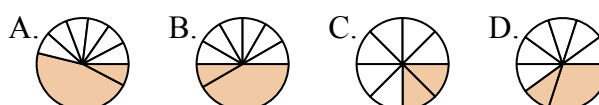
9. **A**

10) Под каким вариантом правильно определен $\frac{1}{6}$?



10. **D**

11) Под каким вариантом правильно определен $\frac{2}{8}$?



11. **C**

12) Под каким вариантом правильно определен $\frac{2}{6}$?



12. **A**