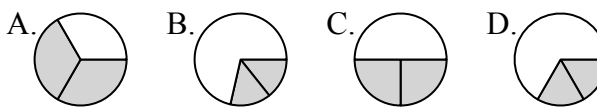




Определите под какой буквой находятся соответствующие дроби.

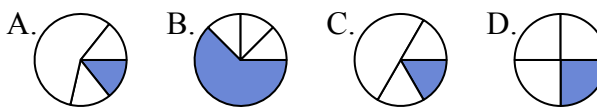
ОТВЕТЫ

1) Под каким вариантом правильно определен $\frac{2}{3}$?



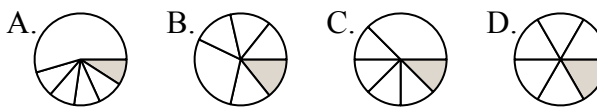
1. _____

2) Под каким вариантом правильно определен $\frac{1}{4}$?



2. _____

3) Под каким вариантом правильно определен $\frac{1}{6}$?



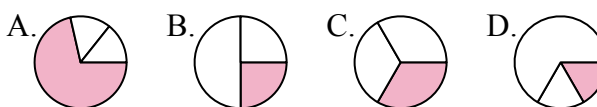
3. _____

4) Под каким вариантом правильно определен $\frac{5}{8}$?



4. _____

5) Под каким вариантом правильно определен $\frac{1}{3}$?



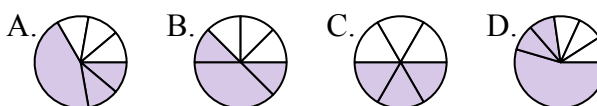
5. _____

6) Под каким вариантом правильно определен $\frac{2}{4}$?



6. _____

7) Под каким вариантом правильно определен $\frac{3}{6}$?



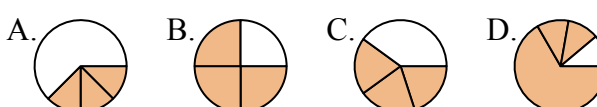
7. _____

8) Под каким вариантом правильно определен $\frac{7}{8}$?



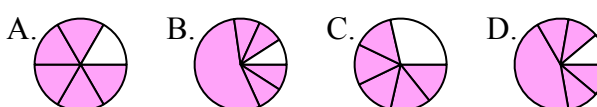
8. _____

9) Под каким вариантом правильно определен $\frac{3}{4}$?



9. _____

10) Под каким вариантом правильно определен $\frac{5}{6}$?



10. _____

11) Под каким вариантом правильно определен $\frac{6}{8}$?



11. _____

12) Под каким вариантом правильно определен $\frac{4}{6}$?



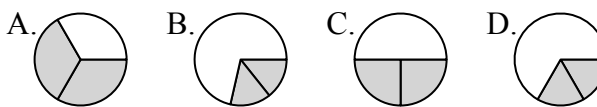
12. _____



Определите под какой буквой находятся соответствующие дроби.

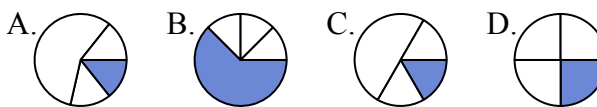
ОТВЕТЫ

1) Под каким вариантом правильно определен $\frac{2}{3}$?



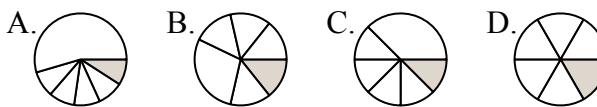
1. **A**

2) Под каким вариантом правильно определен $\frac{1}{4}$?



2. **D**

3) Под каким вариантом правильно определен $\frac{1}{6}$?



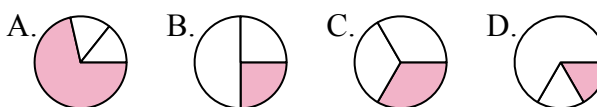
3. **D**

4) Под каким вариантом правильно определен $\frac{5}{8}$?



4. **D**

5) Под каким вариантом правильно определен $\frac{1}{3}$?



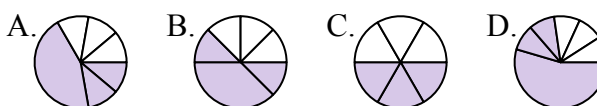
5. **C**

6) Под каким вариантом правильно определен $\frac{2}{4}$?



6. **A**

7) Под каким вариантом правильно определен $\frac{3}{6}$?



7. **C**

8) Под каким вариантом правильно определен $\frac{7}{8}$?



8. **D**

9) Под каким вариантом правильно определен $\frac{3}{4}$?



9. **B**

10) Под каким вариантом правильно определен $\frac{5}{6}$?



10. **A**

11) Под каким вариантом правильно определен $\frac{6}{8}$?



11. **B**

12) Под каким вариантом правильно определен $\frac{4}{6}$?



12. **B**