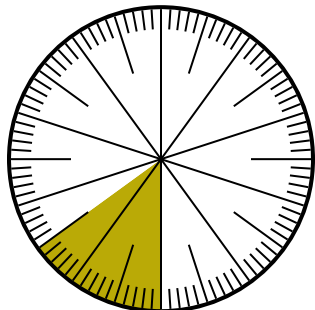




Решите каждую задачу.

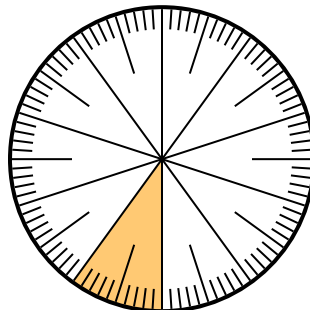
**Ответы**

- 1) Какой вариант соответствует незатененной части числового колеса?



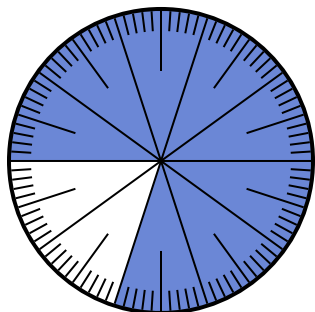
- A.  $\frac{85}{100}$       B.  $\frac{8.5}{100}$   
C.  $\frac{0.85}{100}$       D.  $\frac{85}{15}$

- 2) Какой вариант соответствует незатененной части числового колеса?



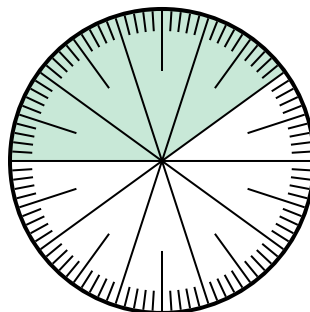
- A. 0,9      B. 90  
C.  $\frac{1}{100}$       D. 9

- 3) Какой вариант соответствует незатененной части числового колеса?



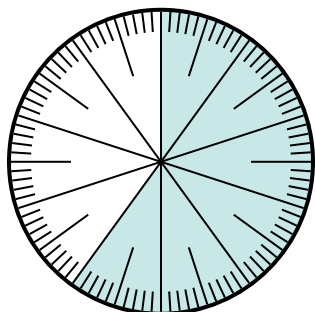
- A. 20      B.  $\frac{20}{80}$   
C. 0,2      D.  $\frac{20}{10}$

- 4) Какой вариант соответствует незатененной части числового колеса?



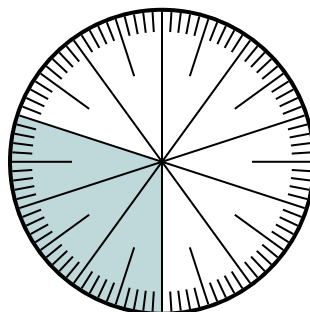
- A. 0,0060      B. 0,6  
C. 60      D.  $\frac{40}{60}$

- 5) Какой вариант соответствует незатененной части числового колеса?



- A.  $\frac{60}{40}$       B.  $\frac{40}{100}$   
C.  $\frac{0.4}{100}$       D. 40

- 6) Какой вариант соответствует незатененной части числового колеса?



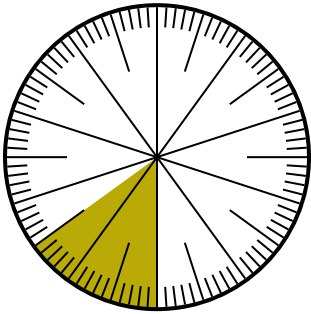
- A.  $\frac{70}{100}$       B.  $\frac{70}{30}$   
C. 7      D.  $\frac{30}{70}$

1. \_\_\_\_\_  
2. \_\_\_\_\_  
3. \_\_\_\_\_  
4. \_\_\_\_\_  
5. \_\_\_\_\_  
6. \_\_\_\_\_



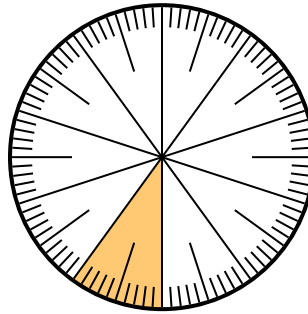
Решите каждую задачу.

- 1) Какой вариант соответствует незатененной части числового колеса?



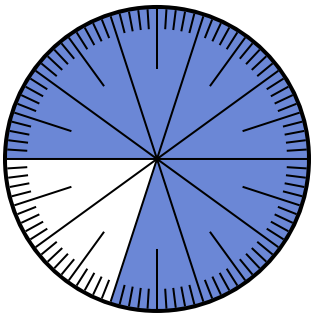
- A.  $\frac{85}{100}$       B.  $\frac{8.5}{100}$   
C.  $\frac{0.85}{100}$       D.  $\frac{85}{15}$

- 2) Какой вариант соответствует незатененной части числового колеса?



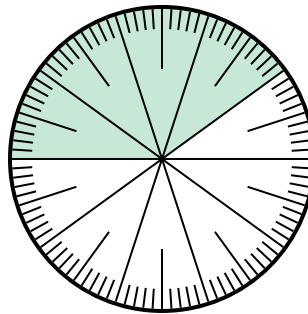
- A. 0,9      B. 90  
C.  $\frac{1}{100}$       D. 9

- 3) Какой вариант соответствует незатененной части числового колеса?




- A. 20      B.  $\frac{20}{80}$   
C. 0,2      D.  $\frac{20}{10}$

- 4) Какой вариант соответствует незатененной части числового колеса?



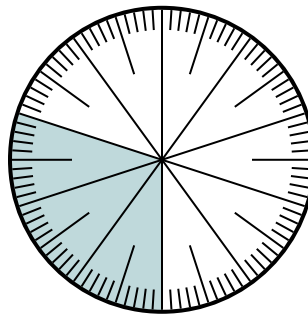
- A. 0,0060      B. 0,6  
C. 60      D.  $\frac{40}{60}$

- 5) Какой вариант соответствует незатененной части числового колеса?



- A.  $\frac{60}{40}$       B.  $\frac{40}{100}$   
C.  $\frac{0.4}{100}$       D. 40

- 6) Какой вариант соответствует незатененной части числового колеса?



- A.  $\frac{70}{100}$       B.  $\frac{70}{30}$   
C. 7      D.  $\frac{30}{70}$

**ОТВЕТЫ**

1.   **A**    
2.   **A**    
3.   **C**    
4.   **B**    
5.   **B**    
6.   **A**