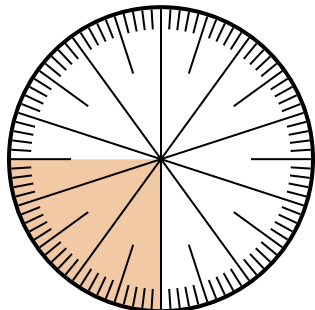




Решите каждую задачу.

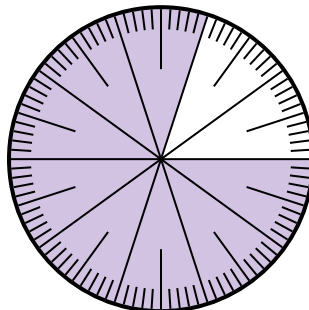
ОТВЕТЫ

1) Какой вариант соответствует затененной части числового колеса?



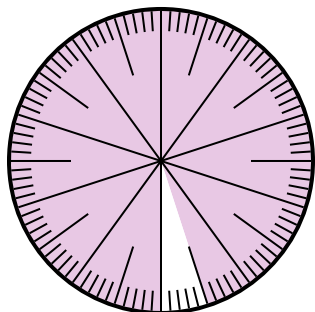
- A. $\frac{25}{75}$ B. $\frac{0.25}{100}$
 C. $\frac{25}{100}$ D. 2,50

2) Какой вариант соответствует затененной части числового колеса?



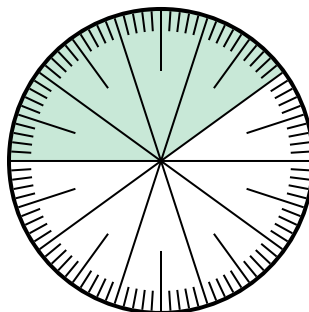
- A. $\frac{8}{100}$ B. 0,080
 C. $\frac{0.8}{100}$ D. $\frac{80}{100}$

3) Какой вариант соответствует незатененной части числового колеса?



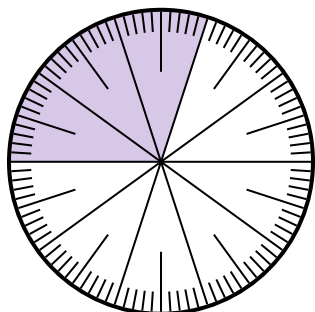
- A. $\frac{5}{100}$ B. 0.5
 C. $\frac{95}{5}$ D. $\frac{5}{95}$

4) Какой вариант соответствует незатененной части числового колеса?



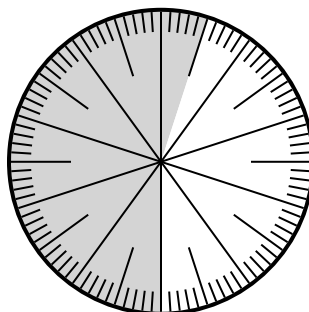
- A. $\frac{0.6}{100}$ B. 0,60
 C. $\frac{40}{60}$ D. 6,00

5) Какой вариант соответствует затененной части числового колеса?



- A. 3 B. 0,30
 C. 30 D. $\frac{30}{70}$

6) Какой вариант соответствует затененной части числового колеса?



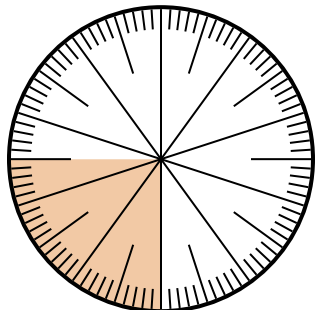
- A. $\frac{55}{100}$ B. 45
 C. 5.5 D. 45,0

1. _____
 2. _____
 3. _____
 4. _____
 5. _____
 6. _____



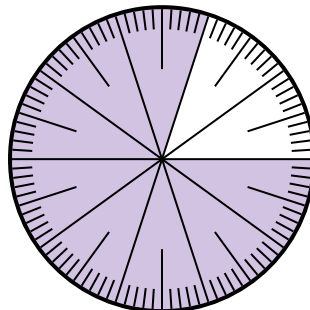
Решите каждую задачу.

- 1) Какой вариант соответствует затененной части числового колеса?



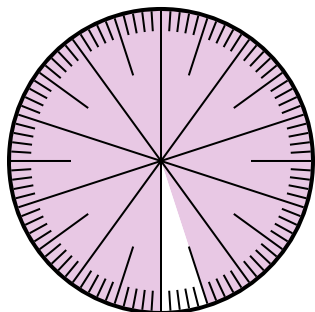
- A. $\frac{25}{75}$ B. $\frac{0.25}{100}$
C. $\frac{25}{100}$ D. 2,50

- 2) Какой вариант соответствует затененной части числового колеса?



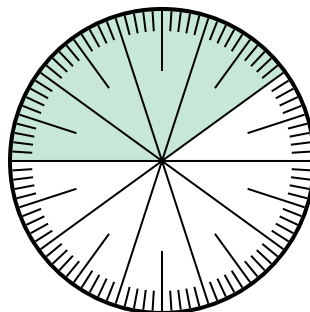
- A. $\frac{8}{100}$ B. 0,080
C. $\frac{0.8}{100}$ D. $\frac{80}{100}$

- 3) Какой вариант соответствует незатененной части числового колеса?



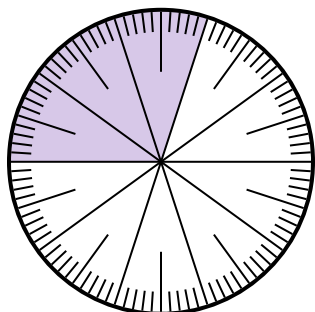
- A. $\frac{5}{100}$ B. 0.5
C. $\frac{95}{5}$ D. $\frac{5}{95}$

- 4) Какой вариант соответствует незатененной части числового колеса?



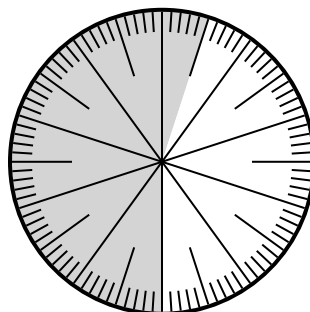
- A. $\frac{0.6}{100}$ B. 0,60
C. $\frac{40}{60}$ D. 6,00

- 5) Какой вариант соответствует затененной части числового колеса?



- A. 3 B. 0,30
C. 30 D. $\frac{30}{70}$

- 6) Какой вариант соответствует затененной части числового колеса?



- A. $\frac{55}{100}$ B. 45
C. 5.5 D. 45,0

ОТВЕТЫ

1. **C**

2. **D**

3. **A**

4. **B**

5. **B**

6. **A**