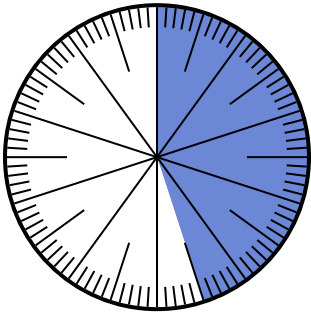




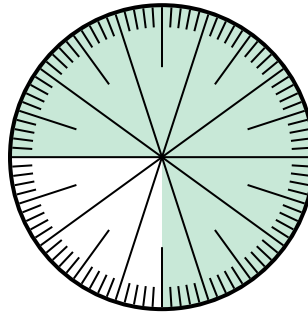
Решите каждую задачу.

1) Какой вариант соответствует затененной части числового колеса?



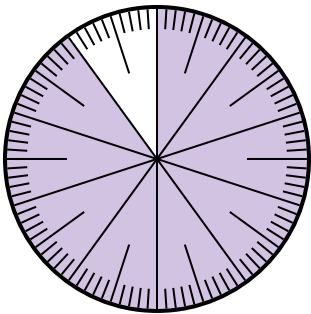
- A. $\frac{45}{100}$ B. $\frac{55}{45}$
 C. $\frac{45}{55}$ D. $\frac{4.5}{100}$

2) Какой вариант соответствует затененной части числового колеса?



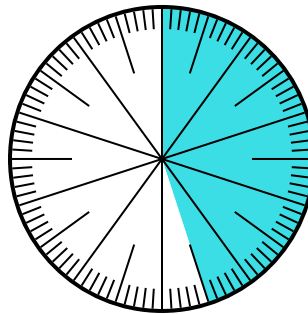
- A. $\frac{0.75}{100}$ B. 0,75
 C. $\frac{7,50}{100}$ D. $\frac{7.5}{100}$

3) Какой вариант соответствует затененной части числового колеса?



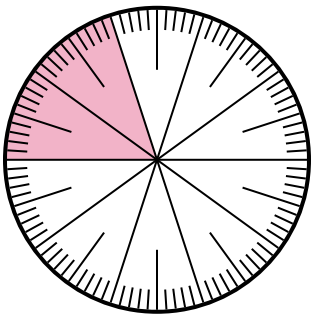
- A. 90 B. 0,090
 C. $\frac{90}{100}$ D. $\frac{9}{100}$

4) Какой вариант соответствует незатененной части числового колеса?



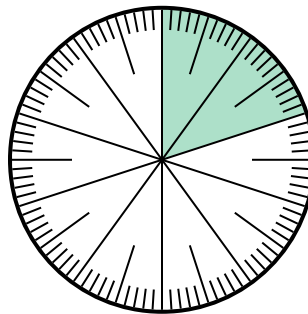
- A. 5.5 B. 55
 C. $\frac{5.5}{100}$ D. $\frac{55}{100}$

5) Какой вариант соответствует незатененной части числового колеса?



- A. $\frac{20}{80}$ B. 0,80
 C. $\frac{8}{100}$ D. 8

6) Какой вариант соответствует незатененной части числового колеса?



- A. 80 B. 8
 C. $\frac{0.8}{100}$ D. $\frac{80}{100}$

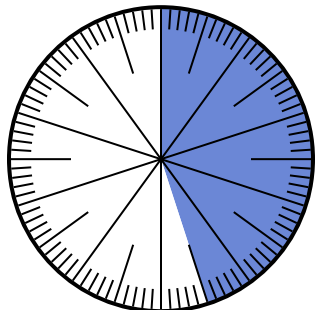
ОТВЕТЫ

1. _____
 2. _____
 3. _____
 4. _____
 5. _____
 6. _____



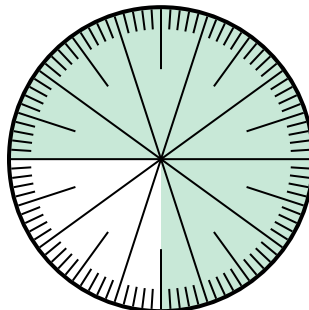
Решите каждую задачу.

1) Какой вариант соответствует затененной части числового колеса?



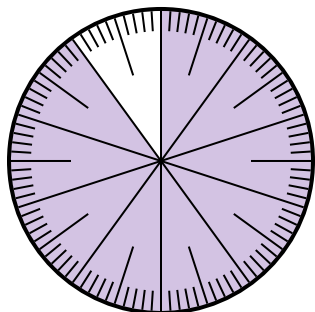
- A. $\frac{45}{100}$ B. $\frac{55}{45}$
 C. $\frac{45}{55}$ D. $\frac{4.5}{100}$

2) Какой вариант соответствует затененной части числового колеса?



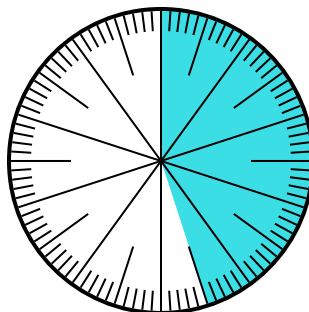
- A. $\frac{0.75}{100}$ B. 0,75
 C. $\frac{7,50}{100}$ D. $\frac{7.5}{100}$

3) Какой вариант соответствует затененной части числового колеса?



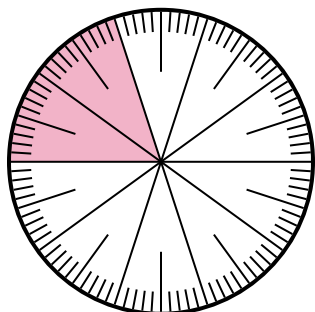
- A. 90 B. 0,090
 C. $\frac{90}{100}$ D. $\frac{9}{100}$

4) Какой вариант соответствует незатененной части числового колеса?



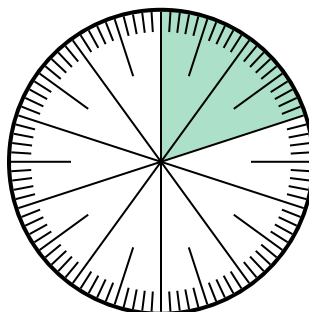
- A. 5.5 B. 55
 C. $\frac{5.5}{100}$ D. $\frac{55}{100}$

5) Какой вариант соответствует незатененной части числового колеса?



- A. $\frac{20}{80}$ B. 0,80
 C. $\frac{8}{100}$ D. 8

6) Какой вариант соответствует незатененной части числового колеса?



- A. 80 B. 8
 C. $\frac{0.8}{100}$ D. $\frac{80}{100}$

ОТВЕТЫ

1. **A**

2. **B**

3. **C**

4. **D**

5. **B**

6. **D**