


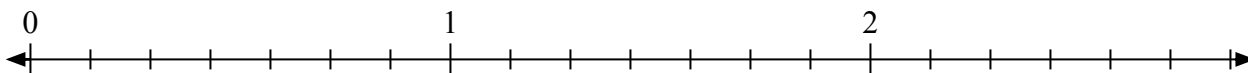


Решите каждую задачу.

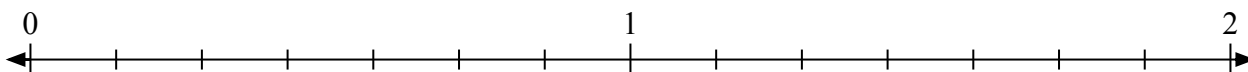
1) Отметьте расположение $\frac{5}{3}$



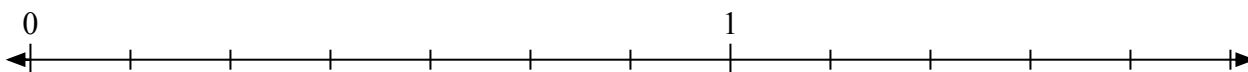
2) Отметьте расположение $\frac{16}{7}$




3) Отметьте расположение $\frac{13}{7}$



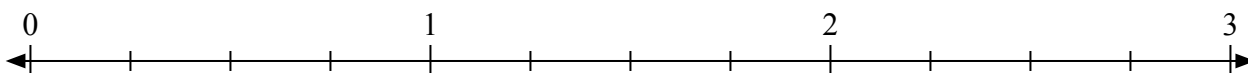
4) Отметьте расположение $\frac{8}{7}$



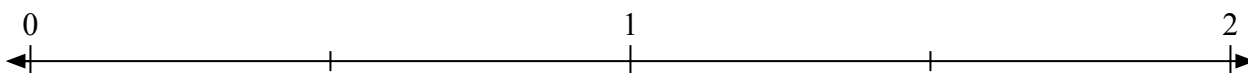
5) Отметьте расположение $\frac{10}{8}$



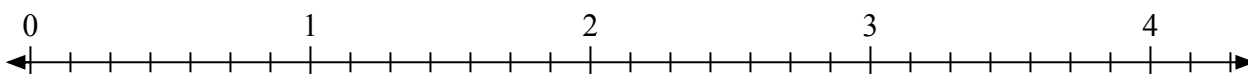
6) Отметьте расположение $\frac{10}{4}$



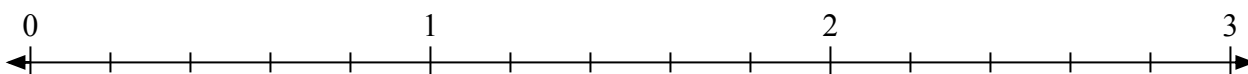
7) Отметьте расположение $\frac{3}{2}$



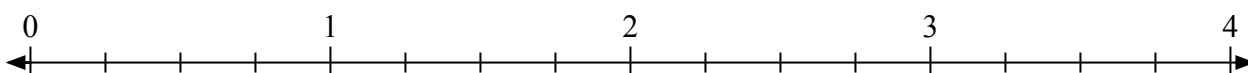
8) Отметьте расположение $\frac{14}{7}$



9) Отметьте расположение $\frac{6}{5}$




10) Отметьте расположение $\frac{11}{4}$



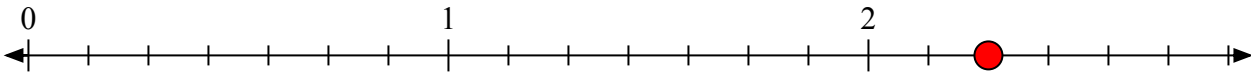


Решите каждую задачу.

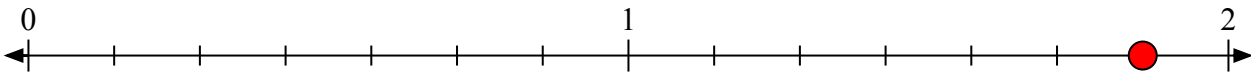
- 1) Отметьте расположение
- $\frac{5}{3}$



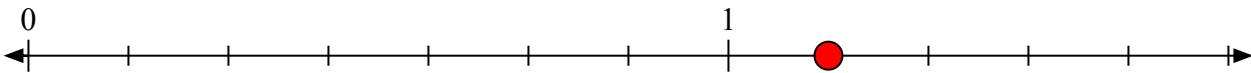
- 2) Отметьте расположение
- $\frac{16}{7}$




- 3) Отметьте расположение
- $\frac{13}{7}$



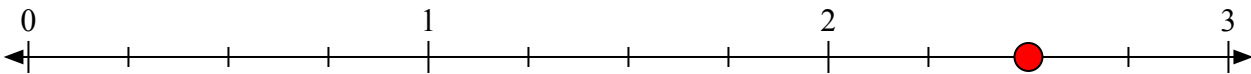
- 4) Отметьте расположение
- $\frac{8}{7}$



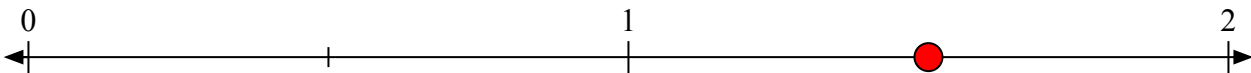
- 5) Отметьте расположение
- $\frac{10}{8}$



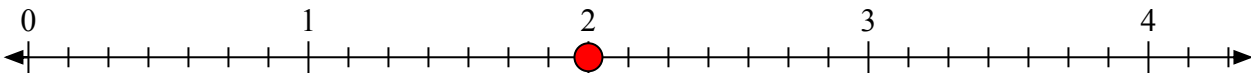
- 6) Отметьте расположение
- $\frac{10}{4}$



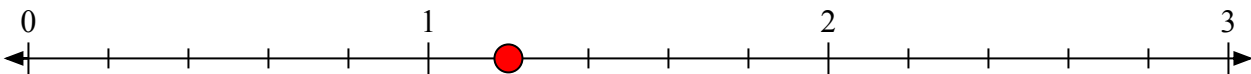
- 7) Отметьте расположение
- $\frac{3}{2}$



- 8) Отметьте расположение
- $\frac{14}{7}$



- 9) Отметьте расположение
- $\frac{6}{5}$



- 10) Отметьте расположение
- $\frac{11}{4}$

