





Решите каждую задачу.

- 1) Отметьте расположение
- $\frac{12}{5}$



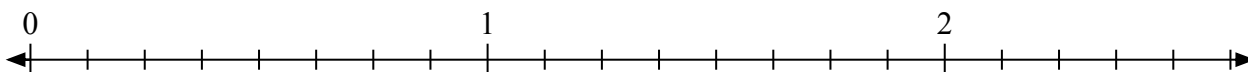
- 2) Отметьте расположение
- $\frac{5}{4}$



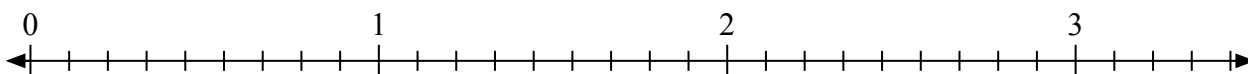
- 3) Отметьте расположение
- $\frac{5}{2}$



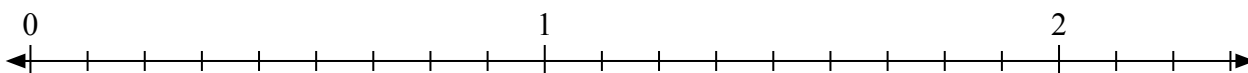
- 4) Отметьте расположение
- $\frac{10}{8}$



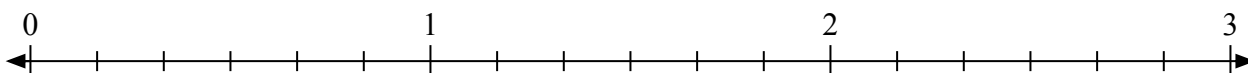
- 5) Отметьте расположение
- $\frac{18}{9}$



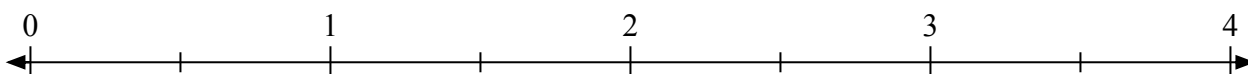
- 6) Отметьте расположение
- $\frac{19}{9}$



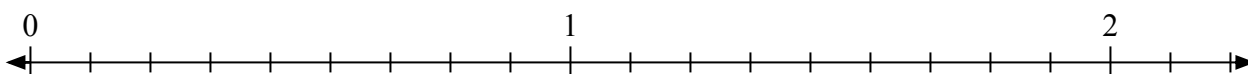
- 7) Отметьте расположение
- $\frac{17}{6}$




- 8) Отметьте расположение
- $\frac{4}{2}$



- 9) Отметьте расположение
- $\frac{15}{9}$




- 10) Отметьте расположение
- $\frac{9}{5}$



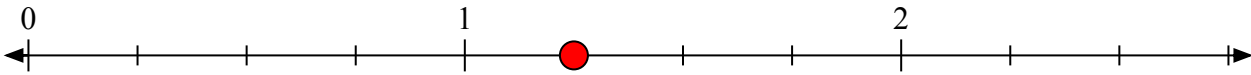


Решите каждую задачу.


- 1) Отметьте расположение
- $\frac{12}{5}$



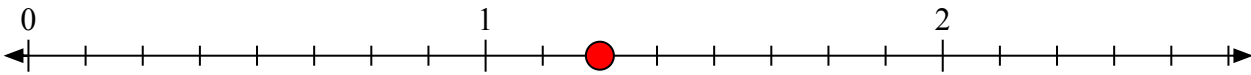
- 2) Отметьте расположение
- $\frac{5}{4}$



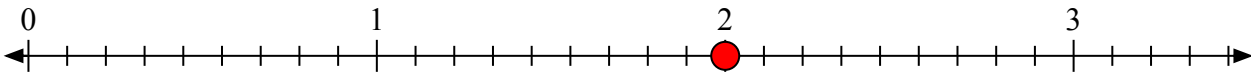
- 3) Отметьте расположение
- $\frac{5}{2}$



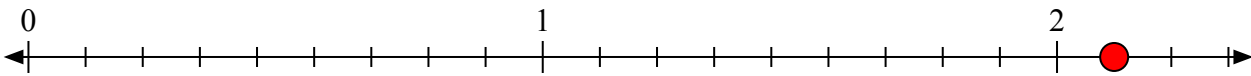
- 4) Отметьте расположение
- $\frac{10}{8}$



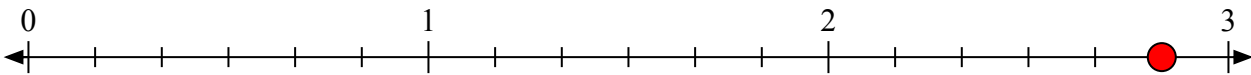
- 5) Отметьте расположение
- $\frac{18}{9}$



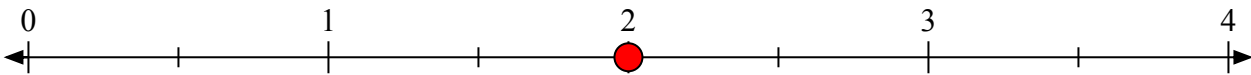
- 6) Отметьте расположение
- $\frac{19}{9}$



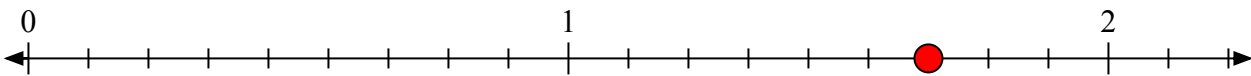
- 7) Отметьте расположение
- $\frac{17}{6}$



- 8) Отметьте расположение
- $\frac{4}{2}$



- 9) Отметьте расположение
- $\frac{15}{9}$



- 10) Отметьте расположение
- $\frac{9}{5}$

