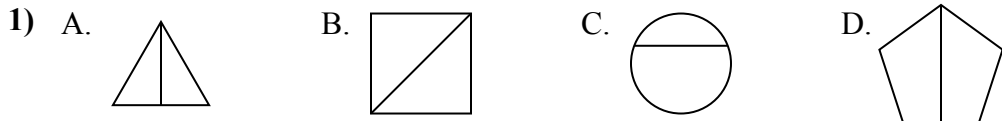




Определите под каким вариантом находятся фигуры, разбитые на равные части.

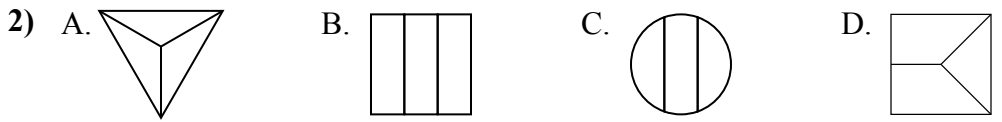
Если такой нет, напишите 'нет'.

ОТВЕТЫ



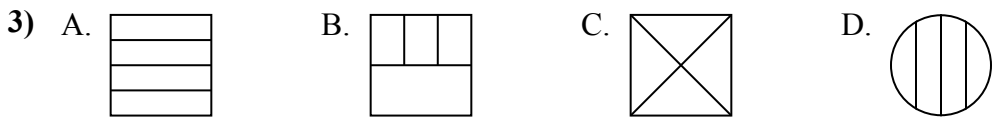
1. \_\_\_\_\_

2. \_\_\_\_\_



3. \_\_\_\_\_

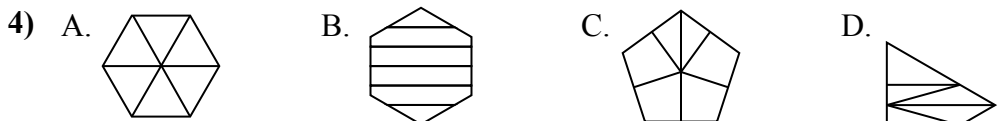
4. \_\_\_\_\_



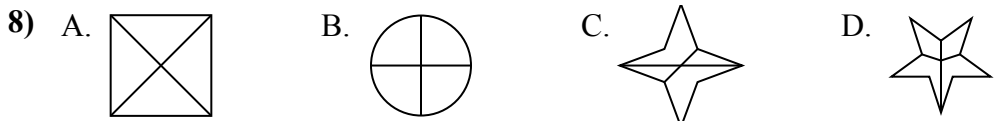
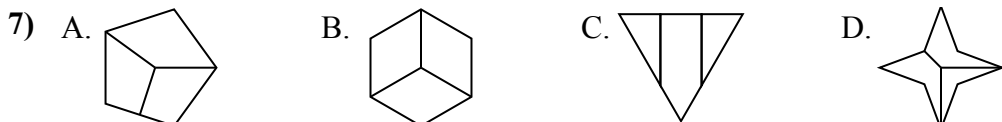
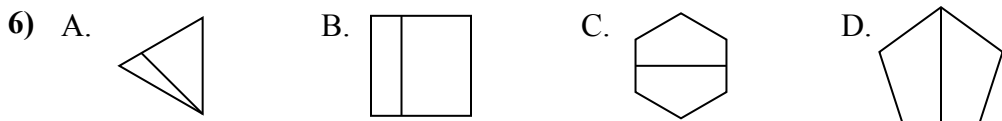
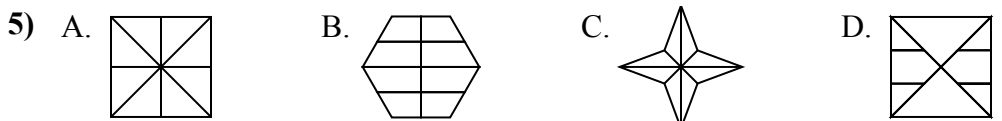
5. \_\_\_\_\_

6. \_\_\_\_\_

7. \_\_\_\_\_



8. \_\_\_\_\_

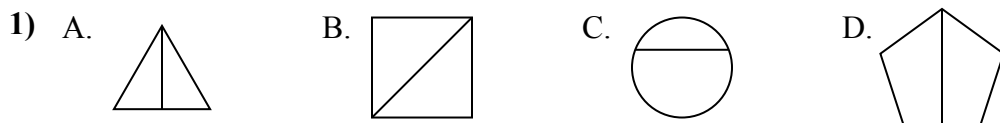




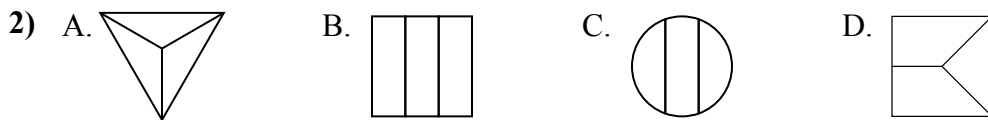
Определите под каким вариантом находятся фигуры, разбитые на равные части.

Если такой нет, напишите 'нет'.

**ОТВЕТЫ**

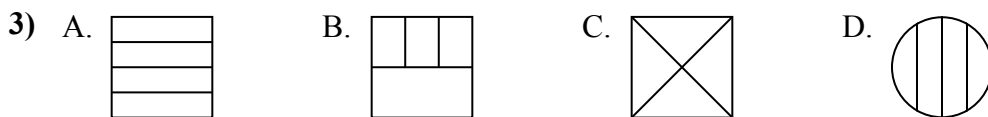


1. A,B,D



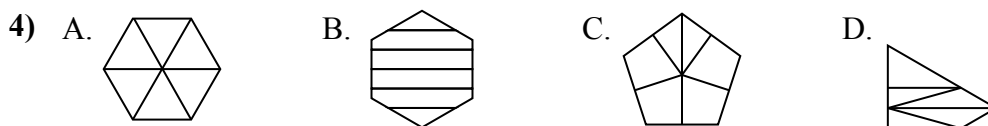
2. A,B

3. A,C



4. A

5. A,C



6. C,D

7. B

8. A,B

