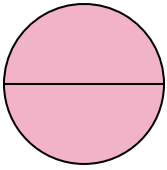




Определите под какой буквой находятся соответствующие дроби.


ОТВЕТЫ

1)



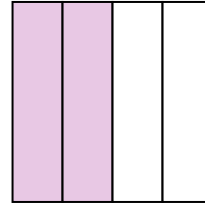
- A. две половинки
- B. одна четверть
- C. две четверти

2)



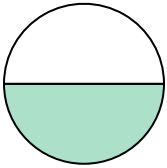
- A. одна половина
- B. три четверти
- C. две половинки

3)



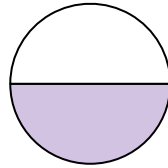
- A. две четверти
- B. одна четвертая
- C. три четверти

4)



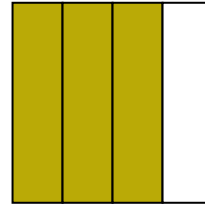
- A. две четверти
- B. три четверти
- C. одна половина

5)



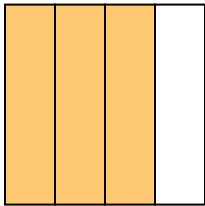
- A. три четверти
- B. одна половина
- C. две четверти

6)



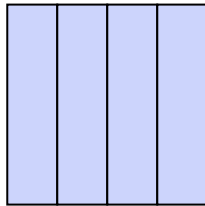
- A. одна четвертая
- B. две четверти
- C. три четверти

7)



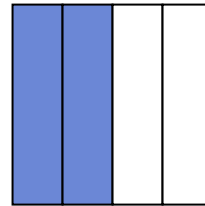
- A. две четверти
- B. четыре четверти
- C. три четверти

8)



- A. две четверти
- B. одна половина
- C. четыре четверти

9)



- A. две половинки
- B. две четверти
- C. одна четвертая

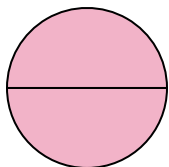
- 1. _____
- 2. _____
- 3. _____
- 4. _____
- 5. _____
- 6. _____
- 7. _____
- 8. _____
- 9. _____



Определите под какой буквой находятся соответствующие дроби.


ОТВЕТЫ

1)



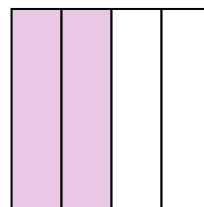
- A. две половинки
- B. одна четверть
- C. две четверти

2)



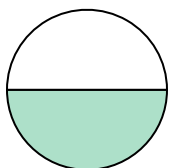
- A. одна половина
- B. три четверти
- C. две половинки

3)



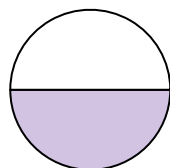
- A. две четверти
- B. одна четвертая
- C. три четверти

4)



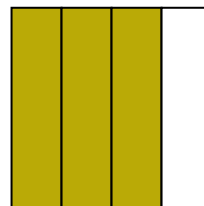
- A. две четверти
- B. три четверти
- C. одна половина

5)



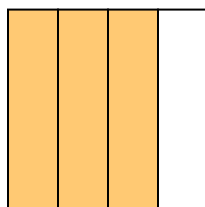
- A. три четверти
- B. одна половина
- C. две четверти

6)



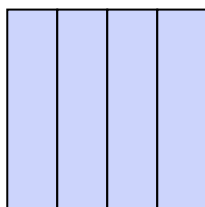
- A. одна четвертая
- B. две четверти
- C. три четверти

7)



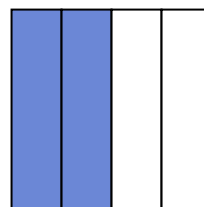
- A. две четверти
- B. четыре четверти
- C. три четверти

8)



- A. две четверти
- B. одна половина
- C. четыре четверти

9)



- A. две половинки
- B. две четверти
- C. одна четвертая

1. **A** 2. **C** 3. **A** 4. **C** 5. **B** 6. **C** 7. **C** 8. **C** 9. **B**