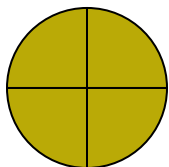




Определите под какой буквой находятся соответствующие дроби.


**ОТВЕТЫ**

1)




- A. две половинки
- B. три четверти
- C. одна половина

2)



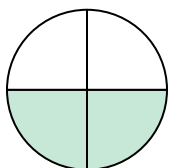
- A. одна четверть
- B. две четверти
- C. две половинки

3)



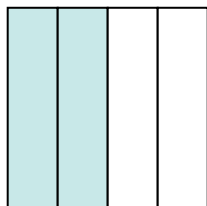
- A. две половинки
- B. две четверти
- C. три четверти

4)




- A. две четверти
- B. одна четвертая
- C. одна половина

5)




- A. четыре четверти
- B. три четверти
- C. две четверти

6)



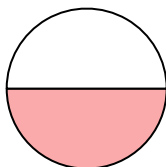
- A. одна половина
- B. две половинки
- C. три четверти

7)



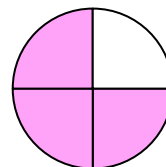
- A. одна половина
- B. одна четверть
- C. две половинки

8)



- A. одна половина
- B. одна четверть
- C. две четверти

9)



- A. три четверти
- B. одна четверть
- C. четыре четверти

1. \_\_\_\_\_

2. \_\_\_\_\_

3. \_\_\_\_\_

4. \_\_\_\_\_

5. \_\_\_\_\_

6. \_\_\_\_\_

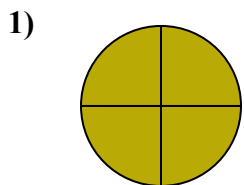
7. \_\_\_\_\_

8. \_\_\_\_\_

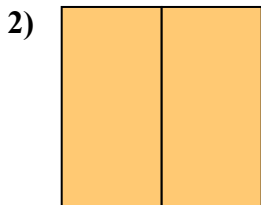
9. \_\_\_\_\_



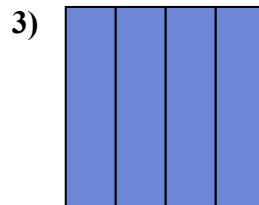
Определите под какой буквой находятся соответствующие дроби.



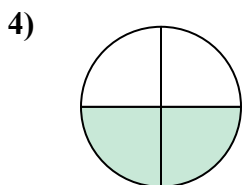
- A. две половинки
- B. три четверти
- C. одна половина



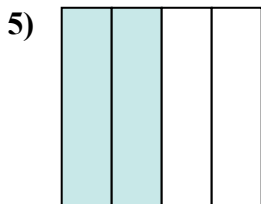
- A. одна четверть
- B. две четверти
- C. две половинки



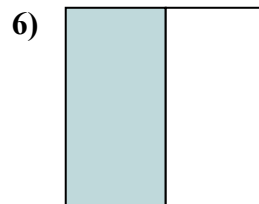
- A. две половинки
- B. две четверти
- C. три четверти



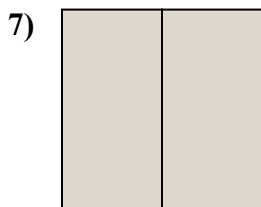
- A. две четверти
- B. одна четвертая
- C. одна половина



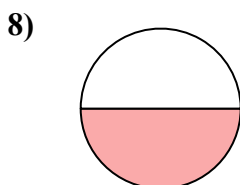
- A. четыре четверти
- B. три четверти
- C. две четверти



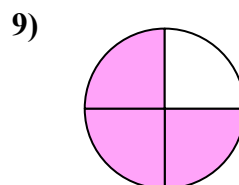
- A. одна половина
- B. две половинки
- C. три четверти



- A. одна половина
- B. одна четверть
- C. две половинки



- A. одна половина
- B. одна четверть
- C. две четверти



- A. три четверти
- B. одна четверть
- C. четыре четверти

**ОТВЕТЫ**

1. В

2. С

3. С

4. А

5. С

6. А

7. С

8. А

9. А