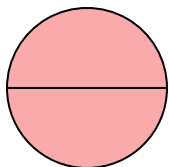




Определите под какой буквой находятся соответствующие дроби.


ОТВЕТЫ

1)



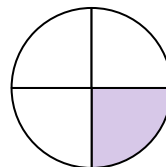
- A. одна половина
- B. две четверти
- C. две половинки

2)



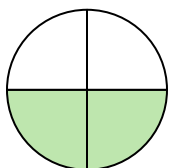
- A. две четверти
- B. три четверти
- C. одна половина

3)




- A. две четверти
- B. одна четверть
- C. одна половина

4)



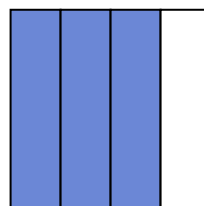
- A. три четверти
- B. две четверти
- C. одна половина

5)



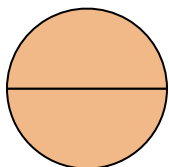
- A. одна половина
- B. три четверти
- C. одна четвертая

6)



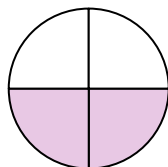
- A. одна половина
- B. три четверти
- C. четыре четверти

7)



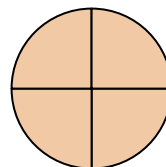
- A. две четверти
- B. две половинки
- C. одна половина

8)



- A. две четверти
- B. одна половина
- C. три четверти

9)



- A. три четверти
- B. две половинки
- C. три четверти

1. _____

2. _____

3. _____

4. _____

5. _____

6. _____

7. _____

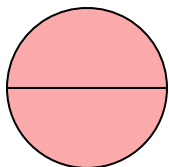
8. _____

9. _____




Определите под какой буквой находятся соответствующие дроби.

1)



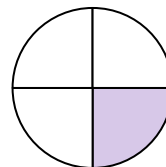
- A. одна половина
- B. две четверти
- C. две половинки

2)



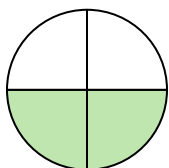
- A. две четверти
- B. три четверти
- C. одна половина

3)




- A. две четверти
- B. одна четверть
- C. одна половина

4)



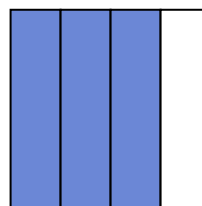
- A. три четверти
- B. две четверти
- C. одна половина

5)



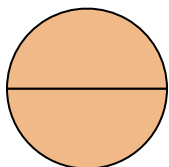
- A. одна половина
- B. три четверти
- C. одна четвертая

6)



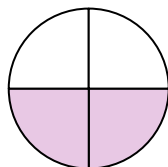
- A. одна половина
- B. три четверти
- C. четыре четверти

7)



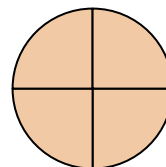
- A. две четверти
- B. две половинки
- C. одна половина

8)



- A. две четверти
- B. одна половина
- C. три четверти

9)



- A. три четверти
- B. две половинки
- C. три четверти

ОТВЕТЫ1. C 2. C 3. B 4. B 5. A 6. B 7. B 8. A 9. C