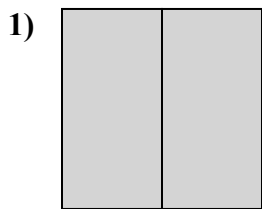


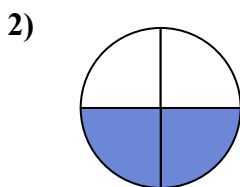


Определите под какой буквой находятся соответствующие дроби.

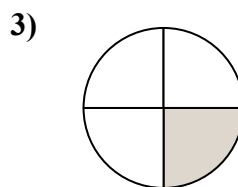
**ОТВЕТЫ**



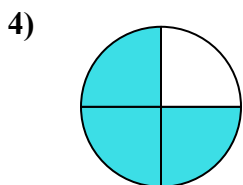
- A. две четверти
- B. две половинки
- C. три четверти



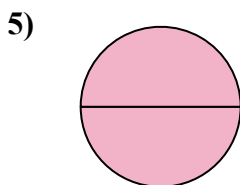
- A. три четверти
- B. три четверти
- C. две четверти



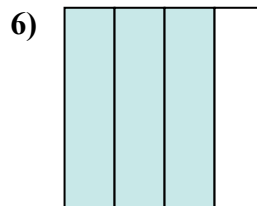
- A. две четверти
- B. одна четвертая
- C. две половинки



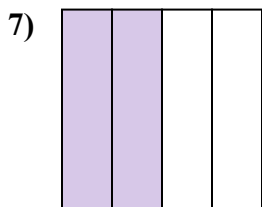
- A. две четверти
- B. три четверти
- C. две половинки



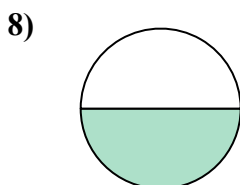
- A. одна четвертая
- B. три четверти
- C. две половинки



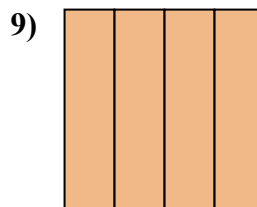
- A. одна четвертая
- B. три четверти
- C. две половинки



- A. одна четверть
- B. три четверти
- C. две четверти



- A. две половинки
- B. одна половина
- C. две четверти



- A. четыре четверти
- B. три четверти
- C. одна половина

1. \_\_\_\_\_

2. \_\_\_\_\_

3. \_\_\_\_\_

4. \_\_\_\_\_

5. \_\_\_\_\_

6. \_\_\_\_\_

7. \_\_\_\_\_

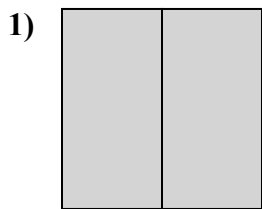
8. \_\_\_\_\_

9. \_\_\_\_\_

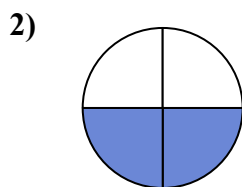


Определите под какой буквой находятся соответствующие дроби.

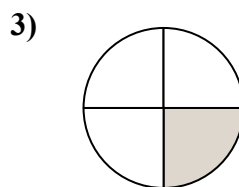
**ОТВЕТЫ**



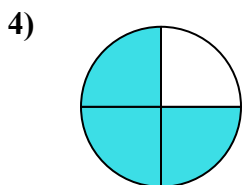
- A. две четверти
- B. две половинки
- C. три четверти



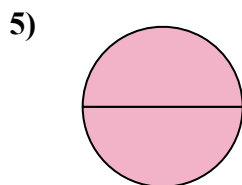
- A. три четверти
- B. три четверти
- C. две четверти



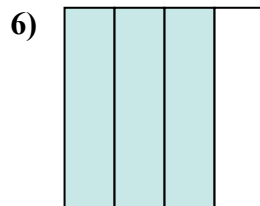
- A. две четверти
- B. одна четвертая
- C. две половинки



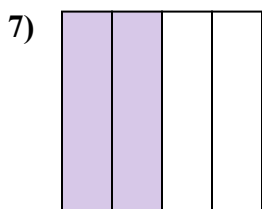
- A. две четверти
- B. три четверти
- C. две половинки



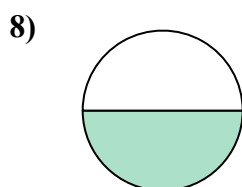
- A. одна четвертая
- B. три четверти
- C. две половинки



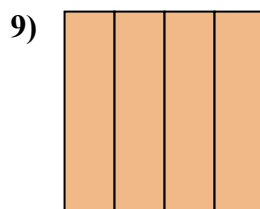
- A. одна четвертая
- B. три четверти
- C. две половинки



- A. одна четверть
- B. три четверти
- C. две четверти



- A. две половинки
- B. одна половина
- C. две четверти



- A. четыре четверти
- B. три четверти
- C. одна половина

1. В

2. С

3. В

4. В

5. С

6. В

7. С

8. В

9. А