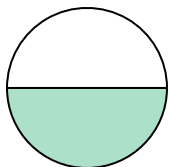




Определите под какой буквой находятся соответствующие дроби.


ОТВЕТЫ

1)



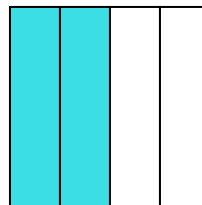
- A. одна половина
- B. две половинки
- C. четыре четверти

2)



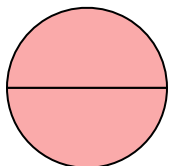
- A. две половинки
- B. одна половина
- C. одна четвертая

3)



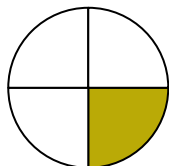
- A. три четверти
- B. одна четверть
- C. две четверти

4)



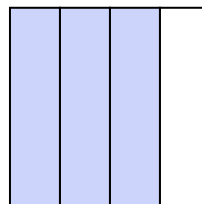
- A. две половинки
- B. три четверти
- C. одна четверть

5)



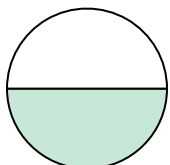
- A. три четверти
- B. одна четвертая
- C. две четверти

6)



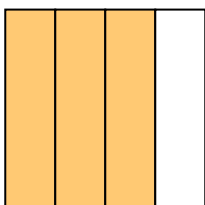
- A. три четверти
- B. три четверти
- C. одна половина

7)



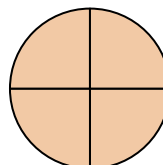
- A. две четверти
- B. две половинки
- C. одна половина

8)



- A. три четверти
- B. одна четверть
- C. две половинки

9)



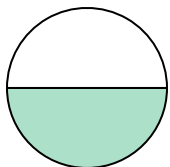
- A. две половинки
- B. три четверти
- C. три четверти

- 1. _____
- 2. _____
- 3. _____
- 4. _____
- 5. _____
- 6. _____
- 7. _____
- 8. _____
- 9. _____




Определите под какой буквой находятся соответствующие дроби.

1)



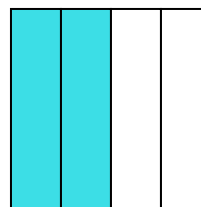
- A. одна половина
B. две половинки
C. четыре четверти

2)



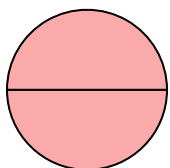
- A. две половинки
B. одна половина
C. одна четвертая

3)



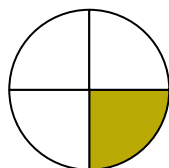
- A. три четверти
B. одна четверть
C. две четверти

4)



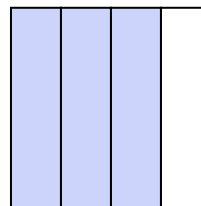
- A. две половинки
B. три четверти
C. одна четверть

5)



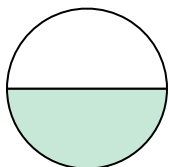
- A. три четверти
B. одна четвертая
C. две четверти

6)



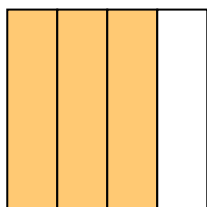
- A. три четверти
B. три четверти
C. одна половина

7)



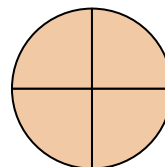
- A. две четверти
B. две половинки
C. одна половина

8)



- A. три четверти
B. одна четверть
C. две половинки

9)



- A. две половинки
B. три четверти
C. три четверти

ОТВЕТЫ1. **A** 2. **A** 3. **C** 4. **A** 5. **B** 6. **A** 7. **C** 8. **A** 9. **C**