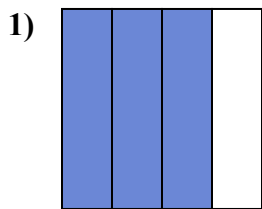


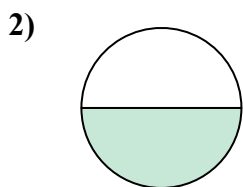


Определите под какой буквой находятся соответствующие дроби.

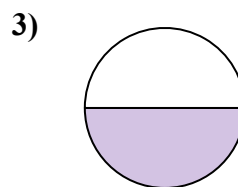
**ОТВЕТЫ**



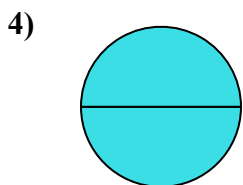
- A. три четверти
- B. три четверти
- C. одна четверть



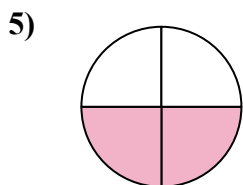
- A. одна половина
- B. две четверти
- C. одна четвертая



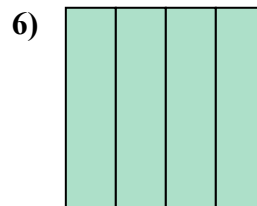
- A. три четверти
- B. одна половина
- C. две половинки



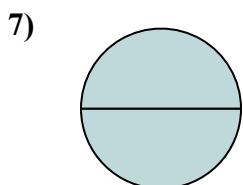
- A. одна четверть
- B. четыре четверти
- C. две половинки



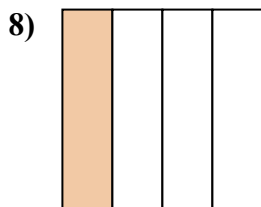
- A. две четверти
- B. одна половина
- C. четыре четверти



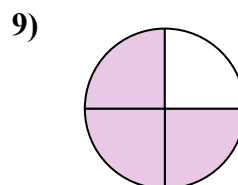
- A. четыре четверти
- B. одна четверть
- C. одна половина



- A. две половинки
- B. одна половина
- C. три четверти



- A. две половинки
- B. одна четвертая
- C. две четверти



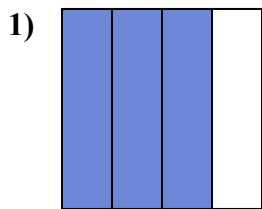
- A. три четверти
- B. три четверти
- C. две половинки

- 1. \_\_\_\_\_
- 2. \_\_\_\_\_
- 3. \_\_\_\_\_
- 4. \_\_\_\_\_
- 5. \_\_\_\_\_
- 6. \_\_\_\_\_
- 7. \_\_\_\_\_
- 8. \_\_\_\_\_
- 9. \_\_\_\_\_

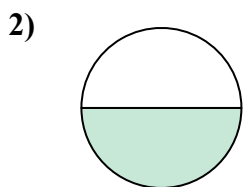


Определите под какой буквой находятся соответствующие дроби.

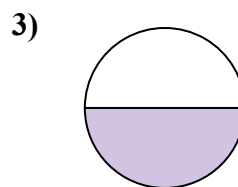
**ОТВЕТЫ**



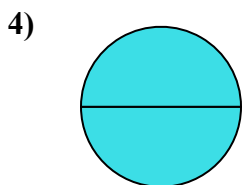
- A. три четверти
- B. три четверти
- C. одна четверть



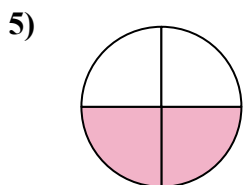
- A. одна половина
- B. две четверти
- C. одна четвертая



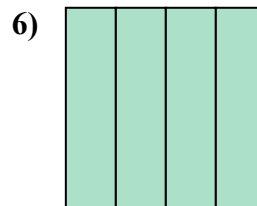
- A. три четверти
- B. одна половина
- C. две половинки



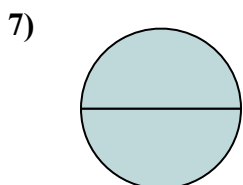
- A. одна четверть
- B. четыре четверти
- C. две половинки



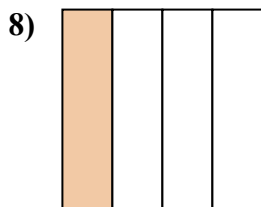
- A. две четверти
- B. одна половина
- C. четыре четверти



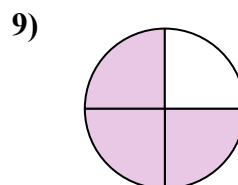
- A. четыре четверти
- B. одна четверть
- C. одна половина



- A. две половинки
- B. одна половина
- C. три четверти



- A. две половинки
- B. одна четвертая
- C. две четверти



- A. три четверти
- B. три четверти
- C. две половинки

1. В

2. А

3. В

4. С

5. А

6. А

7. А

8. В

9. В