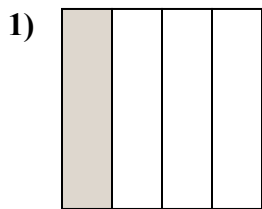


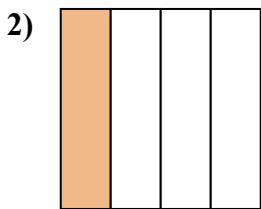


Определите под какой буквой находятся соответствующие дроби.

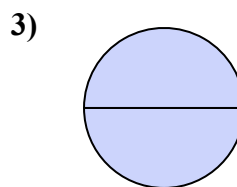
**ОТВЕТЫ**



- A. одна четвертая
- B. три четверти
- C. одна половина



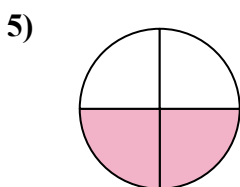
- A. одна половина
- B. одна четвертая
- C. две половинки



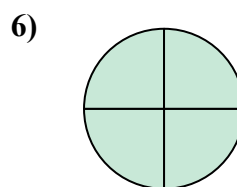
- A. одна половина
- B. одна четвертая
- C. две половинки



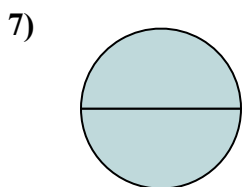
- A. две половинки
- B. три четверти
- C. одна половина



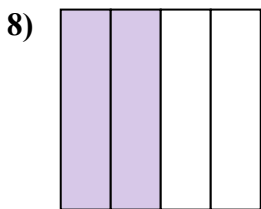
- A. две четверти
- B. три четверти
- C. две половинки



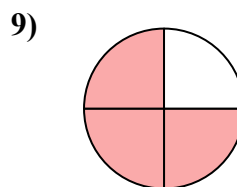
- A. две четверти
- B. три четверти
- C. одна половина



- A. одна четверть
- B. две половинки
- C. три четверти



- A. четыре четверти
- B. две четверти
- C. две половинки



- A. две половинки
- B. три четверти
- C. две четверти

1. \_\_\_\_\_

2. \_\_\_\_\_

3. \_\_\_\_\_

4. \_\_\_\_\_

5. \_\_\_\_\_

6. \_\_\_\_\_

7. \_\_\_\_\_

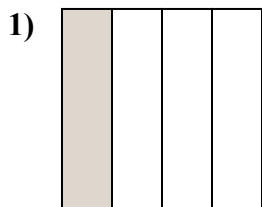
8. \_\_\_\_\_

9. \_\_\_\_\_

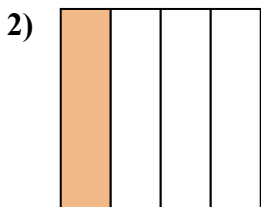


Определите под какой буквой находятся соответствующие дроби.

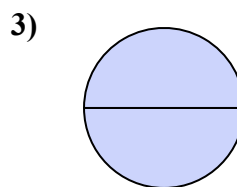
**ОТВЕТЫ**



- A. одна четвертая
- B. три четверти
- C. одна половина



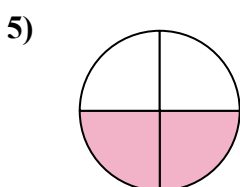
- A. одна половина
- B. одна четвертая
- C. две половинки



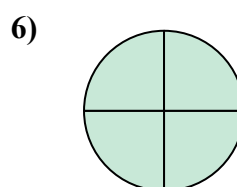
- A. одна половина
- B. одна четвертая
- C. две половинки



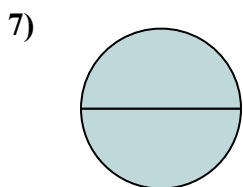
- A. две половинки
- B. три четверти
- C. одна половина



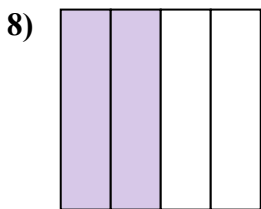
- A. две четверти
- B. три четверти
- C. две половинки



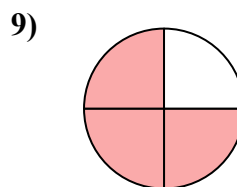
- A. две четверти
- B. три четверти
- C. одна половина



- A. одна четверть
- B. две половинки
- C. три четверти



- A. четыре четверти
- B. две четверти
- C. две половинки



- A. две половинки
- B. три четверти
- C. две четверти

1.   **A**  

2.   **B**  

3.   **C**  

4.   **C**  

5.   **A**  

6.   **B**  

7.   **B**  

8.   **B**  

9.   **B**