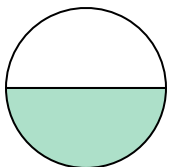




Определите под какой буквой находятся соответствующие дроби.

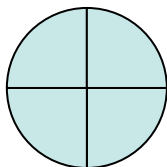
ОТВЕТЫ

1)



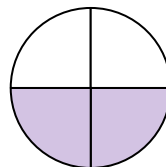
- A. две четверти
- B. одна половина
- C. одна четвертая

2)



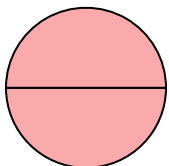
- A. две половинки
- B. три четверти
- C. одна половина

3)



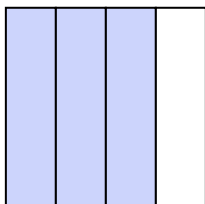
- A. две четверти
- B. три четверти
- C. одна четверть

4)




- A. четыре четверти
- B. две четверти
- C. две половинки

5)




- A. три четверти
- B. две четверти
- C. три четверти

6)



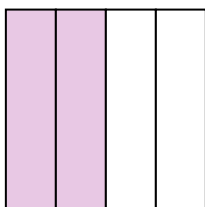
- A. одна четвертая
- B. две половинки
- C. одна половина

7)



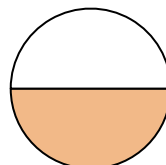
- A. две четверти
- B. четыре четверти
- C. три четверти

8)



- A. одна половина
- B. две четверти
- C. три четверти

9)



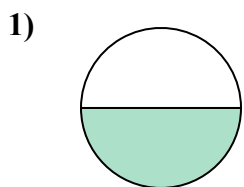
- A. две половинки
- B. две четверти
- C. одна половина

- 1. _____
- 2. _____
- 3. _____
- 4. _____
- 5. _____
- 6. _____
- 7. _____
- 8. _____
- 9. _____

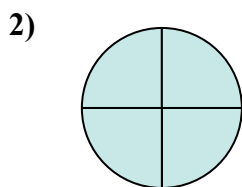


Определите под какой буквой находятся соответствующие дроби.

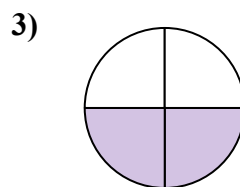
ОТВЕТЫ



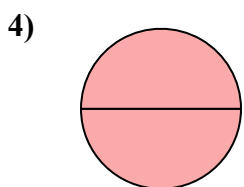
- A. две четверти
- B. одна половина
- C. одна четвертая



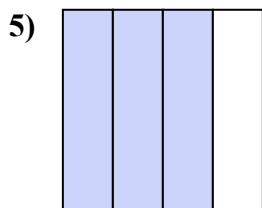
- A. две половинки
- B. три четверти
- C. одна половина



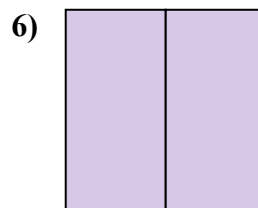
- A. две четверти
- B. три четверти
- C. одна четверть



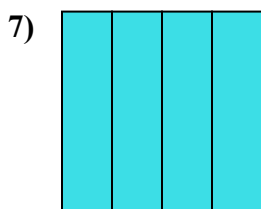
- A. четыре четверти
- B. две четверти
- C. две половинки



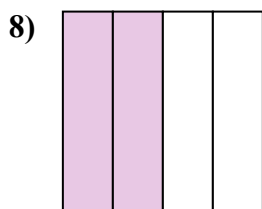
- A. три четверти
- B. две четверти
- C. три четверти



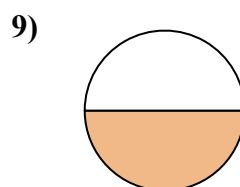
- A. одна четвертая
- B. две половинки
- C. одна половина



- A. две четверти
- B. четыре четверти
- C. три четверти



- A. одна половина
- B. две четверти
- C. три четверти



- A. две половинки
- B. две четверти
- C. одна половина

1. В

2. В

3. А

4. С

5. А

6. В

7. В

8. В

9. С