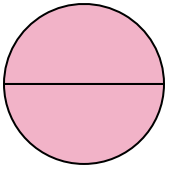




Определите под какой буквой находятся соответствующие дроби.


ОТВЕТЫ

1)



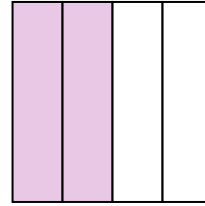
- A. две половинки
- B. одна четверть
- C. две четверти

2)



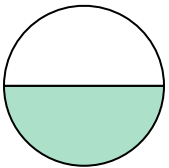
- A. одна половина
- B. три четверти
- C. две половинки

3)



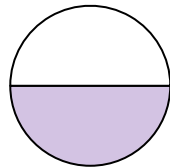
- A. две четверти
- B. одна четвертая
- C. три четверти

4)



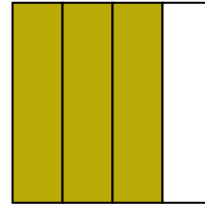
- A. две четверти
- B. три четверти
- C. одна половина

5)



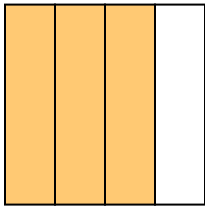
- A. три четверти
- B. одна половина
- C. две четверти

6)



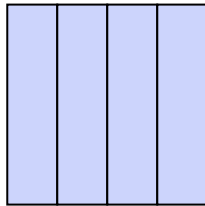
- A. одна четвертая
- B. две четверти
- C. три четверти

7)



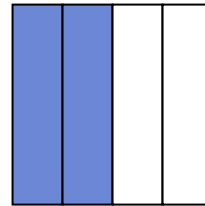
- A. две четверти
- B. четыре четверти
- C. три четверти

8)



- A. две четверти
- B. одна половина
- C. четыре четверти

9)



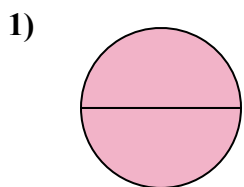
- A. две половинки
- B. две четверти
- C. одна четвертая

- 1. _____
- 2. _____
- 3. _____
- 4. _____
- 5. _____
- 6. _____
- 7. _____
- 8. _____
- 9. _____




Определите под какой буквой находятся соответствующие дроби.

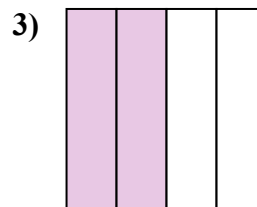
ОТВЕТЫ



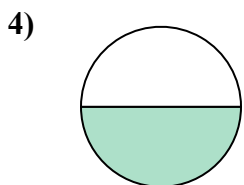
- A. две половинки
- B. одна четверть
- C. две четверти



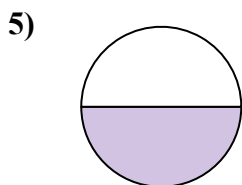
- A. одна половина
- B. три четверти
- C. две половинки



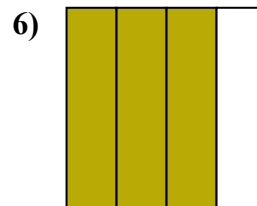
- A. две четверти
- B. одна четвертая
- C. три четверти



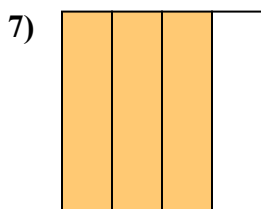
- A. две четверти
- B. три четверти
- C. одна половина



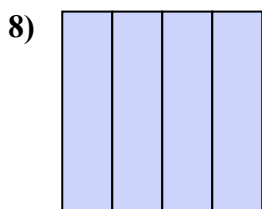
- A. три четверти
- B. одна половина
- C. две четверти



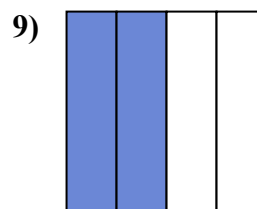
- A. одна четвертая
- B. две четверти
- C. три четверти



- A. две четверти
- B. четыре четверти
- C. три четверти



- A. две четверти
- B. одна половина
- C. четыре четверти



- A. две половинки
- B. две четверти
- C. одна четвертая

1. **A**

2. **C**

3. **A**

4. **C**

5. **B**

6. **C**

7. **C**

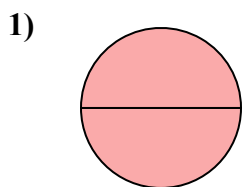
8. **C**

9. **B**

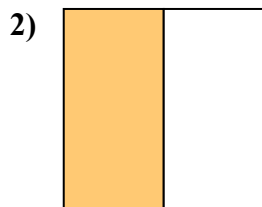


Определите под какой буквой находятся соответствующие дроби.

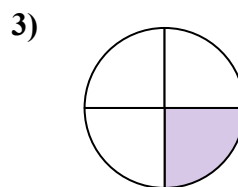
ОТВЕТЫ



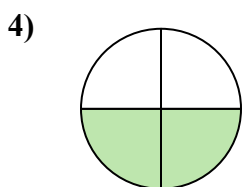
- A. одна половина
- B. две четверти
- C. две половинки



- A. две четверти
- B. три четверти
- C. одна половина



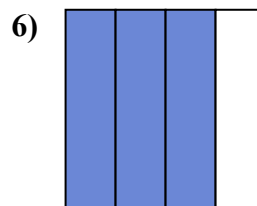
- A. две четверти
- B. одна четверть
- C. одна половина



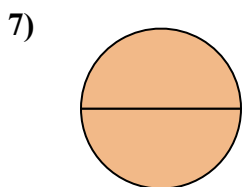
- A. три четверти
- B. две четверти
- C. одна половина



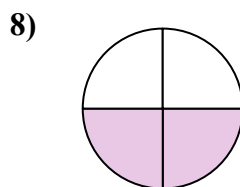
- A. одна половина
- B. три четверти
- C. одна четвертая



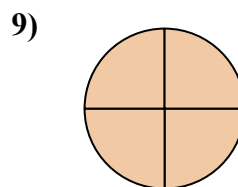
- A. одна половина
- B. три четверти
- C. четыре четверти



- A. две четверти
- B. две половинки
- C. одна половина



- A. две четверти
- B. одна половина
- C. три четверти



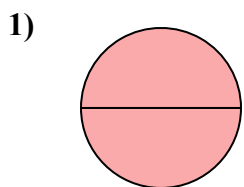
- A. три четверти
- B. две половинки
- C. три четверти

1. _____
2. _____
3. _____
4. _____
5. _____
6. _____
7. _____
8. _____
9. _____

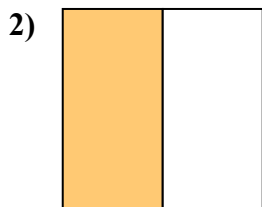


Определите под какой буквой находятся соответствующие дроби.

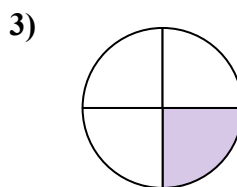
ОТВЕТЫ



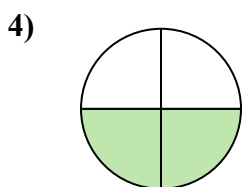
- A. одна половина
- B. две четверти
- C. две половинки



- A. две четверти
- B. три четверти
- C. одна половина



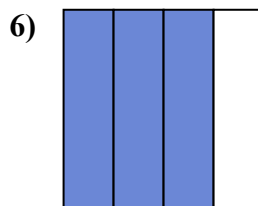
- A. две четверти
- B. одна четверть
- C. одна половина



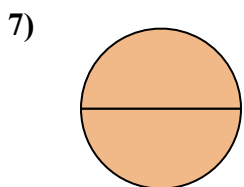
- A. три четверти
- B. две четверти
- C. одна половина



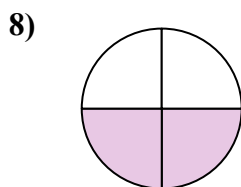
- A. одна половина
- B. три четверти
- C. одна четвертая



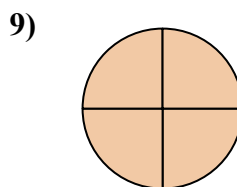
- A. одна половина
- B. три четверти
- C. четыре четверти



- A. две четверти
- B. две половинки
- C. одна половина



- A. две четверти
- B. одна половина
- C. три четверти



- A. три четверти
- B. две половинки
- C. три четверти

1. **C**

2. **C**

3. **B**

4. **B**

5. **A**

6. **B**

7. **B**

8. **A**

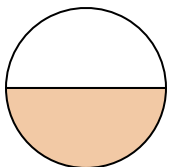
9. **C**



Определите под какой буквой находятся соответствующие дроби.


ОТВЕТЫ

1)



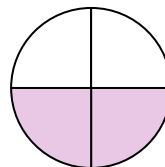
- A. три четверти
- B. одна половина
- C. две четверти

2)



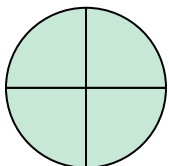
- A. одна четверть
- B. три четверти
- C. две половинки

3)



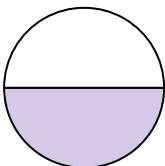
- A. одна четвертая
- B. одна половина
- C. две четверти

4)




- A. две половинки
- B. три четверти
- C. три четверти

5)




- A. одна половина
- B. две четверти
- C. три четверти

6)



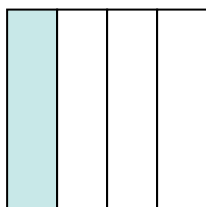
- A. две половинки
- B. одна четвертая
- C. две четверти

7)



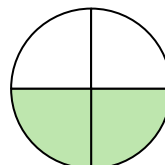
- A. одна половина
- B. две половинки
- C. одна четвертая

8)



- A. одна четверть
- B. три четверти
- C. две половинки

9)

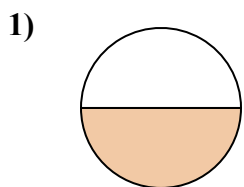


- A. две четверти
- B. одна четверть
- C. одна половина

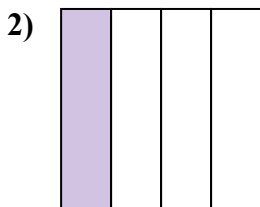
- 1. _____
- 2. _____
- 3. _____
- 4. _____
- 5. _____
- 6. _____
- 7. _____
- 8. _____
- 9. _____



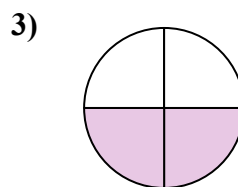
Определите под какой буквой находятся соответствующие дроби.



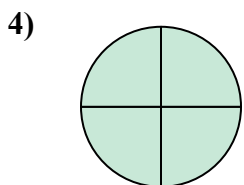
- A. три четверти
- B. одна половина
- C. две четверти



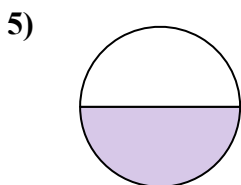
- A. одна четверть
- B. три четверти
- C. две половинки



- A. одна четвертая
- B. одна половина
- C. две четверти




- A. две половинки
- B. три четверти
- C. три четверти



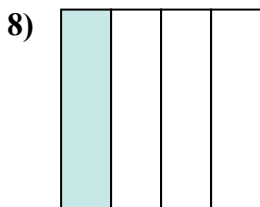
- A. одна половина
- B. две четверти
- C. три четверти



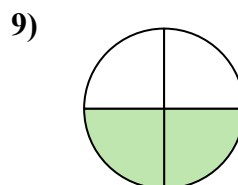
- A. две половинки
- B. одна четвертая
- C. две четверти



- A. одна половина
- B. две половинки
- C. одна четвертая



- A. одна четверть
- B. три четверти
- C. две половинки



- A. две четверти
- B. одна четверть
- C. одна половина

ОТВЕТЫ

1. **B**

2. **A**

3. **C**

4. **B**

5. **A**

6. **A**

7. **B**

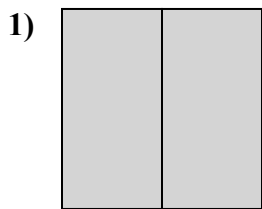
8. **A**

9. **A**

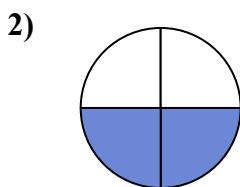


Определите под какой буквой находятся соответствующие дроби.

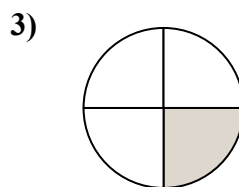
ОТВЕТЫ



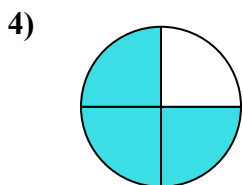
- A. две четверти
- B. две половинки
- C. три четверти



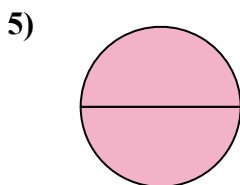
- A. три четверти
- B. три четверти
- C. две четверти



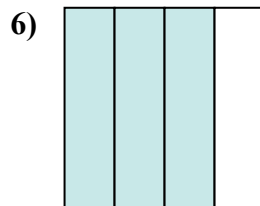
- A. две четверти
- B. одна четвертая
- C. две половинки



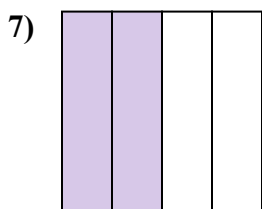
- A. две четверти
- B. три четверти
- C. две половинки



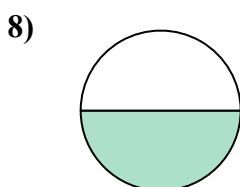
- A. одна четвертая
- B. три четверти
- C. две половинки



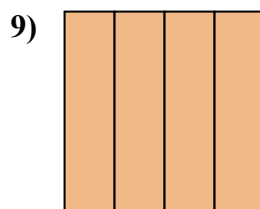
- A. одна четвертая
- B. три четверти
- C. две половинки



- A. одна четверть
- B. три четверти
- C. две четверти



- A. две половинки
- B. одна половина
- C. две четверти



- A. четыре четверти
- B. три четверти
- C. одна половина

1. _____

2. _____

3. _____

4. _____

5. _____

6. _____

7. _____


8. _____

9. _____

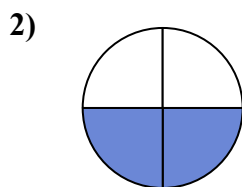


Определите под какой буквой находятся соответствующие дроби.

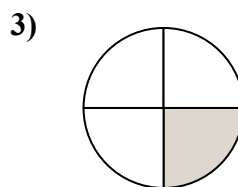
ОТВЕТЫ



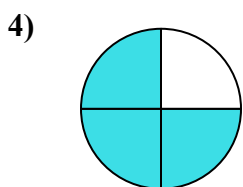
- A. две четверти
- B. две половинки
- C. три четверти



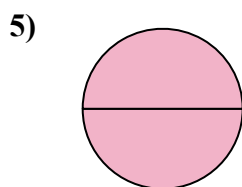
- A. три четверти
- B. три четверти
- C. две четверти



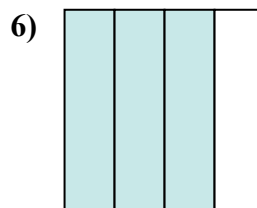
- A. две четверти
- B. одна четвертая
- C. две половинки



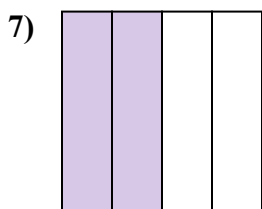
- A. две четверти
- B. три четверти
- C. две половинки



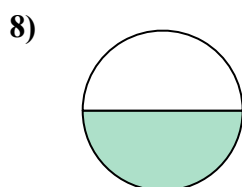
- A. одна четвертая
- B. три четверти
- C. две половинки



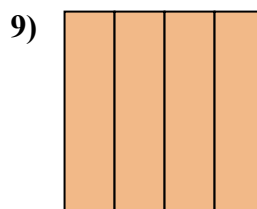
- A. одна четвертая
- B. три четверти
- C. две половинки



- A. одна четверть
- B. три четверти
- C. две четверти



- A. две половинки
- B. одна половина
- C. две четверти



- A. четыре четверти
- B. три четверти
- C. одна половина

1. В

2. С

3. В

4. В

5. С

6. В

7. С

8. В

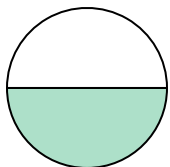
9. А



Определите под какой буквой находятся соответствующие дроби.


ОТВЕТЫ

1)



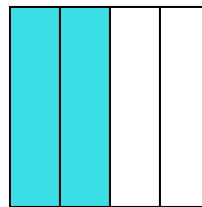
- A. одна половина
- B. две половинки
- C. четыре четверти

2)



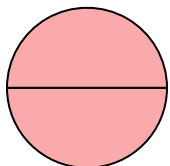
- A. две половинки
- B. одна половина
- C. одна четвертая

3)



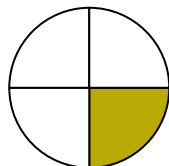
- A. три четверти
- B. одна четверть
- C. две четверти

4)



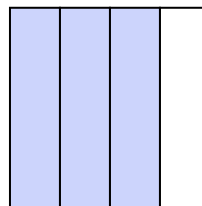
- A. две половинки
- B. три четверти
- C. одна четверть

5)



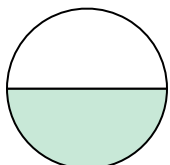
- A. три четверти
- B. одна четвертая
- C. две четверти

6)



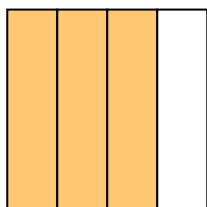
- A. три четверти
- B. три четверти
- C. одна половина

7)



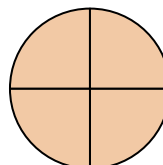
- A. две четверти
- B. две половинки
- C. одна половина

8)



- A. три четверти
- B. одна четверть
- C. две половинки

9)



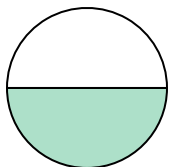
- A. две половинки
- B. три четверти
- C. три четверти

- 1. _____
- 2. _____
- 3. _____
- 4. _____
- 5. _____
- 6. _____
- 7. _____
- 8. _____
- 9. _____




Определите под какой буквой находятся соответствующие дроби.

1)



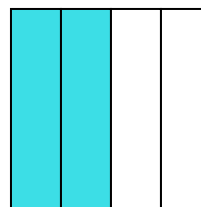
- A. одна половина
- B. две половинки
- C. четыре четверти

2)



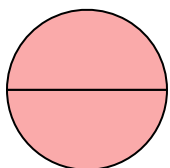
- A. две половинки
- B. одна половина
- C. одна четвертая

3)



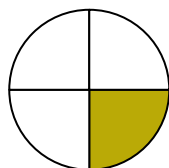
- A. три четверти
- B. одна четверть
- C. две четверти

4)



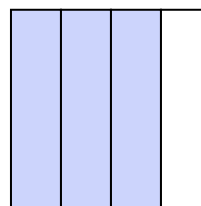
- A. две половинки
- B. три четверти
- C. одна четверть

5)



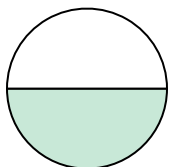
- A. три четверти
- B. одна четвертая
- C. две четверти

6)



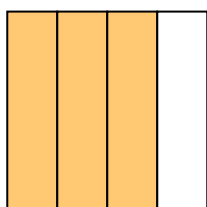
- A. три четверти
- B. три четверти
- C. одна половина

7)



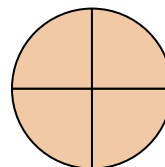
- A. две четверти
- B. две половинки
- C. одна половина

8)



- A. три четверти
- B. одна четверть
- C. две половинки

9)



- A. две половинки
- B. три четверти
- C. три четверти

ОТВЕТЫ

1. **A**

2. **A**

3. **C**

4. **A**

5. **B**

6. **A**

7. **C**

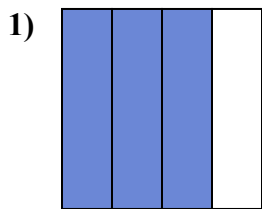
8. **A**

9. **C**

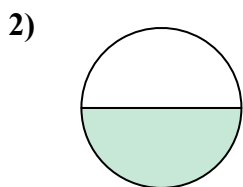


Определите под какой буквой находятся соответствующие дроби.

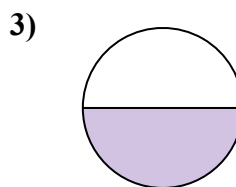
ОТВЕТЫ



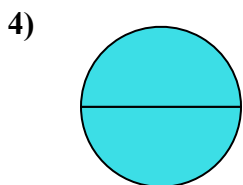
- A. три четверти
- B. три четверти
- C. одна четверть



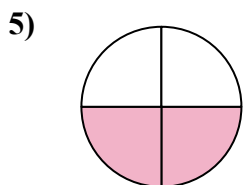
- A. одна половина
- B. две четверти
- C. одна четвертая



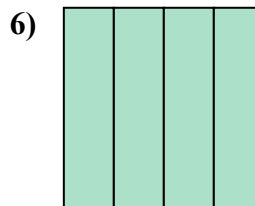
- A. три четверти
- B. одна половина
- C. две половинки



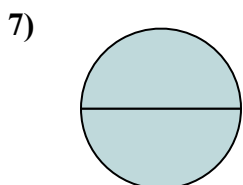
- A. одна четверть
- B. четыре четверти
- C. две половинки



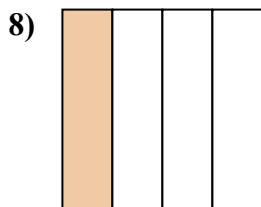
- A. две четверти
- B. одна половина
- C. четыре четверти



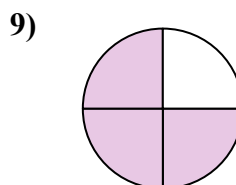
- A. четыре четверти
- B. одна четверть
- C. одна половина



- A. две половинки
- B. одна половина
- C. три четверти



- A. две половинки
- B. одна четвертая
- C. две четверти



- A. три четверти
- B. три четверти
- C. две половинки

1. _____

2. _____

3. _____

4. _____

5. _____

6. _____

7. _____

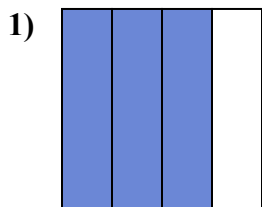
8. _____

9. _____

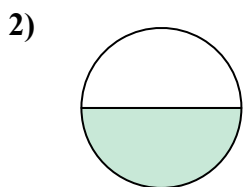


Определите под какой буквой находятся соответствующие дроби.

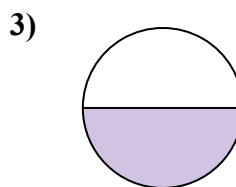
ОТВЕТЫ



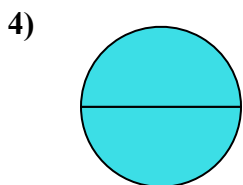
- A. три четверти
- B. три четверти
- C. одна четверть



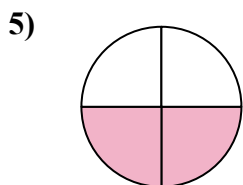
- A. одна половина
- B. две четверти
- C. одна четвертая



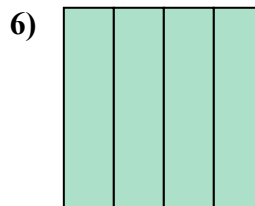
- A. три четверти
- B. одна половина
- C. две половинки



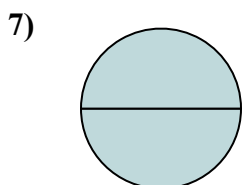
- A. одна четверть
- B. четыре четверти
- C. две половинки



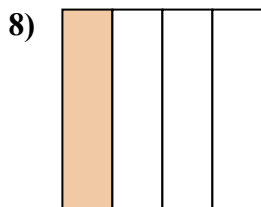
- A. две четверти
- B. одна половина
- C. четыре четверти



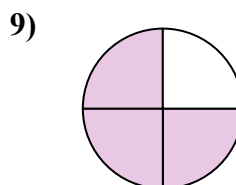
- A. четыре четверти
- B. одна четверть
- C. одна половина



- A. две половинки
- B. одна половина
- C. три четверти



- A. две половинки
- B. одна четвертая
- C. две четверти



- A. три четверти
- B. три четверти
- C. две половинки

1. **B**

2. **A**

3. **B**

4. **C**

5. **A**

6. **A**

7. **A**

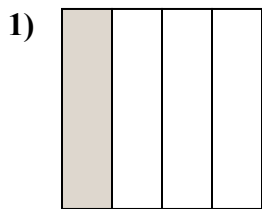
8. **B**

9. **B**

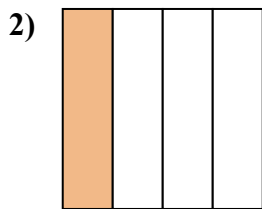


Определите под какой буквой находятся соответствующие дроби.

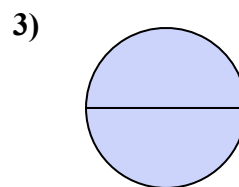
ОТВЕТЫ



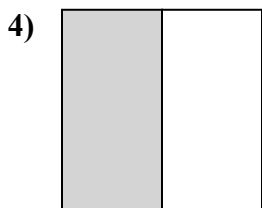
- A. одна четвертая
- B. три четверти
- C. одна половина



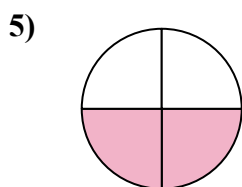
- A. одна половина
- B. одна четвертая
- C. две половинки



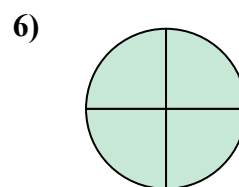
- A. одна половина
- B. одна четвертая
- C. две половинки



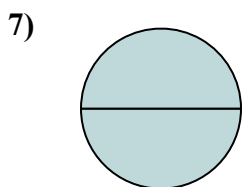
- A. две половинки
- B. три четверти
- C. одна половина



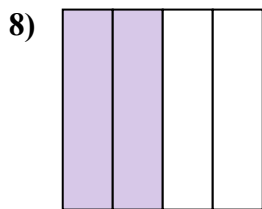
- A. две четверти
- B. три четверти
- C. две половинки



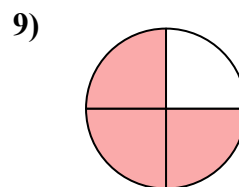
- A. две четверти
- B. три четверти
- C. одна половина



- A. одна четверть
- B. две половинки
- C. три четверти



- A. четыре четверти
- B. две четверти
- C. две половинки



- A. две половинки
- B. три четверти
- C. две четверти

1. _____

2. _____

3. _____

4. _____

5. _____

6. _____

7. _____

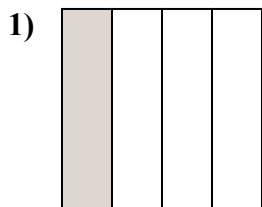
8. _____

9. _____

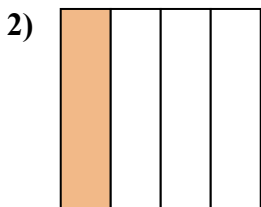


Определите под какой буквой находятся соответствующие дроби.

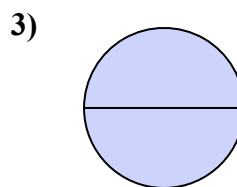
ОТВЕТЫ



- A. одна четвертая
- B. три четверти
- C. одна половина



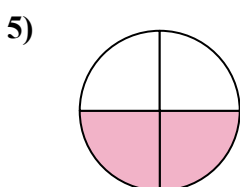
- A. одна половина
- B. одна четвертая
- C. две половинки



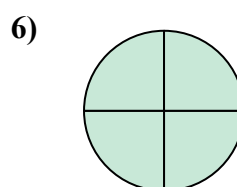
- A. одна половина
- B. одна четвертая
- C. две половинки



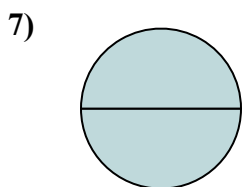
- A. две половинки
- B. три четверти
- C. одна половина



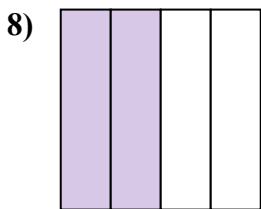
- A. две четверти
- B. три четверти
- C. две половинки



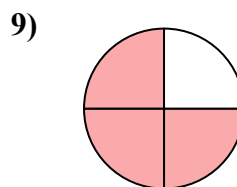
- A. две четверти
- B. три четверти
- C. одна половина



- A. одна четверть
- B. две половинки
- C. три четверти



- A. четыре четверти
- B. две четверти
- C. две половинки



- A. две половинки
- B. три четверти
- C. две четверти

1. **A**

2. **B**

3. **C**

4. **C**

5. **A**

6. **B**

7. **B**

8. **B**

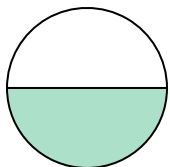
9. **B**



Определите под какой буквой находятся соответствующие дроби.

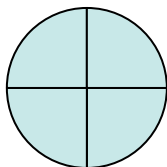
ОТВЕТЫ

1)



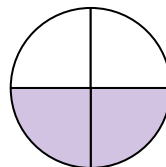
- A. две четверти
- B. одна половина
- C. одна четвертая

2)



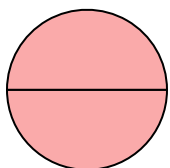
- A. две половинки
- B. три четверти
- C. одна половина

3)



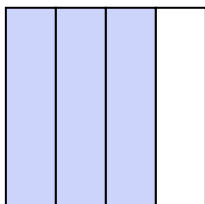
- A. две четверти
- B. три четверти
- C. одна четверть

4)




- A. четыре четверти
- B. две четверти
- C. две половинки

5)




- A. три четверти
- B. две четверти
- C. три четверти

6)



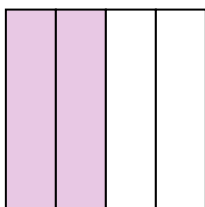
- A. одна четвертая
- B. две половинки
- C. одна половина

7)



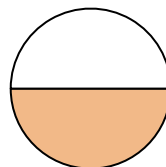
- A. две четверти
- B. четыре четверти
- C. три четверти

8)



- A. одна половина
- B. две четверти
- C. три четверти

9)



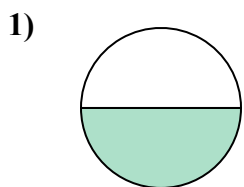
- A. две половинки
- B. две четверти
- C. одна половина

- 1. _____
- 2. _____
- 3. _____
- 4. _____
- 5. _____
- 6. _____
- 7. _____
- 8. _____
- 9. _____

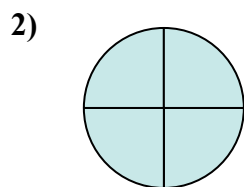


Определите под какой буквой находятся соответствующие дроби.

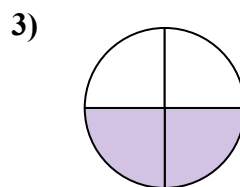
ОТВЕТЫ



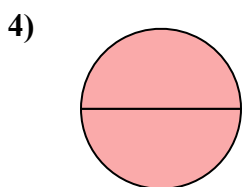
- A. две четверти
- B. одна половина
- C. одна четвертая



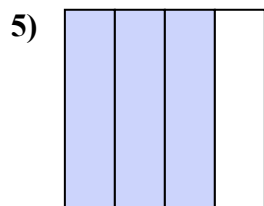
- A. две половинки
- B. три четверти
- C. одна половина



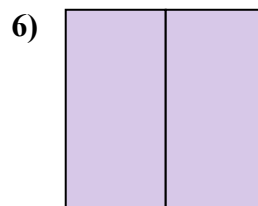
- A. две четверти
- B. три четверти
- C. одна четверть



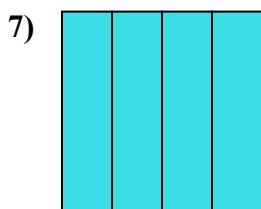
- A. четыре четверти
- B. две четверти
- C. две половинки



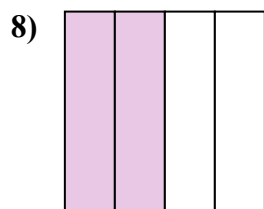
- A. три четверти
- B. две четверти
- C. три четверти



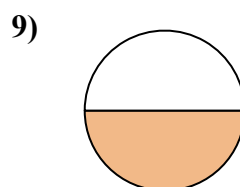
- A. одна четвертая
- B. две половинки
- C. одна половина



- A. две четверти
- B. четыре четверти
- C. три четверти



- A. одна половина
- B. две четверти
- C. три четверти



- A. две половинки
- B. две четверти
- C. одна половина

1. **B**

2. **B**

3. **A**

4. **C**

5. **A**

6. **B**

7. **B**

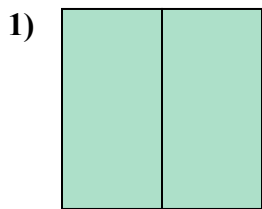
8. **B**

9. **C**

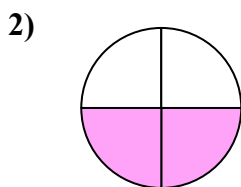


Определите под какой буквой находятся соответствующие дроби.

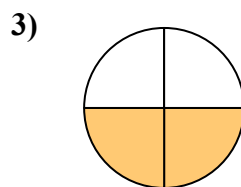
ОТВЕТЫ



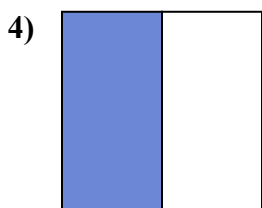
- A. две половинки
- B. одна четвертая
- C. одна половина



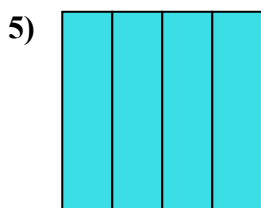
- A. две четверти
- B. две половинки
- C. одна половина



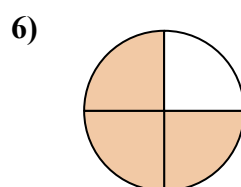
- A. две четверти
- B. две половинки
- C. одна четверть



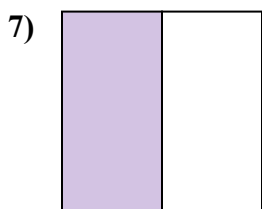
- A. три четверти
- B. одна половина
- C. три четверти



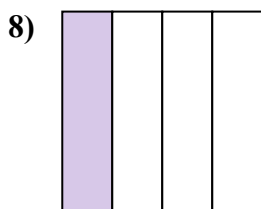
- A. две четверти
- B. четыре четверти
- C. две половинки



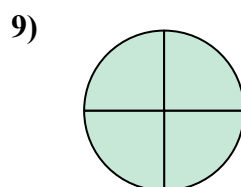
- A. три четверти
- B. четыре четверти
- C. одна четверть



- A. три четверти
- B. три четверти
- C. одна половина



- A. две четверти
- B. три четверти
- C. одна четвертая



- A. три четверти
- B. две половинки
- C. три четверти

1. _____

2. _____

3. _____

4. _____

5. _____

6. _____


7. _____

8. _____

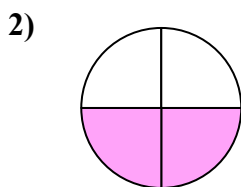
9. _____



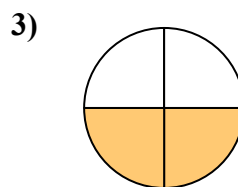
Определите под какой буквой находятся соответствующие дроби.



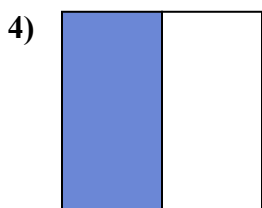
- A. две половинки
- B. одна четвертая
- C. одна половина



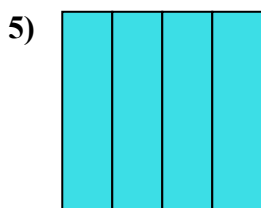
- A. две четверти
- B. две половинки
- C. одна половина



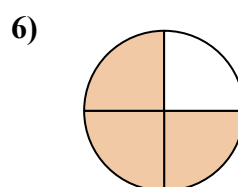
- A. две четверти
- B. две половинки
- C. одна четверть



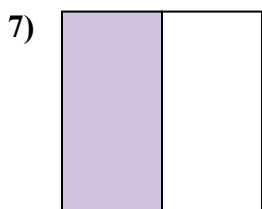
- A. три четверти
- B. одна половина
- C. три четверти



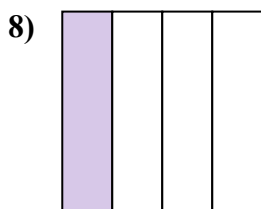
- A. две четверти
- B. четыре четверти
- C. две половинки



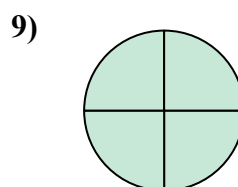
- A. три четверти
- B. четыре четверти
- C. одна четверть



- A. три четверти
- B. три четверти
- C. одна половина



- A. две четверти
- B. три четверти
- C. одна четвертая



- A. три четверти
- B. две половинки
- C. три четверти

ОТВЕТЫ

1. **A**

2. **A**

3. **A**

4. **B**

5. **B**

6. **A**

7. **C**

8. **C**

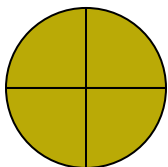
9. **C**



Определите под какой буквой находятся соответствующие дроби.


ОТВЕТЫ

1)




- A. две половинки
- B. три четверти
- C. одна половина

2)



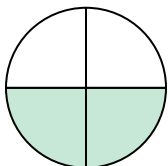
- A. одна четверть
- B. две четверти
- C. две половинки

3)



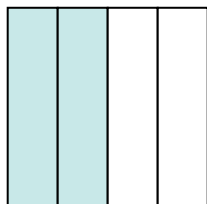
- A. две половинки
- B. две четверти
- C. три четверти

4)




- A. две четверти
- B. одна четвертая
- C. одна половина

5)




- A. четыре четверти
- B. три четверти
- C. две четверти

6)



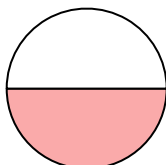
- A. одна половина
- B. две половинки
- C. три четверти

7)



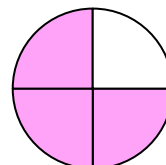
- A. одна половина
- B. одна четверть
- C. две половинки

8)



- A. одна половина
- B. одна четверть
- C. две четверти

9)

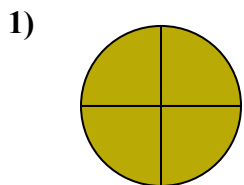


- A. три четверти
- B. одна четверть
- C. четыре четверти

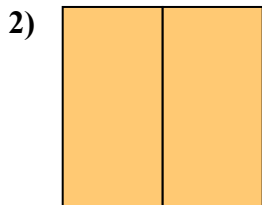
- 1. _____
- 2. _____
- 3. _____
- 4. _____
- 5. _____
- 6. _____
- 7. _____
- 8. _____
- 9. _____



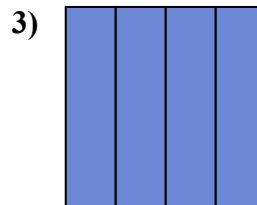
Определите под какой буквой находятся соответствующие дроби.



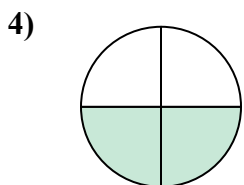
- A. две половинки
- B. три четверти
- C. одна половина



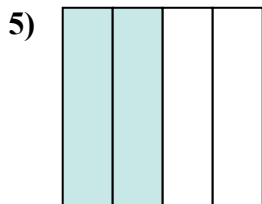
- A. одна четверть
- B. две четверти
- C. две половинки



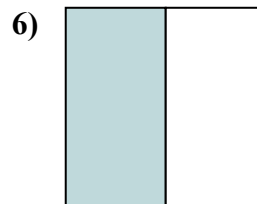
- A. две половинки
- B. две четверти
- C. три четверти



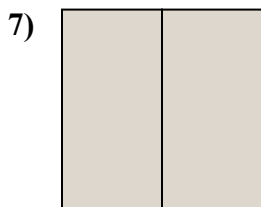
- A. две четверти
- B. одна четвертая
- C. одна половина



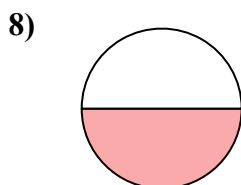
- A. четыре четверти
- B. три четверти
- C. две четверти



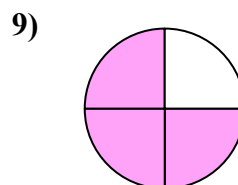
- A. одна половина
- B. две половинки
- C. три четверти



- A. одна половина
- B. одна четверть
- C. две половинки



- A. одна половина
- B. одна четверть
- C. две четверти



- A. три четверти
- B. одна четверть
- C. четыре четверти

ОТВЕТЫ

1. В

2. С

3. С

4. А

5. С

6. А

7. С

8. А

9. А