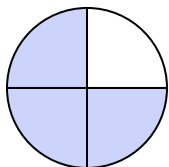




Определите под какой буквой находятся соответствующие дроби.

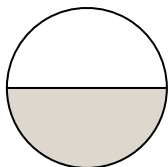
ОТВЕТЫ

1)



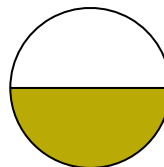
- A. три четверти
B. одна четвертая
C. три четверти

2)



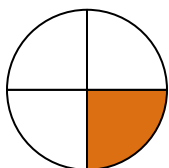
- A. одна половина
B. две половинки
C. одна четвертая

3)



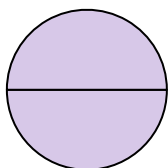
- A. две четверти
B. одна половина
C. четыре четверти

4)



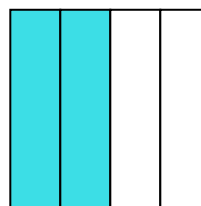
- A. одна четвертая
B. две четверти
C. одна половина

5)



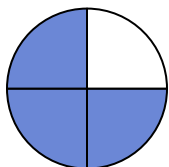
- A. одна четвертая
B. три четверти
C. две половинки

6)



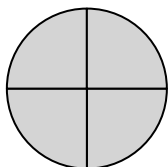
- A. одна четвертая
B. две четверти
C. две половинки

7)



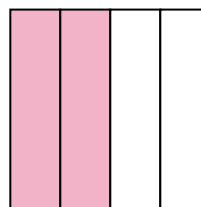
- A. две половинки
B. три четверти
C. три четверти

8)



- A. четыре четверти
B. одна половина
C. одна четвертая

9)



- A. одна половина
B. четыре четверти
C. две четверти

1. _____

2. _____

3. _____

4. _____

5. _____

6. _____

7. _____

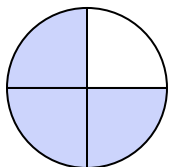
8. _____

9. _____



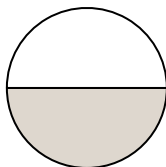
Определите под какой буквой находятся соответствующие дроби.

1)



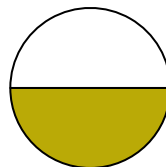
- A. три четверти
- B. одна четвертая
- C. три четверти

2)



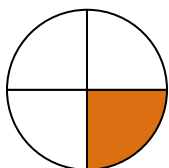
- A. одна половина
- B. две половинки
- C. одна четвертая

3)



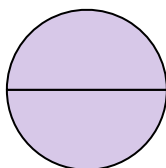
- A. две четверти
- B. одна половина
- C. четыре четверти

4)



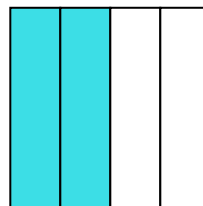
- A. одна четвертая
- B. две четверти
- C. одна половина

5)



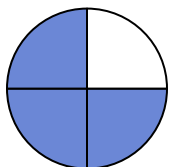
- A. одна четвертая
- B. три четверти
- C. две половинки

6)



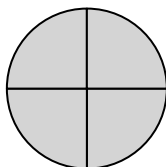
- A. одна четвертая
- B. две четверти
- C. две половинки

7)



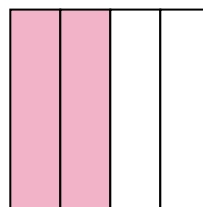
- A. две половинки
- B. три четверти
- C. три четверти

8)



- A. четыре четверти
- B. одна половина
- C. одна четвертая

9)



- A. одна половина
- B. четыре четверти
- C. две четверти

ОТВЕТЫ

1. C

2. A

3. B

4. A

5. C

6. B

7. B

8. A

9. C